



Resuelve cada problema.

Respuestas

1) $5 + 0 = \underline{\quad}$

2) $2 + 3 = \underline{\quad}$

3) $3 + 1 = \underline{\quad}$

4) $2 + 2 = \underline{\quad}$

5) $1 + 2 = \underline{\quad}$

6) $3 + 2 = \underline{\quad}$

7) $1 + 1 = \underline{\quad}$

8) $1 + 3 = \underline{\quad}$

9) $5 - 3 = \underline{\quad}$

10) $1 - 1 = \underline{\quad}$

11) $4 - 4 = \underline{\quad}$

12) $5 - 5 = \underline{\quad}$

13) $4 - 1 = \underline{\quad}$

14) $4 - 3 = \underline{\quad}$

15) $3 - 2 = \underline{\quad}$

16) $5 - 4 = \underline{\quad}$

- 1. _____
- 2. _____
- 3. _____
- 4. _____
- 5. _____
- 6. _____
- 7. _____
- 8. _____
- 9. _____
- 10. _____
- 11. _____
- 12. _____
- 13. _____
- 14. _____
- 15. _____
- 16. _____



Resuelve cada problema.

1) $5 + 0 = \underline{5}$

2) $2 + 3 = \underline{5}$

3) $3 + 1 = \underline{4}$

4) $2 + 2 = \underline{4}$

5) $1 + 2 = \underline{3}$

6) $3 + 2 = \underline{5}$

7) $1 + 1 = \underline{2}$

8) $1 + 3 = \underline{4}$

9) $5 - 3 = \underline{2}$

10) $1 - 1 = \underline{0}$

11) $4 - 4 = \underline{0}$

12) $5 - 5 = \underline{0}$

13) $4 - 1 = \underline{3}$

14) $4 - 3 = \underline{1}$

15) $3 - 2 = \underline{1}$

16) $5 - 4 = \underline{1}$


Respuestas1. 52. 53. 44. 45. 36. 57. 28. 49. 210. 011. 012. 013. 314. 115. 116. 1




Resuelve cada problema.

Respuestas


1) $5 + 0 = \underline{\quad}$




2) $2 + 3 = \underline{\quad}$




3) $3 + 1 = \underline{\quad}$




4) $2 + 2 = \underline{\quad}$




5) $1 + 2 = \underline{\quad}$



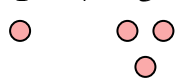
6) $3 + 2 = \underline{\quad}$



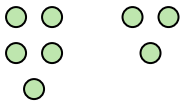
7) $1 + 1 = \underline{\quad}$




8) $1 + 3 = \underline{\quad}$




9) $5 - 3 = \underline{\quad}$



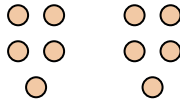
10) $1 - 1 = \underline{\quad}$




11) $4 - 4 = \underline{\quad}$




12) $5 - 5 = \underline{\quad}$




13) $4 - 1 = \underline{\quad}$



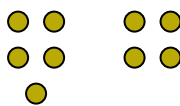
14) $4 - 3 = \underline{\quad}$



15) $3 - 2 = \underline{\quad}$



16) $5 - 4 = \underline{\quad}$



1. _____
2. _____
3. _____
4. _____
5. _____
6. _____
7. _____
8. _____
9. _____
10. _____
11. _____
12. _____
13. _____
14. _____
15. _____
16. _____