



Determina cuál letra mejor representa el peso del objeto.

Respuestas

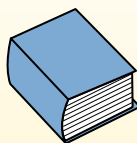
Gramo (g)

Un gramo es aproximadamente el peso de un clip.



Kilogramo (kilogramo)

Un kilogramo es aproximadamente el peso de un libro grueso.



Recuerda:

Kilo significa 1,000. Entonces, un kilogramo son 1,000 gramos. 1 kilogramo también pesa aproximadamente lo mismo que 2 libras.

1)



2 litros de Soda

- A. 50 gramos
- B. 2 kilogramos
- C. 100 gramos
- D. 3 gramos

2)



Televisor de pantalla gigante

- A. 20 gramos
- B. 20 kilogramos
- C. 100 gramos
- D. 1000 kilogramos

3)



Pala

- A. 30 kilogramos
- B. 5 kilogramos
- C. 10 gramos
- D. 1 gramo

4)



Monitor

- A. 500 kilogramos
- B. 8 kilogramos
- C. 8 gramos
- D. 500 gramos


5)



Pegamento

- A. 500 gramos
- B. 1 kilogramo
- C. 62 gramos
- D. 1 gramo

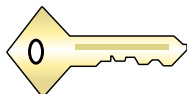
6)



Reclinadora

- A. 150 gramos
- B. 1 kilogramo
- C. 35 kilogramos
- D. 90 gramos

7)



Llave

- A. 1 gramo
- B. 100 kilogramos
- C. 100 gramos
- D. 1 kilogramo

8)



Gabinete

- A. 1 gramo
- B. 55 kilogramos
- C. 1 kilogramo
- D. 300 gramos

9)



Escoba

- A. 10 kilogramos
- B. 200 kilogramos
- C. 10 gramos
- D. 500 gramos

- 1. _____
- 2. _____
- 3. _____
- 4. _____
- 5. _____
- 6. _____
- 7. _____
- 8. _____
- 9. _____



Determina cuál letra mejor representa el peso del objeto.

Respuestas


Gramas (g)

Un gramo es aproximadamente el peso de un clip.



Kilogramo (kilogramo)


Un kilogramo es aproximadamente el peso de un libro grueso.



Recuerda:

Kilo significa 1,000. Entonces, un kilogramo son 1,000 gramos. 1 kilogramo también pesa aproximadamente lo mismo que 2 libras.

1)



- 2 litros de Soda
- A. 50 gramos
 - B. 2 kilogramos
 - C. 100 gramos
 - D. 3 gramos

2)



- Televisor de pantalla gigante
- A. 20 gramos
 - B. 20 kilogramos
 - C. 100 gramos
 - D. 1000 kilogramos

3)



- Pala
- A. 30 kilogramos
 - B. 5 kilogramos
 - C. 10 gramos
 - D. 1 gramo

4)




- Monitor
- A. 500 kilogramos
 - B. 8 kilogramos
 - C. 8 gramos
 - D. 500 gramos

5)



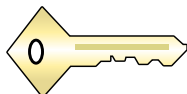
- Pegamento
- A. 500 gramos
 - B. 1 kilogramo
 - C. 62 gramos
 - D. 1 gramo

6)



- Reclinadora
- A. 150 gramos
 - B. 1 kilogramo
 - C. 35 kilogramos
 - D. 90 gramos

7)



- Llave
- A. 1 gramo
 - B. 100 kilogramos
 - C. 100 gramos
 - D. 1 kilogramo

8)



- Gabinete
- A. 1 gramo
 - B. 55 kilogramos
 - C. 1 kilogramo
 - D. 300 gramos

9)



- Escoba
- A. 10 kilogramos
 - B. 200 kilogramos
 - C. 10 gramos
 - D. 500 gramos

- 1. **B**
- 2. **B**
- 3. **B**
- 4. **B**
- 5. **C**
- 6. **C**
- 7. **C**
- 8. **B**
- 9. **D**