



Determina si el ángulo mostrado es 'mayor', 'menor' o 'igual' a 90°.

Respuestas

Ej)



1)



2)



Ej. **igual**

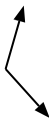
1. _____

2. _____

3)



4)



5)



3. _____

4. _____

5. _____

6)



7)



8)



6. _____

7. _____

8. _____

9)



10)



11)

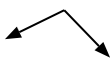


9. _____

10. _____

11. _____

12)



13)



14)



12. _____

13. _____

14. _____

15)



16)



17)



15. _____

16. _____

17. _____

18)



19)



20)



18. _____

19. _____

20. _____



Determina si el ángulo mostrado es 'mayor', 'menor' o 'igual' a 90° .

Ej)



1)



2)



Ej. igual

3)



4)

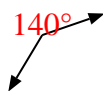


5)



1. mayor

6)



7)



8)



2. menor

9)



10)

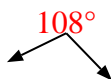


11)



3. menor

12)



13)



14)



4. mayor


15)



16)



17)



5. mayor

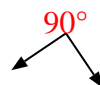
18)



19)



20)



6. mayor

7. igual

8. menor

9. menor

10. menor

11. igual

12. mayor

13. menor

14. menor

15. igual

16. mayor

17. mayor

18. igual

19. igual

20. igual