



Determina si el ángulo mostrado es 'mayor', 'menor' o 'igual' a 90°.

Respuestas

Ej)



1)



2)

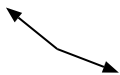


Ej. menor

1. _____

2. _____

3)



4)



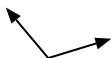
5)



3. _____

4. _____

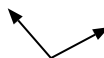
6)



7)



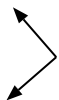
8)



5. _____

6. _____

9)



10)



11)



7. _____

8. _____

9. _____

10. _____

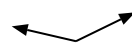
12)



13)



14)



11. _____

12. _____

13. _____

15)



16)



17)



14. _____

15. _____

16. _____

18)



19)



20)



17. _____

18. _____

19. _____

20. _____



Determina si el ángulo mostrado es 'mayor', 'menor' o 'igual' a 90° .

Ej)



1)



2)



3)



4)



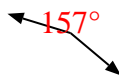
5)



6)



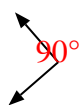
7)



8)



9)



10)



11)



12)



13)



14)



15)



16)



17)



18)



19)



20)



Respuestas

Ej. **menor**

1. **menor**

2. **menor**

3. **mayor**

4. **igual**

5. **menor**

6. **mayor**

7. **mayor**

8. **mayor**

9. **igual**

10. **menor**

11. **menor**

12. **mayor**

13. **igual**

14. **mayor**

15. **igual**

16. **igual**

17. **mayor**

18. **igual**

19. **igual**

20. **menor**