



Determina si el ángulo mostrado es 'mayor', 'menor' o 'igual' a 90°.

Ej)



1)



2)



3)



4)



5)



6)



7)



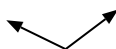
8)



9)



10)



11)



12)



13)



14)



15)



16)



17)



18)



19)



20)



Respuestas

Ej. **menor**

1. _____

2. _____

3. _____

4. _____

5. _____

6. _____

7. _____

8. _____

9. _____

10. _____

11. _____

12. _____

13. _____

14. _____

15. _____

16. _____

17. _____

18. _____

19. _____

20. _____

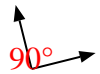


Determina si el ángulo mostrado es 'mayor', 'menor' o 'igual' a 90° .

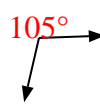
Ej)



1)



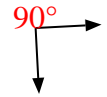
2)



3)



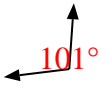
4)



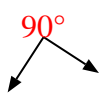
5)



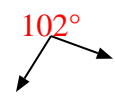
6)



7)



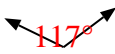
8)



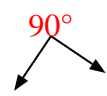
9)



10)



11)



12)



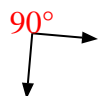
13)



14)



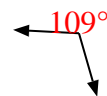
15)



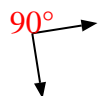
16)



17)



18)



19)



20)



Respuestas

Ej. menor

1. igual

2. mayor

3. menor

4. igual

5. menor

6. mayor

7. igual

8. mayor

9. menor

10. mayor

11. igual

12. mayor

13. menor

14. menor

15. igual

16. mayor

17. mayor

18. igual

19. igual

20. igual