



Determina si el ángulo mostrado es 'mayor', 'menor' o 'igual' a 90°.

Respuestas

Ej)



1)



2)



Ej. **igual**

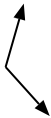
1. _____

2. _____

3)



4)



5)



3. _____

4. _____

5. _____

6)



7)



8)



6. _____

7. _____

8. _____

9)



10)



11)

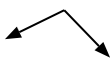


9. _____

10. _____

11. _____

12)



13)



14)



12. _____

13. _____

14. _____

15)



16)



17)



15. _____

16. _____

17. _____

18)



19)



20)



18. _____

19. _____

20. _____



Determina si el ángulo mostrado es 'mayor', 'menor' o 'igual' a 90° .

Ej)



1)



2)



Ej.

igual

3)



4)



5)



1.

mayor

2.

menor

6)



7)



8)



3.

menor

4.

mayor

5.

mayor

6.

mayor

7.

igual

9)



10)



11)



8.

menor

9.

menor

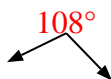
10.

menor

11.

igual

12)



13)



14)



12.

mayor

13.

menor

14.

menor

15)



16)



17)



15.

igual

16.

mayor

17.

mayor

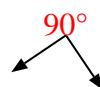
18)



19)



20)



18.

igual

19.

igual

20.

igual



Determina si el ángulo mostrado es 'mayor', 'menor' o 'igual' a 90°.

Ej)



1)



2)



Respuestas

Ej. menor

3)



4)



5)



6)



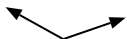
7)



8)



9)



10)



11)



12)



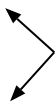
13)



14)



15)



16)



17)



18)



19)



20)



- 1. _____
- 2. _____
- 3. _____
- 4. _____
- 5. _____
- 6. _____
- 7. _____
- 8. _____
- 9. _____
- 10. _____
- 11. _____
- 12. _____
- 13. _____
- 14. _____
- 15. _____
- 16. _____
- 17. _____
- 18. _____
- 19. _____
- 20. _____

1-10	95	90	85	80	75	70	65	60	55	50
11-20	45	40	35	30	25	20	15	10	5	0



Determina si el ángulo mostrado es 'mayor', 'menor' o 'igual' a 90° .

Ej)



1)



2)



3)



4)



5)



6)



7)



8)



9)



10)



11)



12)



13)



14)



15)



16)



17)



18)



19)



20)



Respuestas

Ej. menor

1. igual

2. menor

3. menor

4. menor

5. menor

6. menor

7. igual

8. mayor

9. mayor

10. menor

11. igual

12. igual

13. mayor

14. menor

15. igual

16. igual

17. mayor

18. mayor

19. igual

20. mayor



Determina si el ángulo mostrado es 'mayor', 'menor' o 'igual' a 90°.

Respuestas

Ej)



1)



2)



Ej. **menor**

3)



4)



5)



6)



7)



8)



9)




10)



11)



12)



13)



14)



15)



16)



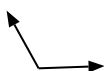
17)



18)



19)



20)



- 1. _____
- 2. _____
- 3. _____
- 4. _____
- 5. _____
- 6. _____
- 7. _____
- 8. _____
- 9. _____
- 10. _____
- 11. _____
- 12. _____
- 13. _____
- 14. _____
- 15. _____
- 16. _____
- 17. _____
- 18. _____
- 19. _____
- 20. _____

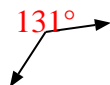


Determina si el ángulo mostrado es 'mayor', 'menor' o 'igual' a 90° .

Ej)



1)



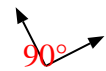
2)



3)



4)



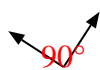
5)



6)



7)



8)



9)



10)



11)



12)



13)



14)



15)



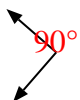
16)



17)



18)



19)



20)



Respuestas

Ej. menor

1. mayor

2. mayor

3. menor

4. igual

5. mayor

6. igual

7. igual

8. igual

9. mayor

10. menor

11. igual

12. mayor

13. mayor

14. menor

15. menor

16. igual

17. menor

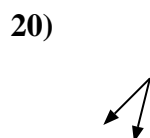
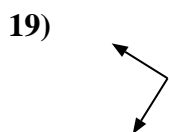
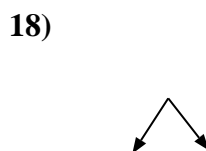
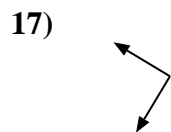
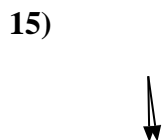
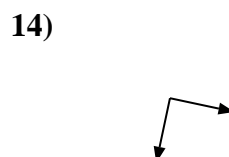
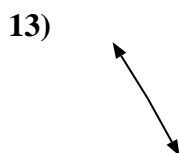
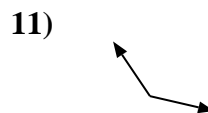
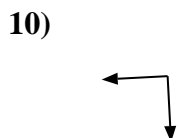
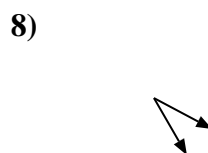
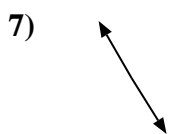
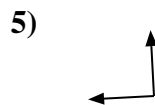
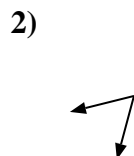
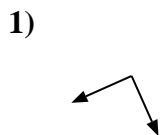
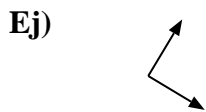
18. igual

19. mayor

20. igual



Determina si el ángulo mostrado es 'mayor', 'menor' o 'igual' a 90°.



Respuestas

Ej. igual

1. _____

2. _____

3. _____

4. _____

5. _____

6. _____

7. _____

8. _____

9. _____

10. _____

11. _____

12. _____

13. _____

14. _____

15. _____

16. _____

17. _____

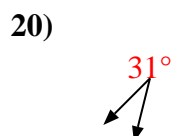
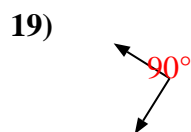
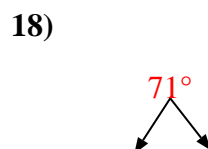
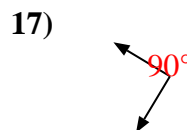
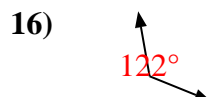
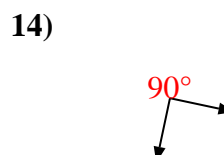
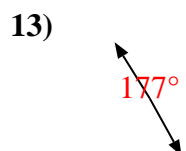
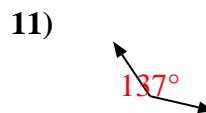
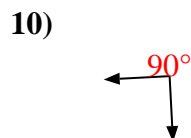
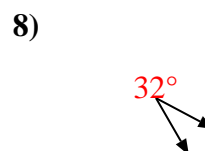
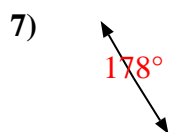
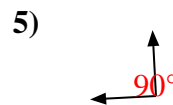
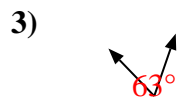
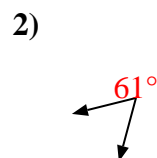
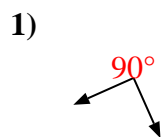
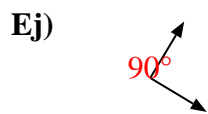
18. _____

19. _____

20. _____



Determina si el ángulo mostrado es 'mayor', 'menor' o 'igual' a 90° .



Respuestas

Ej. igual

1. igual

2. menor

3. menor

4. igual

5. igual

6. mayor

7. mayor

8. menor

9. mayor

10. igual

11. mayor

12. menor

13. mayor

14. igual

15. menor

16. mayor

17. igual

18. menor

19. igual

20. menor



Determina si el ángulo mostrado es 'mayor', 'menor' o 'igual' a 90°.

Respuestas

Ej)



1)



2)

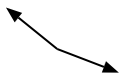


Ej. menor

1. _____

2. _____

3)



4)



5)

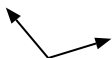


3. _____

4. _____

5. _____

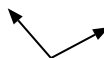
6)



7)



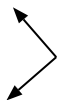
8)



6. _____

7. _____

9)



10)



11)



9. _____

10. _____

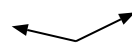
12)



13)



14)



11. _____

12. _____

13. _____

15)



16)



17)



14. _____

15. _____

16. _____

18)



19)



20)



17. _____

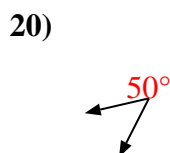
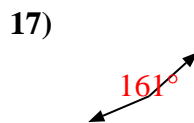
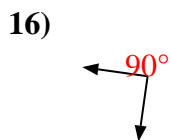
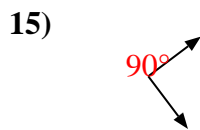
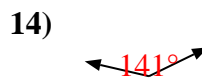
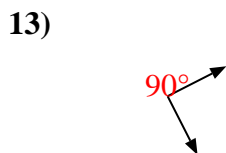
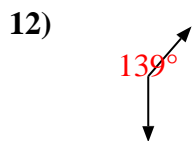
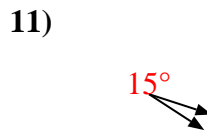
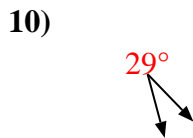
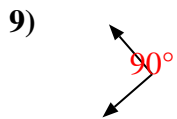
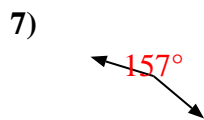
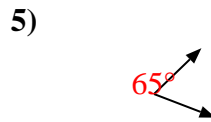
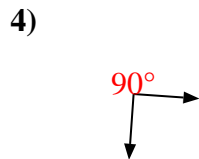
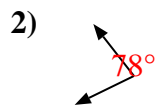
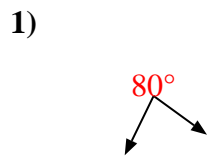
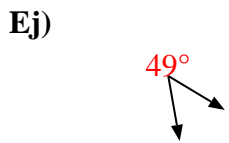
18. _____

19. _____

20. _____



Determina si el ángulo mostrado es 'mayor', 'menor' o 'igual' a 90° .



Respuestas

Ej. menor

1. menor

2. menor

3. mayor

4. igual

5. menor

6. mayor

7. mayor

8. mayor

9. igual

10. menor

11. menor

12. mayor

13. igual

14. mayor

15. igual

16. igual

17. mayor

18. igual

19. igual

20. menor



Determina si el ángulo mostrado es 'mayor', 'menor' o 'igual' a 90°.

Ej)



1)



2)



3)



4)



5)



6)



7)



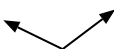
8)



9)



10)



11)



12)



13)



14)



15)



16)



17)



18)



19)



20)



Respuestas

Ej. menor

1. _____

2. _____

3. _____

4. _____

5. _____

6. _____

7. _____

8. _____

9. _____

10. _____

11. _____

12. _____

13. _____

14. _____

15. _____

16. _____

17. _____

18. _____

19. _____

20. _____



Determina si el ángulo mostrado es 'mayor', 'menor' o 'igual' a 90° .

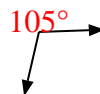
Ej)



1)



2)



3)



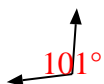
4)



5)



6)



7)



8)



9)



10)



11)



12)



13)



14)



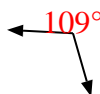
15)



16)



17)



18)



19)



20)



Respuestas

Ej. menor

1. igual

2. mayor

3. menor

4. igual

5. menor

6. mayor

7. igual

8. mayor

9. menor

10. mayor

11. igual

12. mayor

13. menor

14. menor

15. igual

16. mayor

17. mayor

18. igual

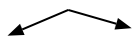
19. igual

20. igual



Determina si el ángulo mostrado es 'mayor', 'menor' o 'igual' a 90°.

Ej)



1)



2)



Respuestas

Ej. **mayor**

1. _____

2. _____

3. _____

4. _____

5. _____

6. _____

7. _____

8. _____

9. _____

10. _____

11. _____

12. _____

13. _____

14. _____

15. _____

16. _____

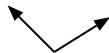
17. _____

18. _____

19. _____

20. _____

3)



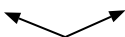
4)



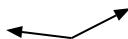
5)



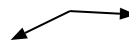
6)



7)



8)



9)



10)



11)



12)



13)



14)



15)



16)



17)



18)



19)



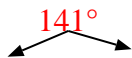
20)





Determina si el ángulo mostrado es 'mayor', 'menor' o 'igual' a 90° .

Ej)



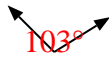
1)



2)



3)



4)



5)



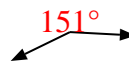
6)



7)



8)



9)



10)



11)



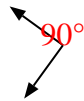
12)



13)



14)



15)



16)



17)



18)



19)



20)



Respuestas

Ej. mayor

1. menor

2. igual

3. mayor

4. igual

5. igual

6. mayor

7. mayor

8. mayor

9. menor

10. menor

11. menor

12. igual

13. menor

14. igual

15. igual

16. mayor

17. igual

18. menor

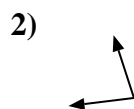
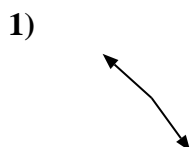
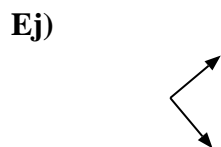
19. mayor

20. menor



Determina si el ángulo mostrado es 'mayor', 'menor' o 'igual' a 90°.

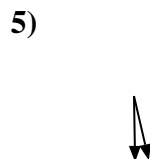
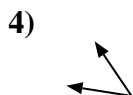
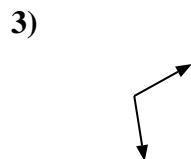
Respuestas



Ej. igual

1. _____


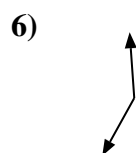
2. _____



3. _____

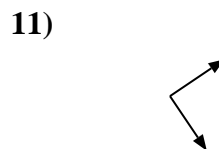
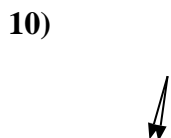
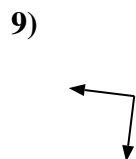
4. _____

5. _____



6. _____

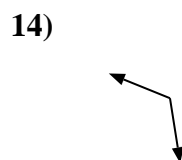
7. _____



8. _____

9. _____

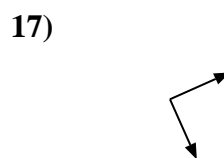
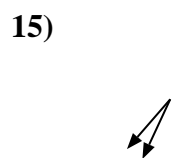
10. _____



11. _____

12. _____

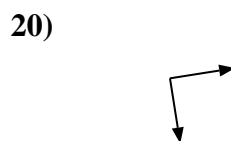
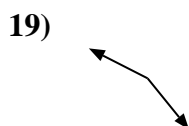
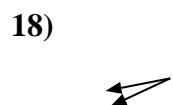
13. _____



14. _____

15. _____

16. _____



17. _____

18. _____

19. _____

20. _____

20. _____



Determina si el ángulo mostrado es 'mayor', 'menor' o 'igual' a 90° .

Ej)



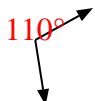
1)



2)



3)



4)



5)



6)



7)



8)



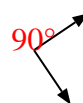
9)



10)



11)



12)



13)



14)



15)



16)



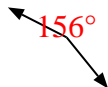
17)



18)



19)



20)



Respuestas

Ej. igual

1. mayor

2. menor

3. mayor

4. menor

5. menor

6. mayor

7. igual

8. mayor

9. igual

10. menor

11. igual

12. menor

13. menor

14. mayor

15. menor

16. igual

17. igual

18. menor

19. mayor

20. igual

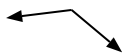


Determina si el ángulo mostrado es 'mayor', 'menor' o 'igual' a 90°.

Ej)



1)



2)



Respuestas

Ej. igual

3)



4)



5)



6)



7)



8)



9)



10)



11)



12)



13)



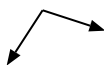
14)



15)



16)



17)



18)



19)



20)



- 1. _____
- 2. _____
- 3. _____
- 4. _____
- 5. _____
- 6. _____
- 7. _____
- 8. _____
- 9. _____
- 10. _____
- 11. _____
- 12. _____
- 13. _____
- 14. _____
- 15. _____
- 16. _____
- 17. _____
- 18. _____
- 19. _____
- 20. _____

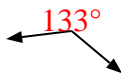


Determina si el ángulo mostrado es 'mayor', 'menor' o 'igual' a 90° .

Ej)



1)



2)



3)



4)



5)



6)



7)



8)



9)



10)



11)



12)



13)



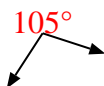
14)



15)



16)



17)



18)



19)



20)



Respuestas

Ej. igual

1. mayor

2. igual

3. menor

4. igual

5. menor

6. menor

7. mayor

8. menor

9. menor

10. menor

11. igual

12. mayor

13. igual

14. mayor

15. igual

16. mayor

17. igual

18. menor

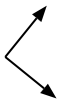
19. igual

20. menor



Determina si el ángulo mostrado es 'mayor', 'menor' o 'igual' a 90°.

Ej)



1)



2)



Respuestas

Ej. igual

3)



4)



5)



6)



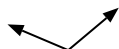
7)



8)



9)



10)



11)



12)



13)



14)



15)



16)



17)



18)



19)



20)



- 1. _____
- 2. _____
- 3. _____
- 4. _____
- 5. _____
- 6. _____
- 7. _____
- 8. _____
- 9. _____
- 10. _____
- 11. _____
- 12. _____
- 13. _____
- 14. _____
- 15. _____
- 16. _____
- 17. _____
- 18. _____
- 19. _____
- 20. _____

1-10	95	90	85	80	75	70	65	60	55	50
11-20	45	40	35	30	25	20	15	10	5	0



Determina si el ángulo mostrado es 'mayor', 'menor' o 'igual' a 90° .

Ej)



1)



2)



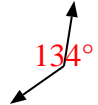
3)



4)



5)



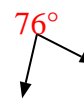
6)



7)



8)



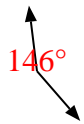
9)



10)



11)



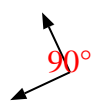
12)



13)



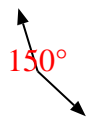
14)



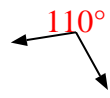
15)



16)



17)



18)



19)



20)



Respuestas

Ej. igual

1. igual

2. menor

3. menor

4. mayor

5. mayor

6. menor

7. menor

8. menor

9. mayor

10. igual

11. mayor

12. menor

13. igual

14. igual

15. igual

16. mayor

17. mayor

18. menor

19. igual

20. menor