




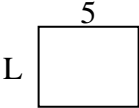
Determina el valor de 'L'. Las longitudes están en cm (no a escala).

Respuestas


1) perímetro = 28



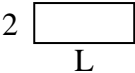
2) perímetro = 18



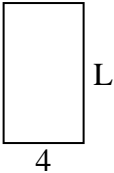
3) perímetro = 26




4) perímetro = 14




5) perímetro = 22




6) perímetro = 24




7) perímetro = 10



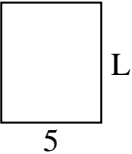
8) perímetro = 18



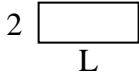
9) perímetro = 22




10) perímetro = 22



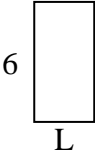
11) perímetro = 14




12) perímetro = 26



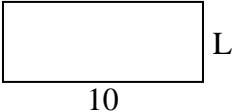
13) perímetro = 18



14) perímetro = 28



15) perímetro = 28



1. _____

2. _____

3. _____

4. _____

5. _____

6. _____

7. _____

8. _____

9. _____

10. _____

11. _____

12. _____

13. _____

14. _____

15. _____



Determina el valor de 'L'. Las longitudes están en cm (no a escala).

Respuestas

1) perímetro = 28

4

10

10

4

2) perímetro = 18

5

4

5

4

3) perímetro = 26

3

10

3

10

4) perímetro = 14

5

2

2

5

5) perímetro = 22

4

7

4

L

6) perímetro = 24

8

4

4

8

7) perímetro = 10

3

2

3

L

8) perímetro = 18

2

7

2

L

9) perímetro = 22

8

8

8

3

10) perímetro = 22

5

6

5

L

11) perímetro = 14

5

2

2

L

12) perímetro = 26

5

8

5

8

13) perímetro = 18

3

6

6

L

14) perímetro = 28

9

5

9

5

15) perímetro = 28

10

4

10

L

1. 10 cm
2. 4 cm
3. 10 cm
4. 5 cm
5. 7 cm
6. 8 cm
7. 2 cm
8. 7 cm
9. 3 cm
10. 6 cm
11. 5 cm
12. 8 cm
13. 3 cm
14. 5 cm
15. 4 cm