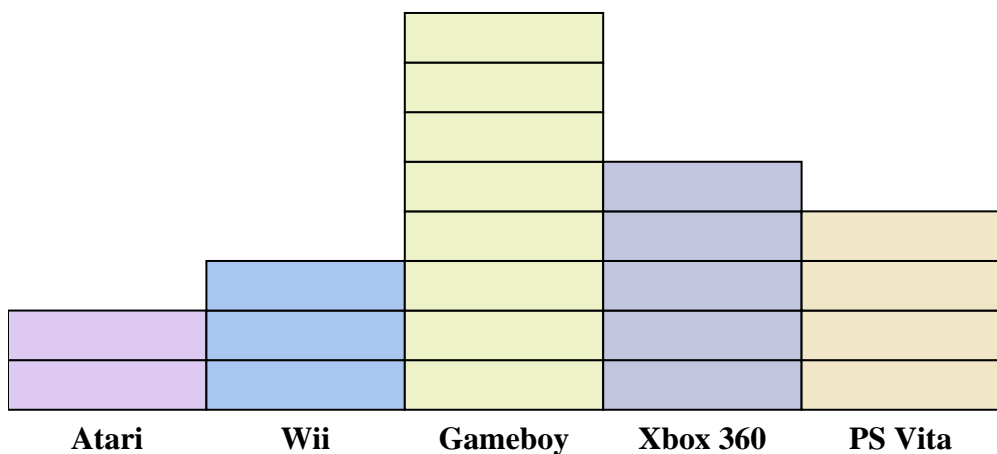




Resuelve cada problema.



Cada = 2 personas que los tienen

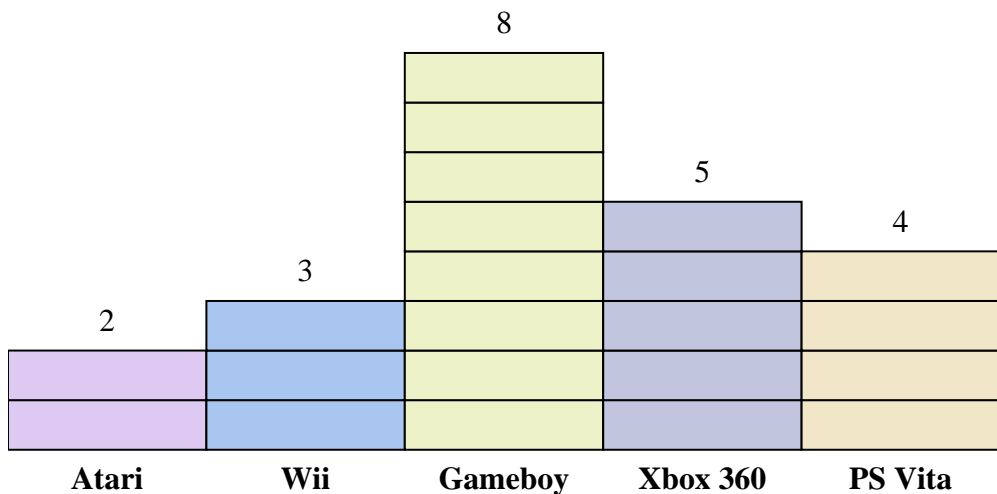
**Respuestas**

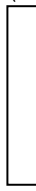
1. \_\_\_\_\_
2. \_\_\_\_\_
3. \_\_\_\_\_
4. \_\_\_\_\_
5. \_\_\_\_\_
6. \_\_\_\_\_
7. \_\_\_\_\_
8. \_\_\_\_\_
9. \_\_\_\_\_
10. \_\_\_\_\_

- 1) ¿Cuántas personas más poseían un Xbox 360 que un PS Vita?
- 2) ¿Qué consola tenían el mayor número de personas?
- 3) ¿Qué consola tenían el menor número de personas?
- 4) ¿Cuántas consolas en total poseían las personas?
- 5) ¿Menos personas poseen un Atari o un Gameboys?
- 6) ¿Más personas poseen un Wiis o un Gameboys?
- 7) ¿Qué consola tenían exactamente 8 personas?
- 8) Cuántas personas poseían un Atari?
- 9) ¿Cuál es el número total de PS Vitas y Ataris?
- 10) ¿Cuál es la diferencia en el número de personas que poseían un Xbox 360 y el número que poseía un Gameboy?



Resuelve cada problema.



Cada  = 2 personas que los tienen

**Respuestas**

- 1) ¿Cuántas personas más poseían un Xbox 360 que un PS Vita?
- 2) ¿Qué consola tenían el mayor número de personas?
- 3) ¿Qué consola tenían el menor número de personas?
- 4) ¿Cuántas consolas en total poseían las personas?
- 5) ¿Menos personas poseen un Ataris o un Gameboys?
- 6) ¿Más personas poseen un Wiis o un Gameboys?
- 7) ¿Qué consola tenían exactamente 8 personas?
- 8) Cuántas personas poseían un Atari?
- 9) ¿Cuál es el número total de PS Vitas y Ataris?
- 10) ¿Cuál es la diferencia en el número de personas que poseían un Xbox 360 y el número que poseía un Gameboy?

1. 2
2. Gameboy
3. Atari
4. 44
5. Atari
6. Gameboy
7. PS Vita
8. 4
9. 12
10. 6