



Determina cuál letra mejor representa el volúmen.

Respuestas

Xícara

Una taza se refiere a la cantidad de leche que se obtiene de la cafetería.



Pinta

Uma pinta é aproximadamente a quantidade que você recebe em um copo grande.
1 pinta = 2 xícaras



Quarto

Um quarto é mais ou menos a quantidade que você consegue em um recipiente grande de leite.
1 cuarto = 2 pintas




Galón

Un galón es la cantidad que viene en un recipiente de plástico grande.
1 galón = 4 cuartos



1. _____
2. _____
3. _____
4. _____
5. _____
6. _____
7. _____
8. _____
9. _____


1)



Agua que cabe en un barril

- A. 20 tazas
- B. 10 Pintas
- C. 3 pulgadas
- D. 50 galones


2)



Tanque de gasolina en un auto

- A. 3 cuartos
- B. 4 Pintas
- C. 15 galones
- D. 16 tazas

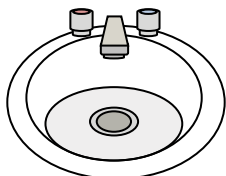
3)



Arena que cabe en una carretilla

- A. 8 cuartos
- B. 45 galones
- C. 1000 gramos
- D. 4 tazas

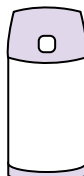
4)



Agua en un lavamanos

- A. 2 onzas líquidas
- B. 2 galones
- C. 2 tazas
- D. 2 Pintas

5)



Líquido en un termo

- A. 1 taza
- B. 1 galón
- C. 2 libras
- D. 4 cuartos


6)



Líquido en una cuchara

- A. 1 taza
- B. Less than a cup
- C. 1 Pinta
- D. 1 cuarto

7)



Líquido en una jarra

- A. 1 Pinta
- B. 2 cuartos
- C. 2 tazas
- D. 8 galones

8)



Tinta en una pluma

- A. 1 galón
- B. 2 Pintas
- C. menor que 1 taza
- D. 1 cuarto

9)



Soda en una lata

- A. 4 tazas
- B. 1.5 tazas
- C. 4 Pintas
- D. 1 galón



Determina cuál letra mejor representa el volúmen.

Respuestas

Xícara

Una taza se refiere a la cantidad de leche que se obtiene de la cafetería.



Pinta

Uma pinta é aproximadamente a quantidade que você recebe em um copo grande.
1 pinta = 2 xícaras



Quarto

Um quarto é mais ou menos a quantidade que você consegue em um recipiente grande de leite.
1 cuarto = 2 pintas




Galón

Un galón es la cantidad que viene en un recipiente de plástico grande.
1 galón = 4 cuartos



1)



Agua que cabe en un barril

- A. 20 tazas
- B. 10 Pintas
- C. 3 pulgadas
- D. 50 galones


2)



Tanque de gasolina en un auto

- A. 3 cuartos
- B. 4 Pintas
- C. 15 galones
- D. 16 tazas

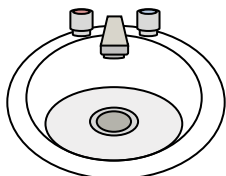
3)



Arena que cabe en una carretilla

- A. 8 cuartos
- B. 45 galones
- C. 1000 gramos
- D. 4 tazas

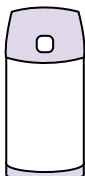
4)



Agua en un lavamanos

- A. 2 onzas líquidas
- B. 2 galones
- C. 2 tazas
- D. 2 Pintas

5)



Líquido en un termo

- A. 1 taza
- B. 1 galón
- C. 2 libras
- D. 4 cuartos


6)



Líquido en una cuchara

- A. 1 taza
- B. Less than a cup
- C. 1 Pinta
- D. 1 cuarto

7)



Líquido en una jarra

- A. 1 Pinta
- B. 2 cuartos
- C. 2 tazas
- D. 8 galones

8)



Tinta en una pluma

- A. 1 galón
- B. 2 Pintas
- C. menor que 1 taza
- D. 1 cuarto

9)



Soda en una lata

- A. 4 tazas
- B. 1.5 tazas
- C. 4 Pintas
- D. 1 galón

- 1. **D**
- 2. **C**
- 3. **B**
- 4. **B**
- 5. **A**
- 6. **B**
- 7. **B**
- 8. **C**
- 9. **B**