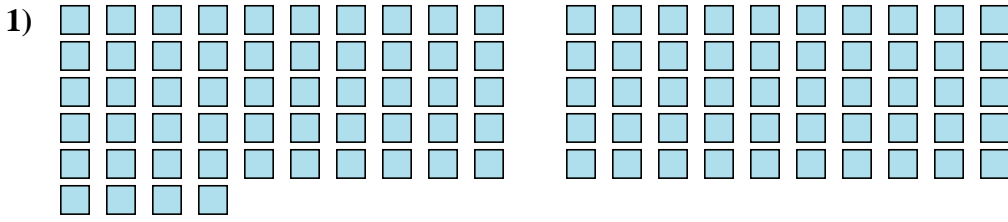




Cuente el número de formas que se muestran.

Respuestas



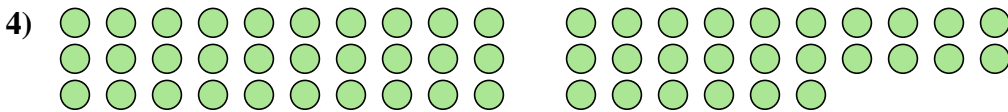
1. _____

2. _____

3. _____

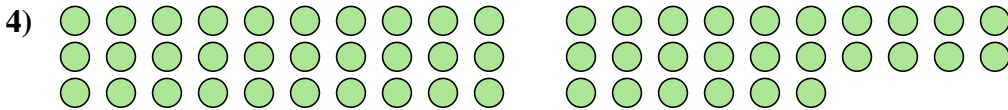
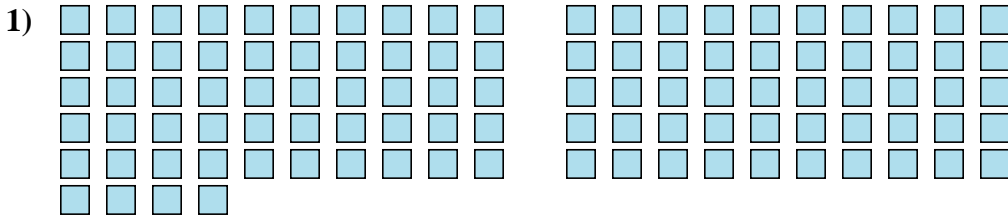
4. _____

5. _____





Cuente el número de formas que se muestran.



Respuestas

1. 104

2. 69

3. 17

4. 56

5. 25