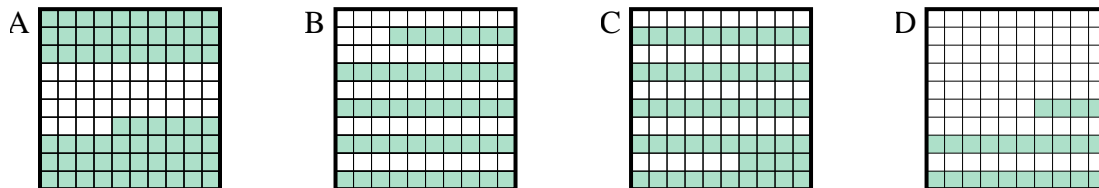




Determina cuál letra mejor resuelve la pregunta.

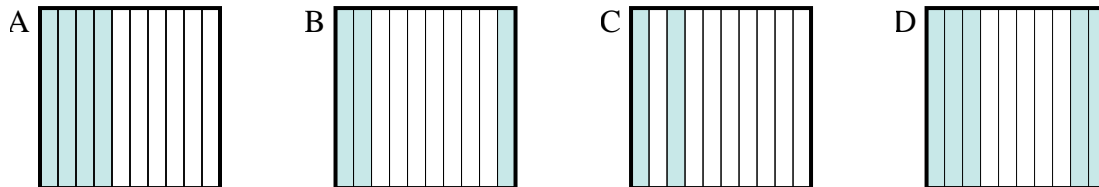
Respuestas

1) ¿Qué cuadrícula de 10×10 está sombreado para representar el número decimal que, cuando se añade a 0.76 da como resultado un total de 1.00?



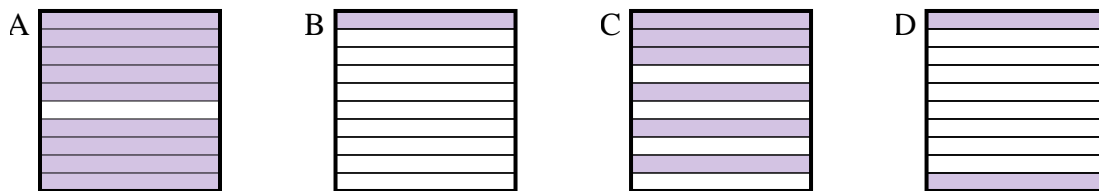
1. _____

2) ¿Qué cuadrícula de 10×1 está sombreado para representar el número decimal que, cuando se añade a 0.5 da como resultado un total de 1.00?



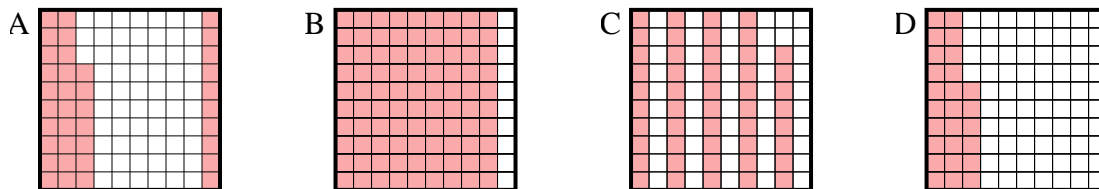
2. _____

3) ¿Qué cuadrícula de 10×1 está sombreado para representar el número decimal que, cuando se añade a 0.1 da como resultado un total de 1.00?



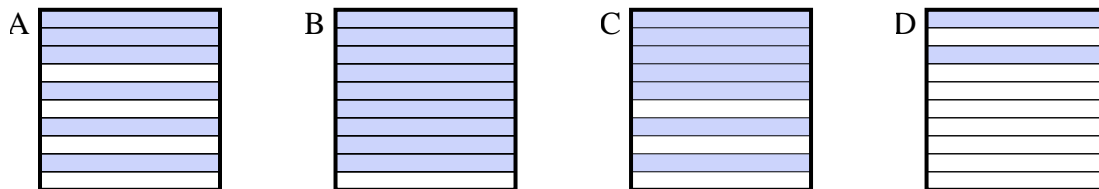
3. _____

4) ¿Qué cuadrícula de 10×10 está sombreado para representar el número decimal que, cuando se añade a 0.63 da como resultado un total de 1.00?



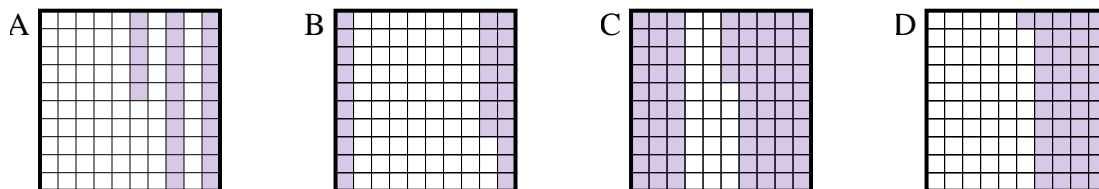
4. _____

5) ¿Qué cuadrícula de 10×1 está sombreado para representar el número decimal que, cuando se añade a 0.3 da como resultado un total de 1.00?



5. _____

6) ¿Qué cuadrícula de 10×10 está sombreado para representar el número decimal que, cuando se añade a 0.75 da como resultado un total de 1.00?

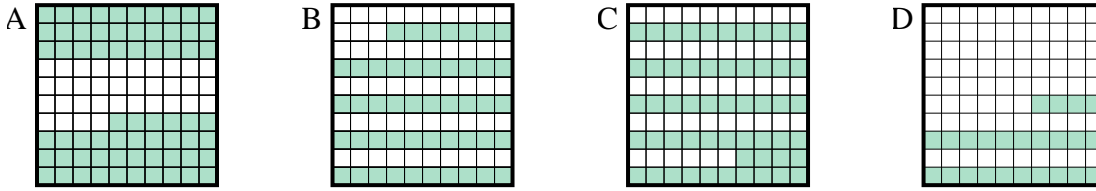


6. _____

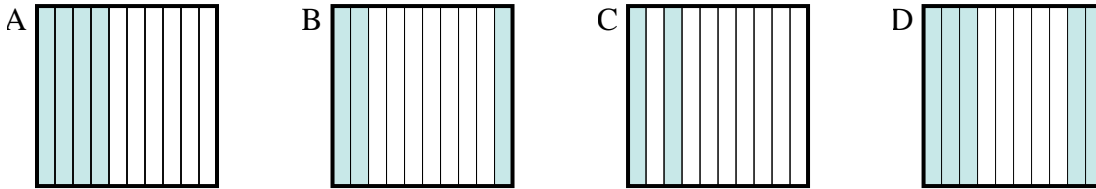


Determina cuál letra mejor resuelve la pregunta.

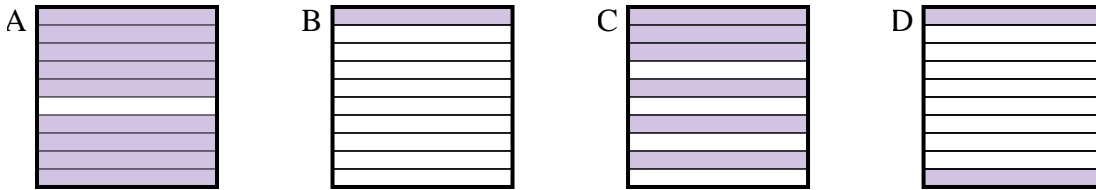
1) ¿Qué cuadrícula de 10×10 está sombreado para representar el número decimal que, cuando se añade a 0.76 da como resultado un total de 1.00?



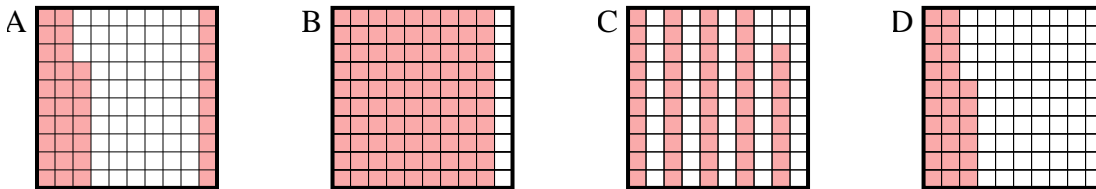
2) ¿Qué cuadrícula de 10×1 está sombreado para representar el número decimal que, cuando se añade a 0.5 da como resultado un total de 1.00?



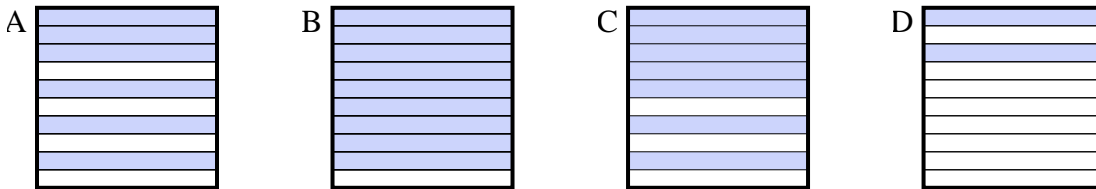
3) ¿Qué cuadrícula de 10×1 está sombreado para representar el número decimal que, cuando se añade a 0.1 da como resultado un total de 1.00?



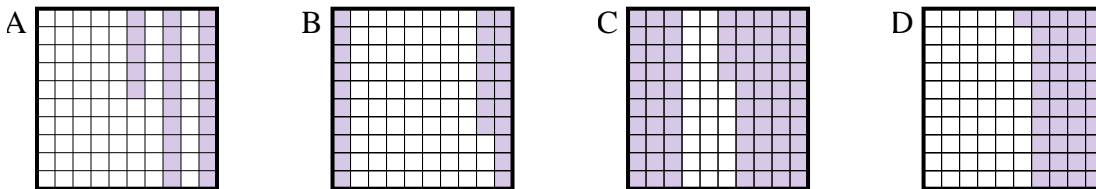
4) ¿Qué cuadrícula de 10×10 está sombreado para representar el número decimal que, cuando se añade a 0.63 da como resultado un total de 1.00?



5) ¿Qué cuadrícula de 10×1 está sombreado para representar el número decimal que, cuando se añade a 0.3 da como resultado un total de 1.00?



6) ¿Qué cuadrícula de 10×10 está sombreado para representar el número decimal que, cuando se añade a 0.75 da como resultado un total de 1.00?



Respuestas

- 1. **D**
- 2. **D**
- 3. **A**
- 4. **A**
- 5. **C**
- 6. **A**