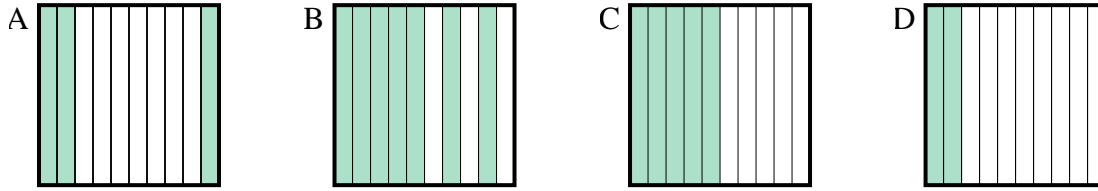




Determina cuál letra mejor resuelve la pregunta.

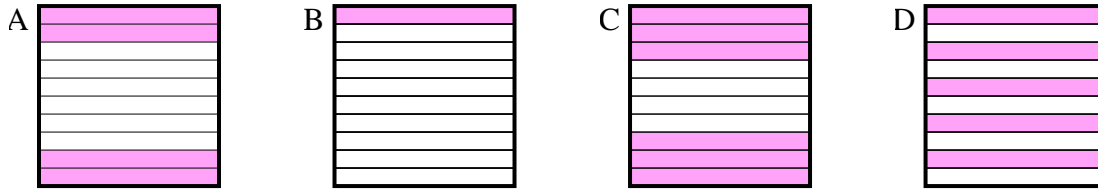
**Respuestas**

1) ¿Qué cuadrícula de  $10 \times 1$  está sombreado para representar el número decimal que, cuando se añade a 0.5 da como resultado un total de 1.00?



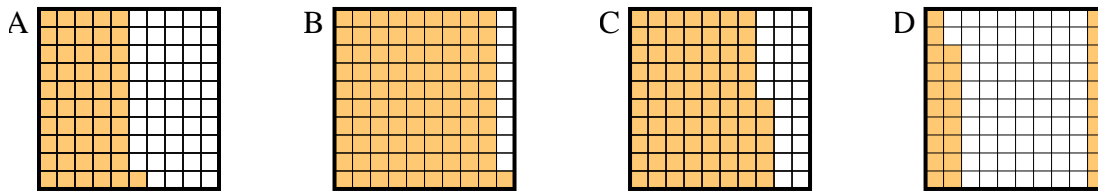
1. \_\_\_\_\_

2) ¿Qué cuadrícula de  $10 \times 1$  está sombreado para representar el número decimal que, cuando se añade a 0.6 da como resultado un total de 1.00?



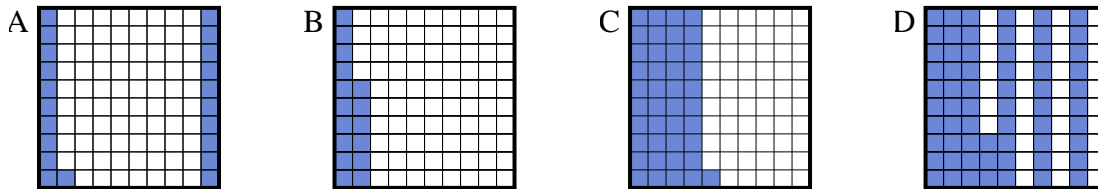
2. \_\_\_\_\_

3) ¿Qué cuadrícula de  $10 \times 10$  está sombreado para representar el número decimal que, cuando se añade a 0.72 da como resultado un total de 1.00?



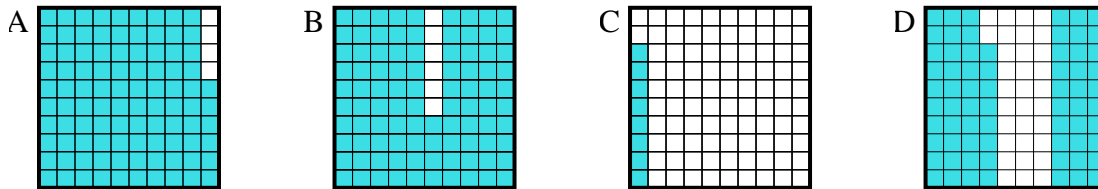
3. \_\_\_\_\_

4) ¿Qué cuadrícula de  $10 \times 10$  está sombreado para representar el número decimal que, cuando se añade a 0.59 da como resultado un total de 1.00?



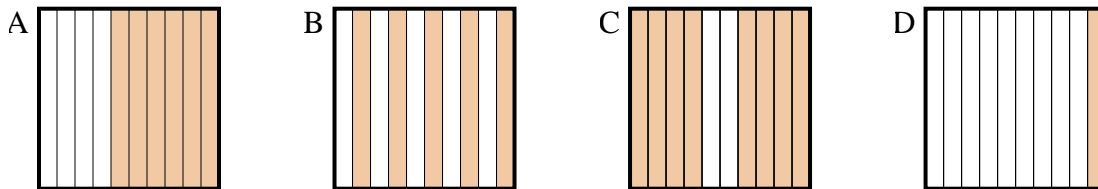
4. \_\_\_\_\_

5) ¿Qué cuadrícula de  $10 \times 10$  está sombreado para representar el número decimal que, cuando se añade a 0.32 da como resultado un total de 1.00?



5. \_\_\_\_\_

6) ¿Qué cuadrícula de  $10 \times 1$  está sombreado para representar el número decimal que, cuando se añade a 0.4 da como resultado un total de 1.00?

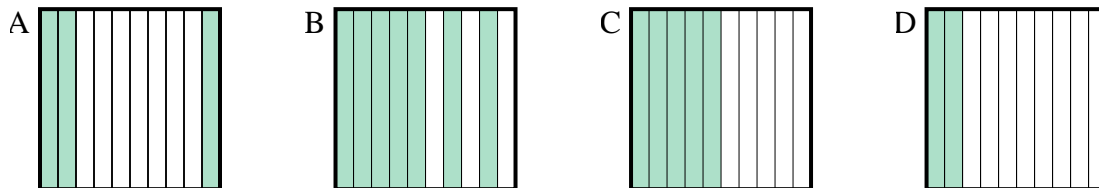


6. \_\_\_\_\_

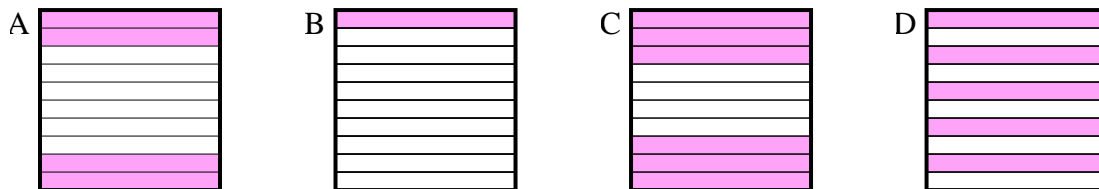


Determina cuál letra mejor resuelve la pregunta.

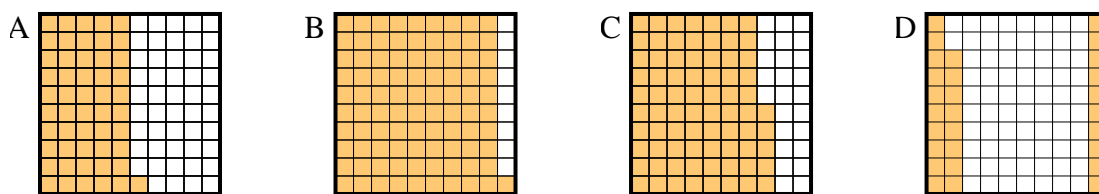
1) ¿Qué cuadrícula de  $10 \times 1$  está sombreado para representar el número decimal que, cuando se añade a 0.5 da como resultado un total de 1.00?



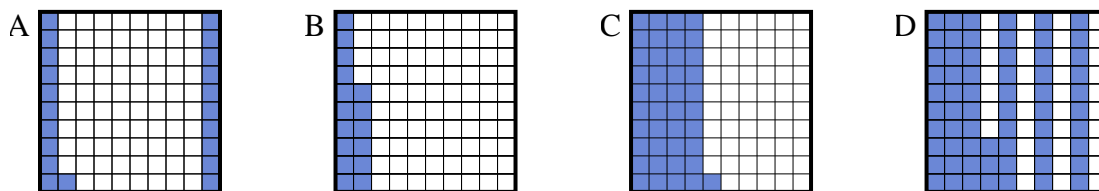
2) ¿Qué cuadrícula de  $10 \times 1$  está sombreado para representar el número decimal que, cuando se añade a 0.6 da como resultado un total de 1.00?



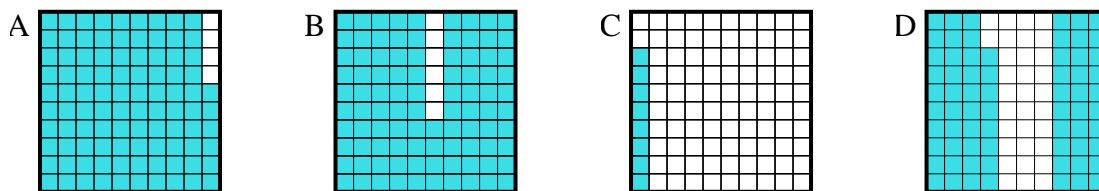
3) ¿Qué cuadrícula de  $10 \times 10$  está sombreado para representar el número decimal que, cuando se añade a 0.72 da como resultado un total de 1.00?



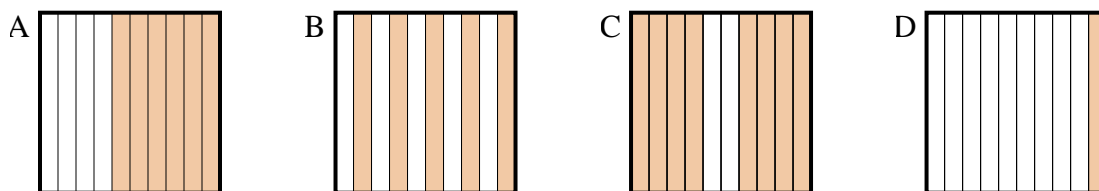
4) ¿Qué cuadrícula de  $10 \times 10$  está sombreado para representar el número decimal que, cuando se añade a 0.59 da como resultado un total de 1.00?



5) ¿Qué cuadrícula de  $10 \times 10$  está sombreado para representar el número decimal que, cuando se añade a 0.32 da como resultado un total de 1.00?



6) ¿Qué cuadrícula de  $10 \times 1$  está sombreado para representar el número decimal que, cuando se añade a 0.4 da como resultado un total de 1.00?



**Respuestas**

1. **C**

2. **A**

3. **D**

4. **C**

5. **D**

6. **A**