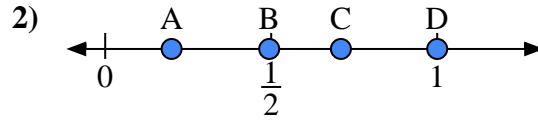
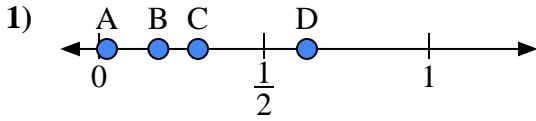




Usa las rectas numéricas para responder a las preguntas

Respuestas



- a) ¿Qué letra representa mejor la ubicación de 0.3?'
- b) ¿Qué letra representa mejor la ubicación de 0.18?'

- a) ¿Qué letra representa mejor la ubicación de 0.2?'
- b) ¿Qué letra representa mejor la ubicación de 0.71?'

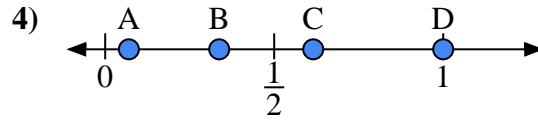
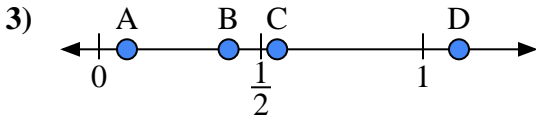
1. _____

2. _____

3. _____

4. _____

5. _____



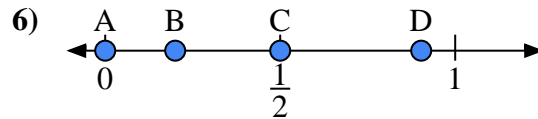
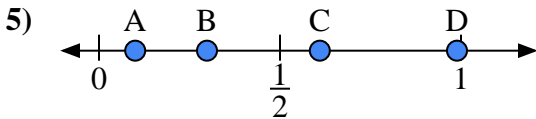
- a) ¿Qué letra representa mejor la ubicación de 0.4?'
- b) ¿Qué letra representa mejor la ubicación de 0.55?'

- a) ¿Qué letra representa mejor la ubicación de 1.0?'
- b) ¿Qué letra representa mejor la ubicación de 0.07?'

6. _____

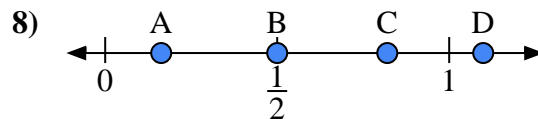
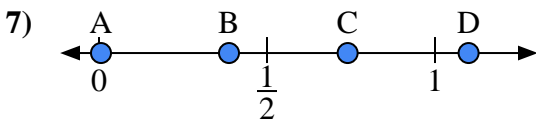
7. _____

8. _____



- a) ¿Qué letra representa mejor la ubicación de 0.10?'
- b) ¿Qué letra representa mejor la ubicación de 0.61?'

- a) ¿Qué letra representa mejor la ubicación de 0.00?'
- b) ¿Qué letra representa mejor la ubicación de 0.50?'



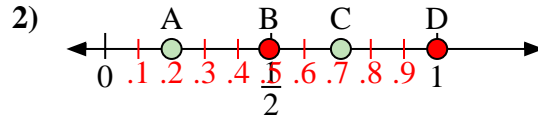
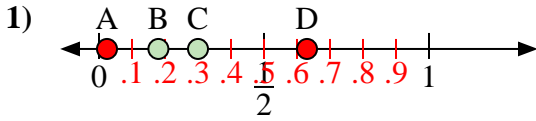
- a) ¿Qué letra representa mejor la ubicación de 1.10?'
- b) ¿Qué letra representa mejor la ubicación de 0.74?'

- a) ¿Qué letra representa mejor la ubicación de 0.5?'
- b) ¿Qué letra representa mejor la ubicación de 0.82?'



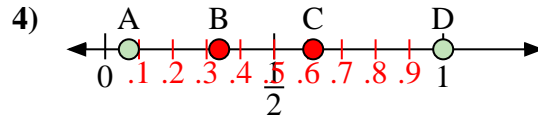
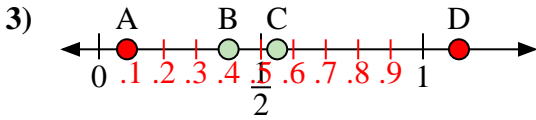
Usa las rectas numéricas para responder a las preguntas

Respuestas



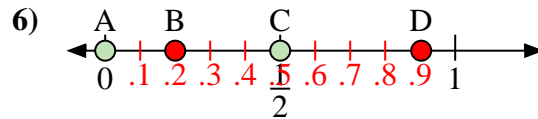
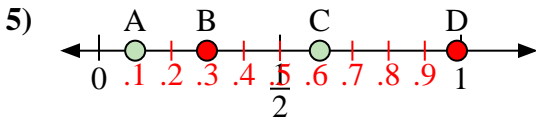
- a) ¿Qué letra representa mejor la ubicación de 0.3?
- b) ¿Qué letra representa mejor la ubicación de 0.18?

- a) ¿Qué letra representa mejor la ubicación de 0.2?
- b) ¿Qué letra representa mejor la ubicación de 0.71?



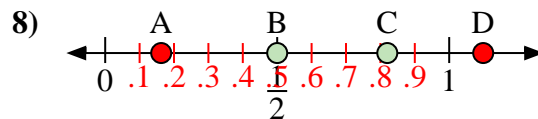
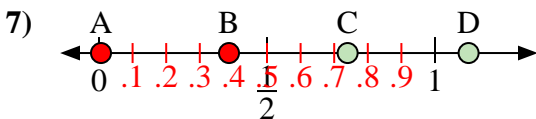
- a) ¿Qué letra representa mejor la ubicación de 0.4?
- b) ¿Qué letra representa mejor la ubicación de 0.55?

- a) ¿Qué letra representa mejor la ubicación de 1.0?
- b) ¿Qué letra representa mejor la ubicación de 0.07?



- a) ¿Qué letra representa mejor la ubicación de 0.10?
- b) ¿Qué letra representa mejor la ubicación de 0.61?

- a) ¿Qué letra representa mejor la ubicación de 0.00?
- b) ¿Qué letra representa mejor la ubicación de 0.50?



- a) ¿Qué letra representa mejor la ubicación de 1.10?
- b) ¿Qué letra representa mejor la ubicación de 0.74?

- a) ¿Qué letra representa mejor la ubicación de 0.5?
- b) ¿Qué letra representa mejor la ubicación de 0.82?

1. C B
2. A C
3. B C
4. D A
5. A C
6. A C
7. D C
8. B C