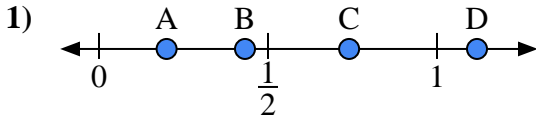


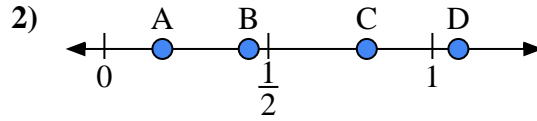


Usa las rectas numéricas para responder a las preguntas

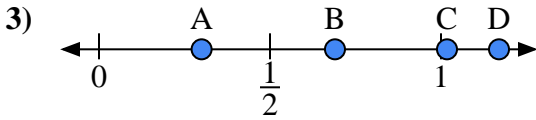
Respuestas



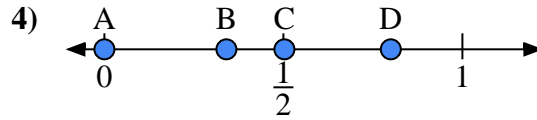
- a) ¿Qué letra representa mejor la ubicación de 0.20?
- b) ¿Qué letra representa mejor la ubicación de 0.74?



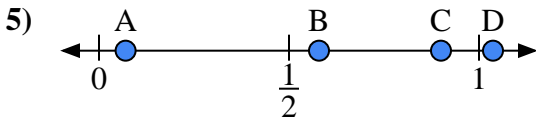
- a) ¿Qué letra representa mejor la ubicación de 0.8?
- b) ¿Qué letra representa mejor la ubicación de 0.44?



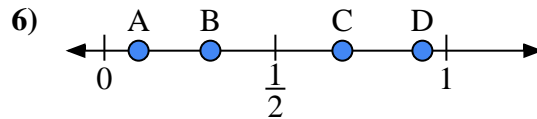
- a) ¿Qué letra representa mejor la ubicación de 0.30?
- b) ¿Qué letra representa mejor la ubicación de 0.69?



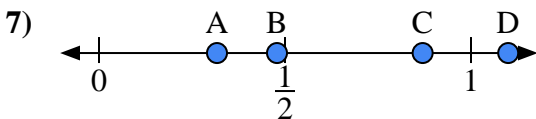
- a) ¿Qué letra representa mejor la ubicación de 0.0?
- b) ¿Qué letra representa mejor la ubicación de 0.80?



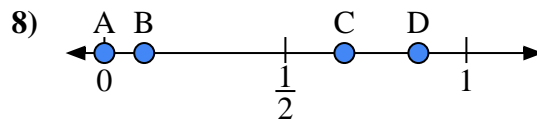
- a) ¿Qué letra representa mejor la ubicación de 0.90?
- b) ¿Qué letra representa mejor la ubicación de 0.07?



- a) ¿Qué letra representa mejor la ubicación de 0.10?
- b) ¿Qué letra representa mejor la ubicación de 0.31?



- a) ¿Qué letra representa mejor la ubicación de 1.10?
- b) ¿Qué letra representa mejor la ubicación de 0.87?



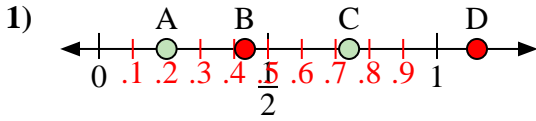
- a) ¿Qué letra representa mejor la ubicación de 0.00?
- b) ¿Qué letra representa mejor la ubicación de 0.11?

- 1. _____
- 2. _____
- 3. _____
- 4. _____
- 5. _____
- 6. _____
- 7. _____
- 8. _____

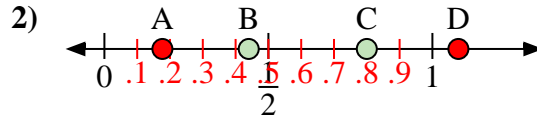


Usa las rectas numéricas para responder a las preguntas

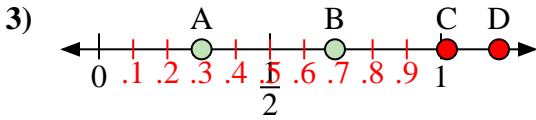
Respuestas



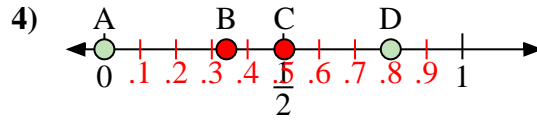
- a) ¿Qué letra representa mejor la ubicación de 0.20?
- b) ¿Qué letra representa mejor la ubicación de 0.74?



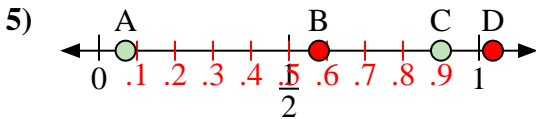
- a) ¿Qué letra representa mejor la ubicación de 0.8?
- b) ¿Qué letra representa mejor la ubicación de 0.44?



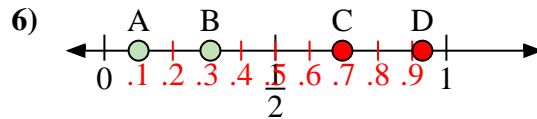
- a) ¿Qué letra representa mejor la ubicación de 0.30?
- b) ¿Qué letra representa mejor la ubicación de 0.69?



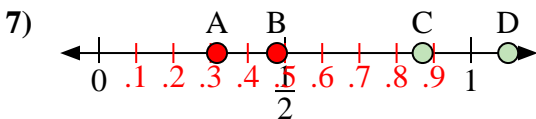
- a) ¿Qué letra representa mejor la ubicación de 0.0?
- b) ¿Qué letra representa mejor la ubicación de 0.80?



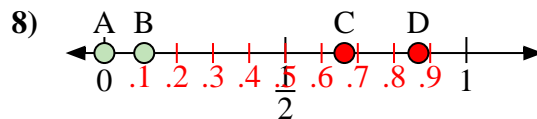
- a) ¿Qué letra representa mejor la ubicación de 0.90?
- b) ¿Qué letra representa mejor la ubicación de 0.07?



- a) ¿Qué letra representa mejor la ubicación de 0.10?
- b) ¿Qué letra representa mejor la ubicación de 0.31?



- a) ¿Qué letra representa mejor la ubicación de 1.10?
- b) ¿Qué letra representa mejor la ubicación de 0.87?



- a) ¿Qué letra representa mejor la ubicación de 0.00?
- b) ¿Qué letra representa mejor la ubicación de 0.11?

1. A C
2. C B
3. A B
4. A D
5. C A
6. A B
7. D C
8. A B