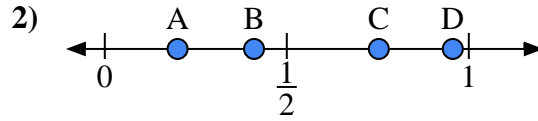
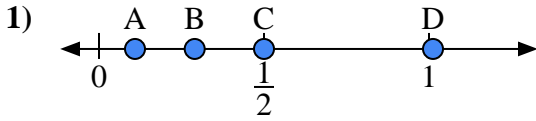




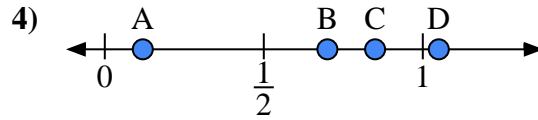
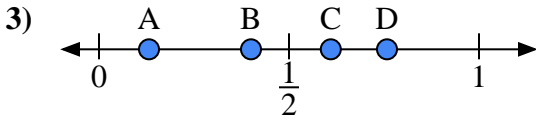
Usa las rectas numéricas para responder a las preguntas

Respuestas



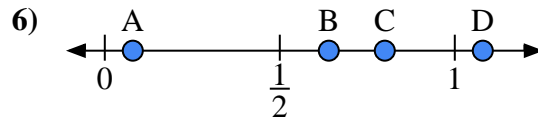
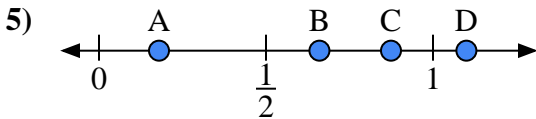
- a) ¿Qué letra representa mejor la ubicación de 0.5?'
- b) ¿Qué letra representa mejor la ubicación de 0.29?'

- a) ¿Qué letra representa mejor la ubicación de 0.20?'
- b) ¿Qué letra representa mejor la ubicación de 0.41?'



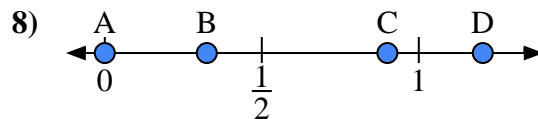
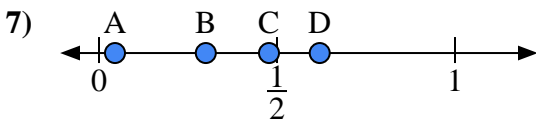
- a) ¿Qué letra representa mejor la ubicación de 0.40?'
- b) ¿Qué letra representa mejor la ubicación de 0.61?'

- a) ¿Qué letra representa mejor la ubicación de 0.70?'
- b) ¿Qué letra representa mejor la ubicación de 0.85?'



- a) ¿Qué letra representa mejor la ubicación de 1.1?'
- b) ¿Qué letra representa mejor la ubicación de 0.66?'

- a) ¿Qué letra representa mejor la ubicación de 0.8?'
- b) ¿Qué letra representa mejor la ubicación de 0.08?'



- a) ¿Qué letra representa mejor la ubicación de 0.30?'
- b) ¿Qué letra representa mejor la ubicación de 0.62?'

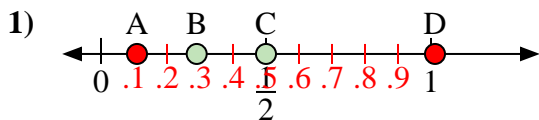
- a) ¿Qué letra representa mejor la ubicación de 0.00?'
- b) ¿Qué letra representa mejor la ubicación de 0.90?'

1. _____
2. _____
3. _____
4. _____
5. _____
6. _____
7. _____
8. _____

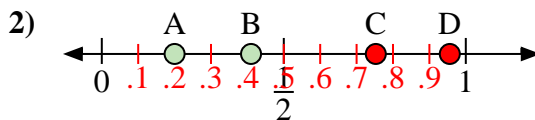


Usa las rectas numéricas para responder a las preguntas

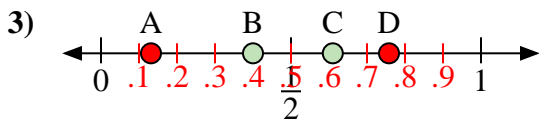
Respuestas



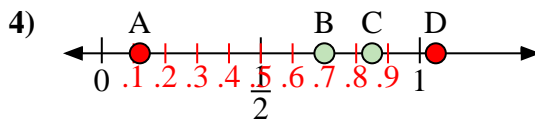
- a) ¿Qué letra representa mejor la ubicación de 0.5?
- b) ¿Qué letra representa mejor la ubicación de 0.29?



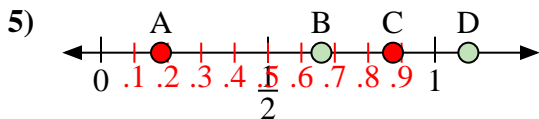
- a) ¿Qué letra representa mejor la ubicación de 0.20?
- b) ¿Qué letra representa mejor la ubicación de 0.41?



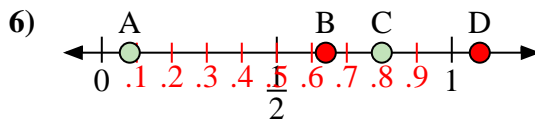
- a) ¿Qué letra representa mejor la ubicación de 0.40?
- b) ¿Qué letra representa mejor la ubicación de 0.61?



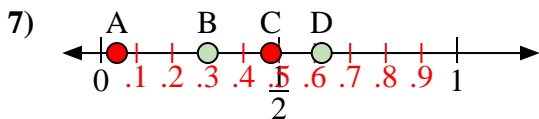
- a) ¿Qué letra representa mejor la ubicación de 0.70?
- b) ¿Qué letra representa mejor la ubicación de 0.85?



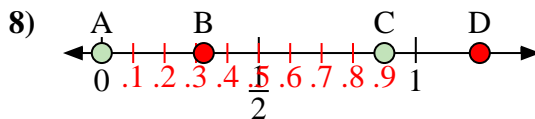
- a) ¿Qué letra representa mejor la ubicación de 1.1?
- b) ¿Qué letra representa mejor la ubicación de 0.66?



- a) ¿Qué letra representa mejor la ubicación de 0.8?
- b) ¿Qué letra representa mejor la ubicación de 0.08?



- a) ¿Qué letra representa mejor la ubicación de 0.30?
- b) ¿Qué letra representa mejor la ubicación de 0.62?



- a) ¿Qué letra representa mejor la ubicación de 0.00?
- b) ¿Qué letra representa mejor la ubicación de 0.90?

1. C B

2. A B

3. B C

4. B C

5. D B

6. C A

7. B D

8. A C