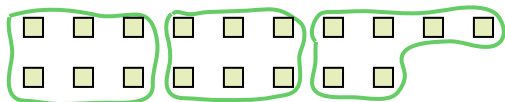





Usa las formas proporcionadas para resolver las preguntas.

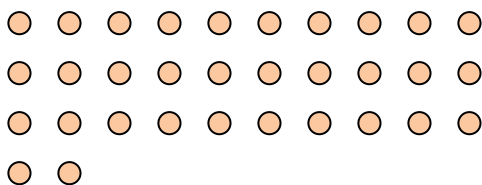
Ej) ¿Cuántos grupos de 6 se pueden hacer con las 18 formas de abajo?



2) ¿Cuántos grupos de 4 se pueden hacer con las 28 formas de abajo?




4) ¿Cuántos grupos de 4 se pueden hacer con las 32 formas de abajo?



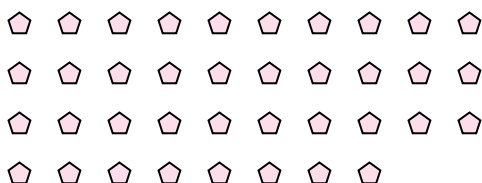
6) ¿Cuántos grupos de 6 se pueden hacer con las 36 formas de abajo?




8) ¿Cuántos grupos de 6 se pueden hacer con las 36 formas de abajo?




10) ¿Cuántos grupos de 2 se pueden hacer con las 38 formas de abajo?



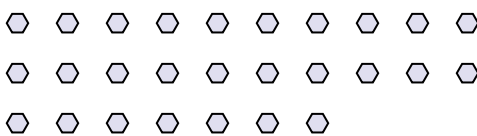
1) ¿Cuántos grupos de 3 se pueden hacer con las 30 formas de abajo?




3) ¿Cuántos grupos de 2 se pueden hacer con las 40 formas de abajo?



5) ¿Cuántos grupos de 9 se pueden hacer con las 27 formas de abajo?



7) ¿Cuántos grupos de 3 se pueden hacer con las 36 formas de abajo?



9) ¿Cuántos grupos de 4 se pueden hacer con las 36 formas de abajo?



11) ¿Cuántos grupos de 7 se pueden hacer con las 14 formas de abajo?



Respuestas

- Ej. 3
- 1. _____
- 2. _____
- 3. _____
- 4. _____
- 5. _____
- 6. _____
- 7. _____
- 8. _____
- 9. _____
- 10. _____
- 11. _____

