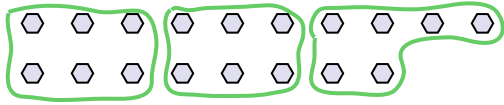




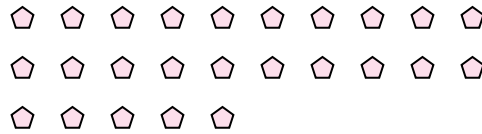
Usa las formas proporcionadas para resolver las preguntas.

Respuestas

Ej) ¿Cuántos grupos de 6 se pueden hacer con las 18 formas de abajo?

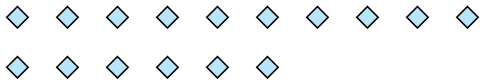


1) ¿Cuántos grupos de 5 se pueden hacer con las 25 formas de abajo?



Ej. 3

2) ¿Cuántos grupos de 4 se pueden hacer con las 16 formas de abajo?




3) ¿Cuántos grupos de 2 se pueden hacer con las 14 formas de abajo?




1. _____

2. _____

4) ¿Cuántos grupos de 4 se pueden hacer con las 28 formas de abajo?



5) ¿Cuántos grupos de 9 se pueden hacer con las 36 formas de abajo?



3. _____

4. _____

5. _____

6. _____

7. _____

8. _____

9. _____

6) ¿Cuántos grupos de 9 se pueden hacer con las 27 formas de abajo?



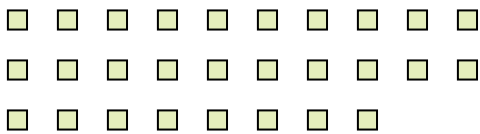
7) ¿Cuántos grupos de 6 se pueden hacer con las 30 formas de abajo?



10. _____

11. _____

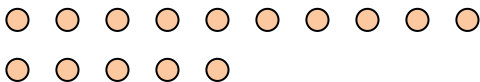
8) ¿Cuántos grupos de 2 se pueden hacer con las 28 formas de abajo?




9) ¿Cuántos grupos de 9 se pueden hacer con las 27 formas de abajo?



10) ¿Cuántos grupos de 5 se pueden hacer con las 15 formas de abajo?



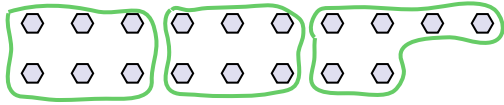
11) ¿Cuántos grupos de 4 se pueden hacer con las 36 formas de abajo?



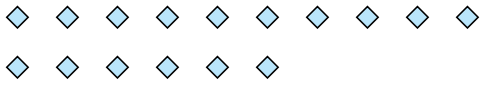


Usa las formas proporcionadas para resolver las preguntas.


Ej) ¿Cuántos grupos de 6 se pueden hacer con las 18 formas de abajo?



2) ¿Cuántos grupos de 4 se pueden hacer con las 16 formas de abajo?



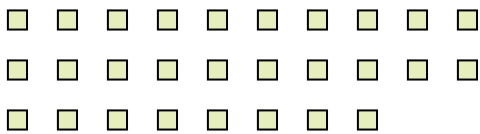
4) ¿Cuántos grupos de 4 se pueden hacer con las 28 formas de abajo?



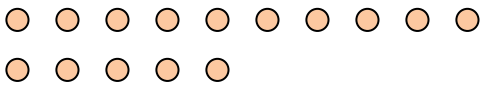
6) ¿Cuántos grupos de 9 se pueden hacer con las 27 formas de abajo?



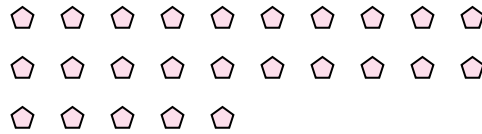
8) ¿Cuántos grupos de 2 se pueden hacer con las 28 formas de abajo?



10) ¿Cuántos grupos de 5 se pueden hacer con las 15 formas de abajo?




1) ¿Cuántos grupos de 5 se pueden hacer con las 25 formas de abajo?



3) ¿Cuántos grupos de 2 se pueden hacer con las 14 formas de abajo?



5) ¿Cuántos grupos de 9 se pueden hacer con las 36 formas de abajo?




7) ¿Cuántos grupos de 6 se pueden hacer con las 30 formas de abajo?



9) ¿Cuántos grupos de 9 se pueden hacer con las 27 formas de abajo?



11) ¿Cuántos grupos de 4 se pueden hacer con las 36 formas de abajo?



Respuestas

Ej. 3

1. 5

2. 4

3. 7

4. 7

5. 4

6. 3

7. 5

8. 14

9. 3

10. 3

11. 9