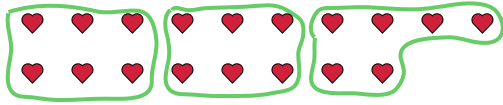




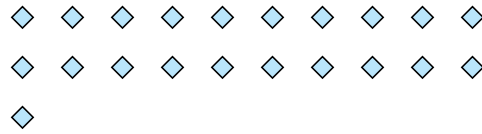
Usa las formas proporcionadas para resolver las preguntas.

**Respuestas**

Ej) ¿Cuántos grupos de 6 se pueden hacer con las 18 formas de abajo?

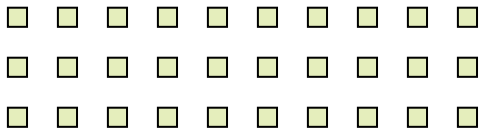


1) ¿Cuántos grupos de 7 se pueden hacer con las 21 formas de abajo?



Ej. 3

2) ¿Cuántos grupos de 6 se pueden hacer con las 30 formas de abajo?




3) ¿Cuántos grupos de 4 se pueden hacer con las 28 formas de abajo?



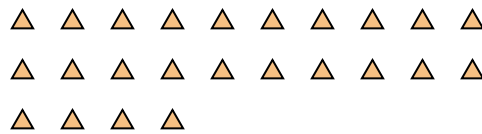
1. \_\_\_\_\_

2. \_\_\_\_\_

4) ¿Cuántos grupos de 9 se pueden hacer con las 27 formas de abajo?



5) ¿Cuántos grupos de 6 se pueden hacer con las 24 formas de abajo?



3. \_\_\_\_\_

4. \_\_\_\_\_

5. \_\_\_\_\_

6. \_\_\_\_\_

7. \_\_\_\_\_

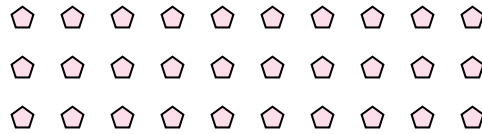
8. \_\_\_\_\_

9. \_\_\_\_\_

6) ¿Cuántos grupos de 3 se pueden hacer con las 30 formas de abajo?



7) ¿Cuántos grupos de 5 se pueden hacer con las 30 formas de abajo?



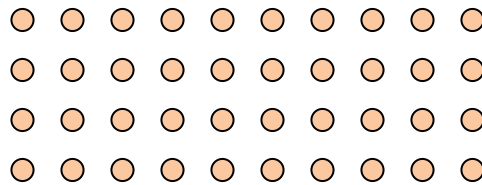
10. \_\_\_\_\_

11. \_\_\_\_\_

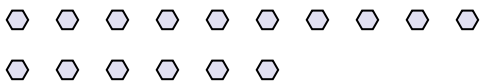
8) ¿Cuántos grupos de 7 se pueden hacer con las 14 formas de abajo?



9) ¿Cuántos grupos de 5 se pueden hacer con las 40 formas de abajo?



10) ¿Cuántos grupos de 2 se pueden hacer con las 16 formas de abajo?



11) ¿Cuántos grupos de 5 se pueden hacer con las 30 formas de abajo?

