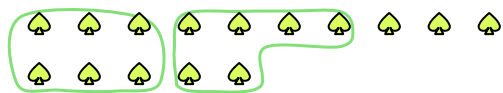





Usa los ejemplos a continuación para resolver las preguntas.

Respuestas

Ej) Hay 15 formas a continuación. ¿Cuántos grupos de 6 puedes hacer con ellos? ¿Cuántas sobran?



1) Hay 26 formas a continuación. ¿Cuántos grupos de 3 puedes hacer con ellos? ¿Cuántas sobran?



Ej. 2 3

1. _____

2. _____

3. _____

4. _____

5. _____


6. _____

7. _____

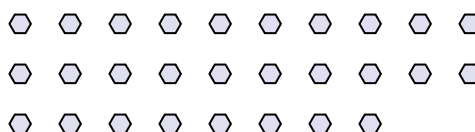
8. _____

9. _____


2) Hay 19 formas a continuación. ¿Cuántos grupos de 6 puedes hacer con ellos? ¿Cuántas sobran?



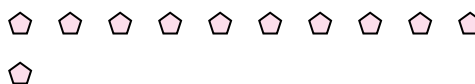
3) Hay 28 formas a continuación. ¿Cuántos grupos de 8 puedes hacer con ellos? ¿Cuántas sobran?



4) Hay 22 formas a continuación. ¿Cuántos grupos de 4 puedes hacer con ellos? ¿Cuántas sobran?



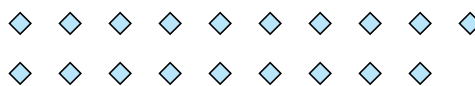
5) Hay 11 formas a continuación. ¿Cuántos grupos de 8 puedes hacer con ellos? ¿Cuántas sobran?




6) Hay 19 formas a continuación. ¿Cuántos grupos de 2 puedes hacer con ellos? ¿Cuántas sobran?



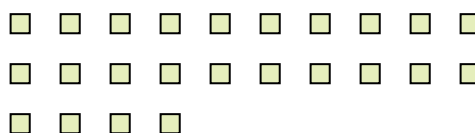
7) Hay 19 formas a continuación. ¿Cuántos grupos de 2 puedes hacer con ellos? ¿Cuántas sobran?



8) Hay 23 formas a continuación. ¿Cuántos grupos de 9 puedes hacer con ellos? ¿Cuántas sobran?



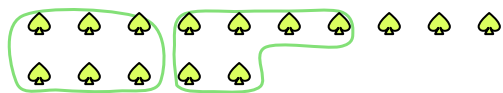
9) Hay 24 formas a continuación. ¿Cuántos grupos de 9 puedes hacer con ellos? ¿Cuántas sobran?






Usa los ejemplos a continuación para resolver las preguntas.

Ej) Hay 15 formas a continuación. ¿Cuántos grupos de 6 puedes hacer con ellos? ¿Cuántas sobran?



2) Hay 19 formas a continuación. ¿Cuántos grupos de 6 puedes hacer con ellos? ¿Cuántas sobran?




4) Hay 22 formas a continuación. ¿Cuántos grupos de 4 puedes hacer con ellos? ¿Cuántas sobran?




6) Hay 19 formas a continuación. ¿Cuántos grupos de 2 puedes hacer con ellos? ¿Cuántas sobran?



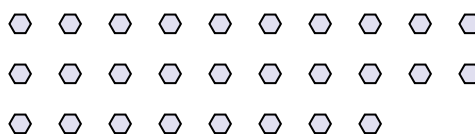
8) Hay 23 formas a continuación. ¿Cuántos grupos de 9 puedes hacer con ellos? ¿Cuántas sobran?



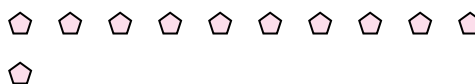
1) Hay 26 formas a continuación. ¿Cuántos grupos de 3 puedes hacer con ellos? ¿Cuántas sobran?



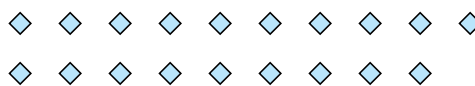
3) Hay 28 formas a continuación. ¿Cuántos grupos de 8 puedes hacer con ellos? ¿Cuántas sobran?



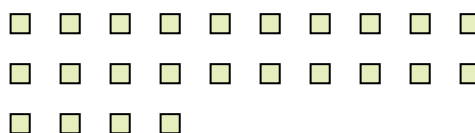
5) Hay 11 formas a continuación. ¿Cuántos grupos de 8 puedes hacer con ellos? ¿Cuántas sobran?



7) Hay 19 formas a continuación. ¿Cuántos grupos de 2 puedes hacer con ellos? ¿Cuántas sobran?



9) Hay 24 formas a continuación. ¿Cuántos grupos de 9 puedes hacer con ellos? ¿Cuántas sobran?



Respuestas

Ej.	<u>2</u>	<u>3</u>
1.	<u>8</u>	<u>2</u>
2.	<u>3</u>	<u>1</u>
3.	<u>3</u>	<u>4</u>
4.	<u>5</u>	<u>2</u>
5.	<u>1</u>	<u>3</u>
6.	<u>9</u>	<u>1</u>
7.	<u>9</u>	<u>1</u>
8.	<u>2</u>	<u>5</u>
9.	<u>2</u>	<u>6</u>