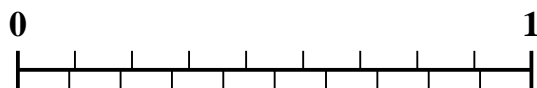


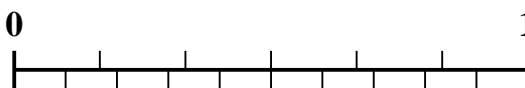


Usa la recta numérica para resolver cada problema.

1) ¿Qué cantidad es mayor, $\frac{2}{9}$ o 0.34?



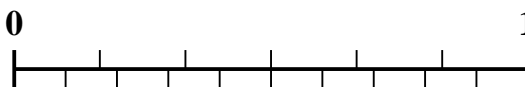
2) ¿Qué cantidad es mayor, $\frac{3}{6}$ o 0.68?



3) ¿Qué cantidad es mayor, $\frac{6}{7}$ o 0.72?




4) ¿Qué cantidad es mayor, $\frac{4}{6}$ o 0.47?



5) ¿Qué cantidad es mayor, $\frac{3}{7}$ o 0.54?



6) ¿Qué cantidad es mayor, $\frac{1}{3}$ o 0.51?




7) ¿Qué cantidad es mayor, $\frac{5}{7}$ o 0.54?



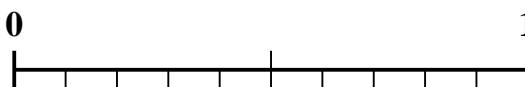
8) ¿Qué cantidad es mayor, $\frac{3}{4}$ o 0.89?



9) ¿Qué cantidad es mayor, $\frac{4}{5}$ o 0.6?



10) ¿Qué cantidad es mayor, $\frac{1}{2}$ o 0.34?



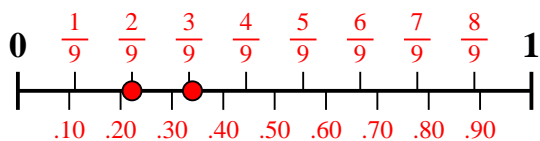
Respuestas

1. _____
2. _____
3. _____
4. _____
5. _____
6. _____
7. _____
8. _____
9. _____
10. _____

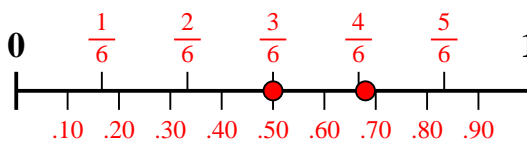


Usa la recta numérica para resolver cada problema.

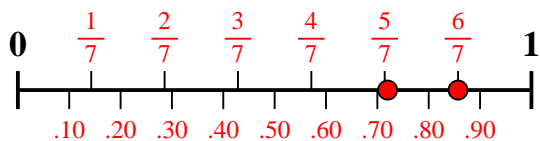
1) ¿Qué cantidad es mayor, $\frac{2}{9}$ o 0.34?



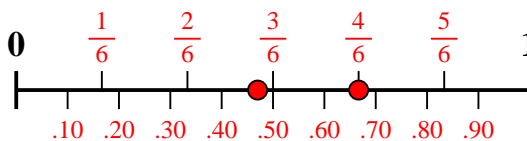
2) ¿Qué cantidad es mayor, $\frac{3}{6}$ o 0.68?



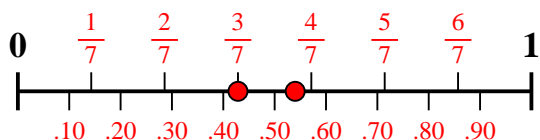
3) ¿Qué cantidad es mayor, $\frac{6}{7}$ o 0.72?



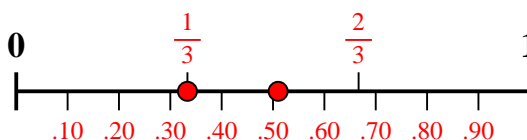
4) ¿Qué cantidad es mayor, $\frac{4}{6}$ o 0.47?



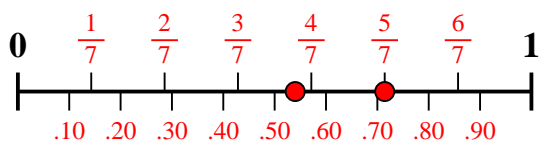
5) ¿Qué cantidad es mayor, $\frac{3}{7}$ o 0.54?



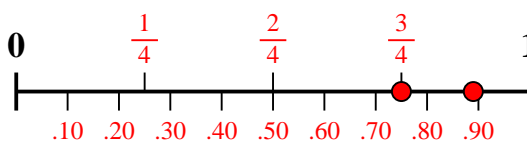
6) ¿Qué cantidad es mayor, $\frac{1}{3}$ o 0.51?



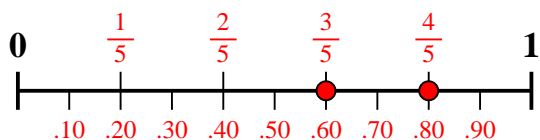
7) ¿Qué cantidad es mayor, $\frac{5}{7}$ o 0.54?



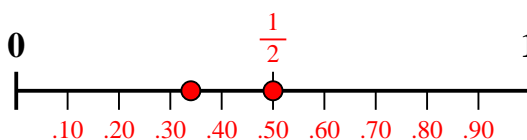
8) ¿Qué cantidad es mayor, $\frac{3}{4}$ o 0.89?



9) ¿Qué cantidad es mayor, $\frac{4}{5}$ o 0.6?



10) ¿Qué cantidad es mayor, $\frac{1}{2}$ o 0.34?



Respuestas

1. **0.34**

2. **0.68**

3. $\frac{6}{7}$

4. $\frac{4}{6}$

5. **0.54**

6. **0.51**

7. $\frac{5}{7}$

8. **0.89**

9. $\frac{4}{5}$

10. $\frac{1}{2}$