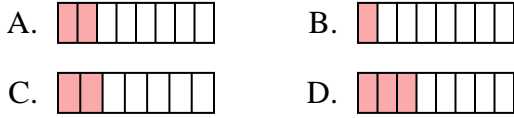




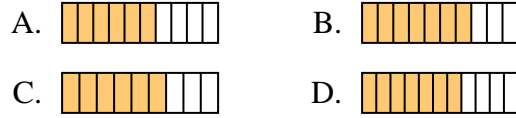
**Determina cuál opción mejor responde a cada pregunta.**

**Respuestas**

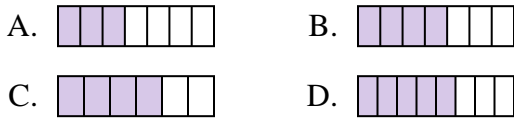
1) ¿Cuál de las figuras de abajo está sombreada para representar  $\frac{2}{8}$ ?



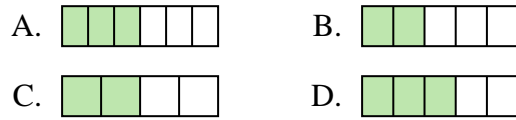
2) ¿Cuál de las figuras de abajo está sombreada para representar  $\frac{6}{10}$ ?



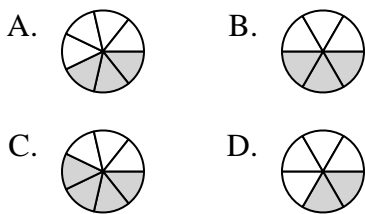
3) ¿Cuál de las figuras de abajo está sombreada para representar  $\frac{4}{7}$ ?



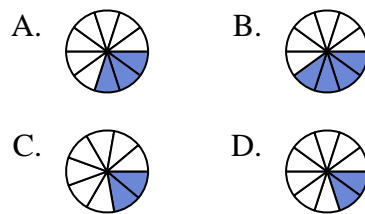
4) ¿Cuál de las figuras de abajo está sombreada para representar  $\frac{3}{5}$ ?



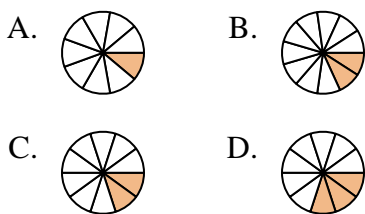
5) ¿Cuál de las figuras de abajo está sombreada para representar  $\frac{3}{7}$ ?



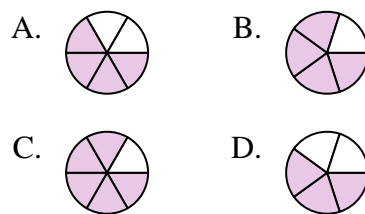
6) ¿Cuál de las figuras de abajo está sombreada para representar  $\frac{3}{10}$ ?



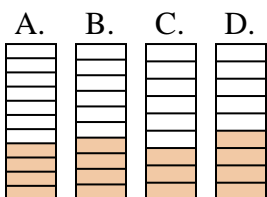
7) ¿Cuál de las figuras de abajo está sombreada para representar  $\frac{2}{10}$ ?



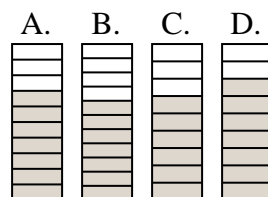
8) ¿Cuál de las figuras de abajo está sombreada para representar  $\frac{4}{6}$ ?



9) ¿Cuál de las figuras de abajo está sombreada para representar  $\frac{4}{10}$ ?



10) ¿Cuál de las figuras de abajo está sombreada para representar  $\frac{7}{10}$ ?



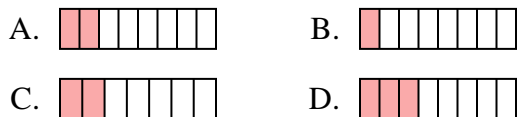
1. \_\_\_\_\_
2. \_\_\_\_\_
3. \_\_\_\_\_
4. \_\_\_\_\_
5. \_\_\_\_\_
6. \_\_\_\_\_
7. \_\_\_\_\_
8. \_\_\_\_\_
9. \_\_\_\_\_
10. \_\_\_\_\_



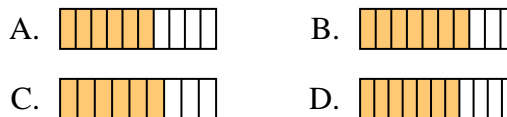
Determina cuál opción mejor responde a cada pregunta.

**Respuestas**

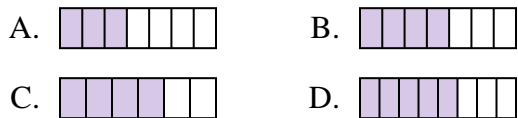
1) ¿Cuál de las figuras de abajo está sombreada para representar  $\frac{2}{8}$ ?



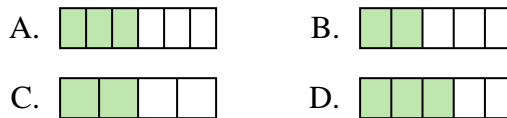
2) ¿Cuál de las figuras de abajo está sombreada para representar  $\frac{6}{10}$ ?



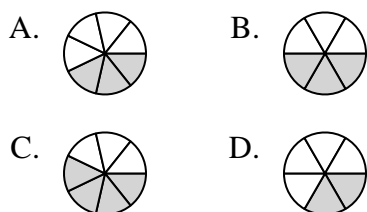
3) ¿Cuál de las figuras de abajo está sombreada para representar  $\frac{4}{7}$ ?



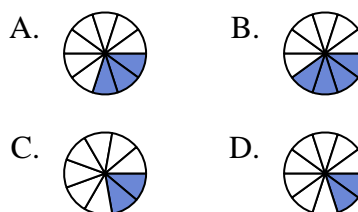
4) ¿Cuál de las figuras de abajo está sombreada para representar  $\frac{3}{5}$ ?



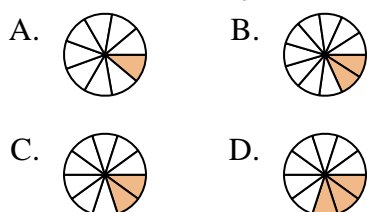
5) ¿Cuál de las figuras de abajo está sombreada para representar  $\frac{3}{7}$ ?



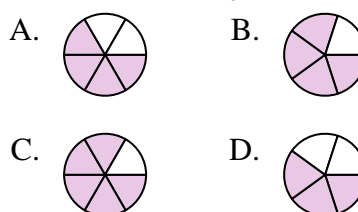
6) ¿Cuál de las figuras de abajo está sombreada para representar  $\frac{3}{10}$ ?



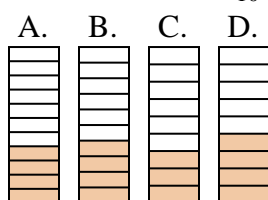
7) ¿Cuál de las figuras de abajo está sombreada para representar  $\frac{2}{10}$ ?



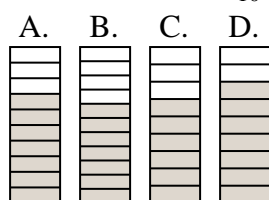
8) ¿Cuál de las figuras de abajo está sombreada para representar  $\frac{4}{6}$ ?



9) ¿Cuál de las figuras de abajo está sombreada para representar  $\frac{4}{10}$ ?



10) ¿Cuál de las figuras de abajo está sombreada para representar  $\frac{7}{10}$ ?



- 1.     **A**
- 2.     **A**
- 3.     **B**
- 4.     **D**
- 5.     **A**
- 6.     **A**
- 7.     **C**
- 8.     **A**
- 9.     **B**
- 10.     **A**