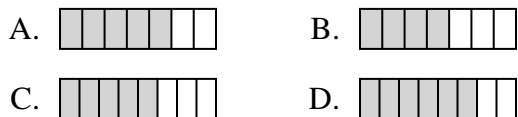




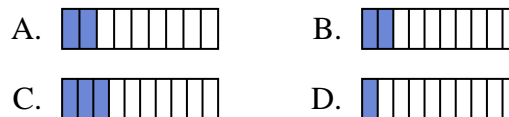
Determina cuál opción mejor responde a cada pregunta.

Respuestas

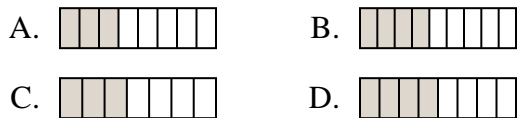
1) ¿Cuál de las figuras de abajo está sombreada para representar $\frac{5}{8}$?



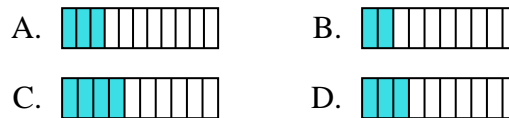
2) ¿Cuál de las figuras de abajo está sombreada para representar $\frac{2}{10}$?



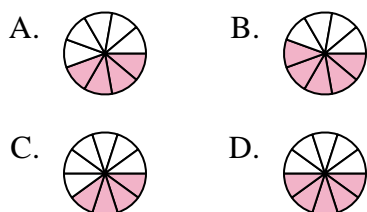
3) ¿Cuál de las figuras de abajo está sombreada para representar $\frac{4}{8}$?



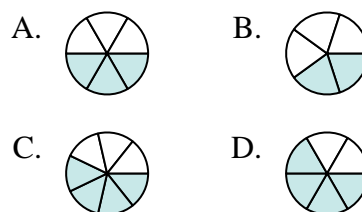
4) ¿Cuál de las figuras de abajo está sombreada para representar $\frac{3}{10}$?



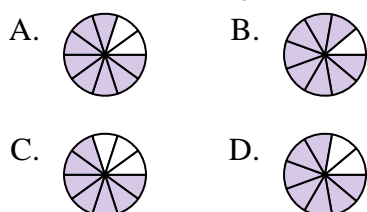
5) ¿Cuál de las figuras de abajo está sombreada para representar $\frac{5}{10}$?



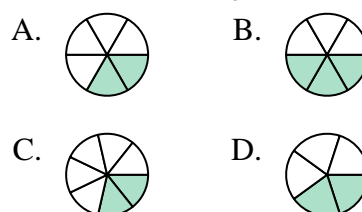
6) ¿Cuál de las figuras de abajo está sombreada para representar $\frac{3}{6}$?



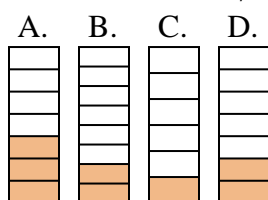
7) ¿Cuál de las figuras de abajo está sombreada para representar $\frac{8}{10}$?



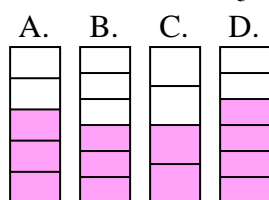
8) ¿Cuál de las figuras de abajo está sombreada para representar $\frac{2}{6}$?



9) ¿Cuál de las figuras de abajo está sombreada para representar $\frac{2}{7}$?



10) ¿Cuál de las figuras de abajo está sombreada para representar $\frac{3}{5}$?



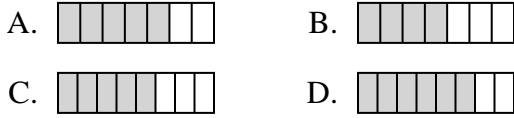
1. _____
2. _____
3. _____
4. _____
5. _____
6. _____
7. _____
8. _____
9. _____
10. _____



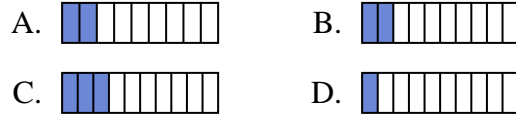
Determina cuál opción mejor responde a cada pregunta.

Respuestas

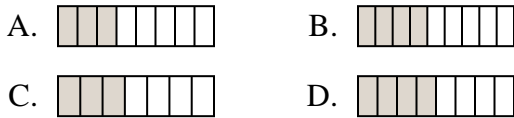
1) ¿Cuál de las figuras de abajo está sombreada para representar $\frac{5}{8}$?



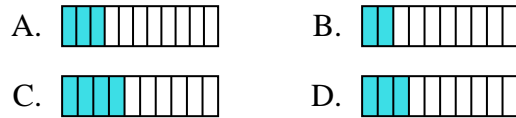
2) ¿Cuál de las figuras de abajo está sombreada para representar $\frac{2}{10}$?



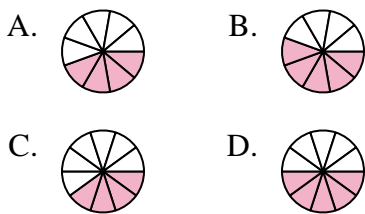
3) ¿Cuál de las figuras de abajo está sombreada para representar $\frac{4}{8}$?



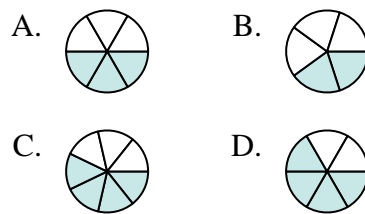
4) ¿Cuál de las figuras de abajo está sombreada para representar $\frac{3}{10}$?



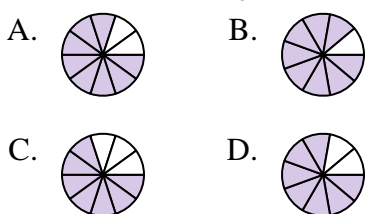
5) ¿Cuál de las figuras de abajo está sombreada para representar $\frac{5}{10}$?



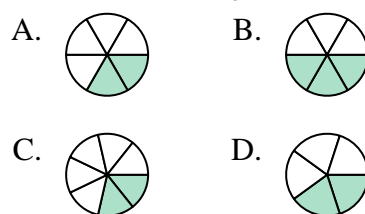
6) ¿Cuál de las figuras de abajo está sombreada para representar $\frac{3}{6}$?



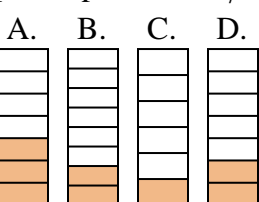
7) ¿Cuál de las figuras de abajo está sombreada para representar $\frac{8}{10}$?



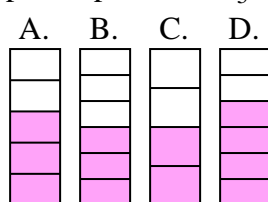
8) ¿Cuál de las figuras de abajo está sombreada para representar $\frac{2}{6}$?



9) ¿Cuál de las figuras de abajo está sombreada para representar $\frac{2}{7}$?



10) ¿Cuál de las figuras de abajo está sombreada para representar $\frac{3}{5}$?



1. **C**

2. **B**

3. **D**

4. **D**

5. **D**

6. **A**

7. **A**

8. **A**

9. **D**

10. **A**