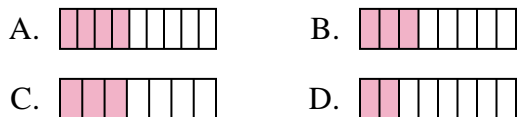




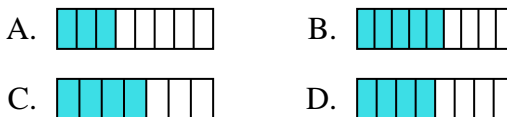
Determina cuál opción mejor responde a cada pregunta.

Respuestas

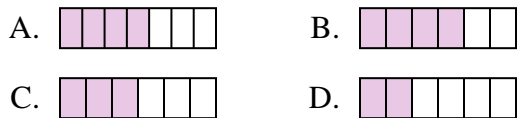
1) ¿Cuál de las figuras de abajo está sombreada para representar $\frac{3}{8}$?



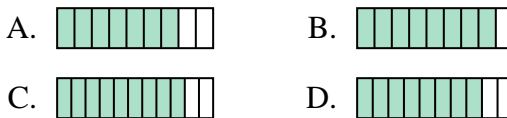
2) ¿Cuál de las figuras de abajo está sombreada para representar $\frac{4}{8}$?



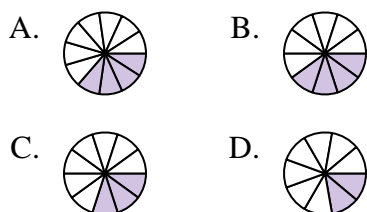
3) ¿Cuál de las figuras de abajo está sombreada para representar $\frac{3}{6}$?



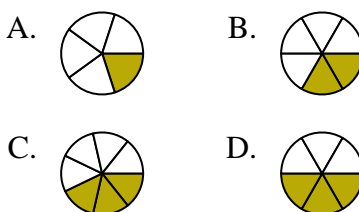
4) ¿Cuál de las figuras de abajo está sombreada para representar $\frac{8}{10}$?



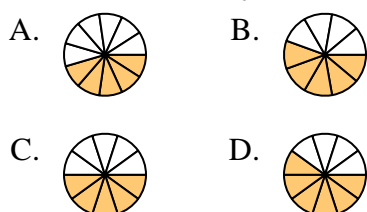
5) ¿Cuál de las figuras de abajo está sombreada para representar $\frac{3}{10}$?



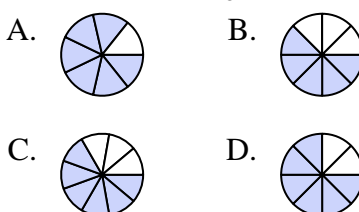
6) ¿Cuál de las figuras de abajo está sombreada para representar $\frac{2}{6}$?




7) ¿Cuál de las figuras de abajo está sombreada para representar $\frac{5}{10}$?



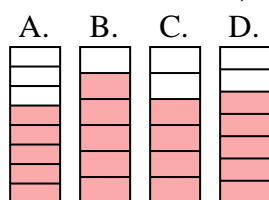
8) ¿Cuál de las figuras de abajo está sombreada para representar $\frac{6}{8}$?



9) ¿Cuál de las figuras de abajo está sombreada para representar $\frac{2}{4}$?



10) ¿Cuál de las figuras de abajo está sombreada para representar $\frac{5}{7}$?



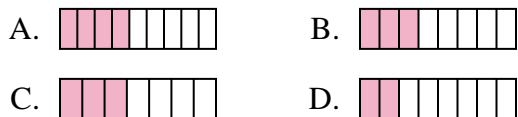
1. _____
2. _____
3. _____
4. _____
5. _____
6. _____
7. _____
8. _____
9. _____
10. _____



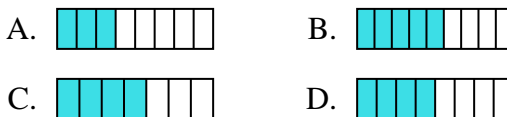
Determina cuál opción mejor responde a cada pregunta.

Respuestas

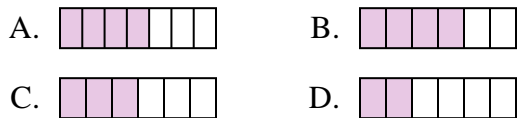
1) ¿Cuál de las figuras de abajo está sombreada para representar $\frac{3}{8}$?



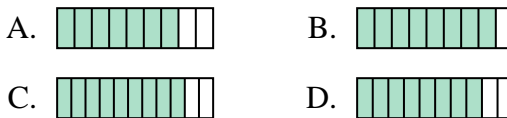
2) ¿Cuál de las figuras de abajo está sombreada para representar $\frac{4}{8}$?



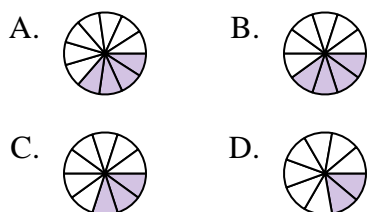
3) ¿Cuál de las figuras de abajo está sombreada para representar $\frac{3}{6}$?



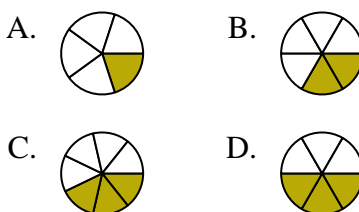
4) ¿Cuál de las figuras de abajo está sombreada para representar $\frac{8}{10}$?



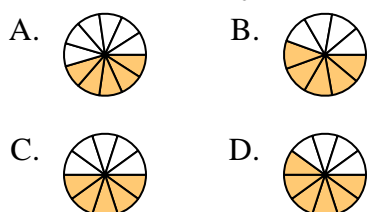
5) ¿Cuál de las figuras de abajo está sombreada para representar $\frac{3}{10}$?



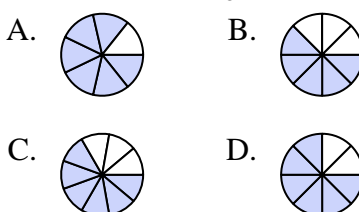
6) ¿Cuál de las figuras de abajo está sombreada para representar $\frac{2}{6}$?




7) ¿Cuál de las figuras de abajo está sombreada para representar $\frac{5}{10}$?



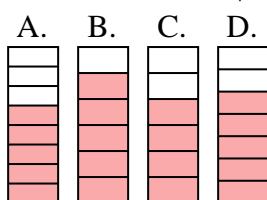
8) ¿Cuál de las figuras de abajo está sombreada para representar $\frac{6}{8}$?



9) ¿Cuál de las figuras de abajo está sombreada para representar $\frac{2}{4}$?



10) ¿Cuál de las figuras de abajo está sombreada para representar $\frac{5}{7}$?



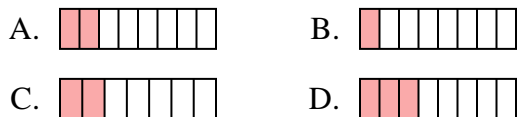
- 1. **B**
- 2. **D**
- 3. **C**
- 4. **D**
- 5. **C**
- 6. **B**
- 7. **C**
- 8. **D**
- 9. **D**
- 10. **D**



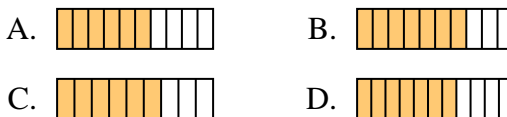
Determina cuál opción mejor responde a cada pregunta.

Respuestas

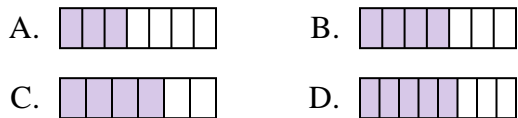
1) ¿Cuál de las figuras de abajo está sombreada para representar $\frac{2}{8}$?



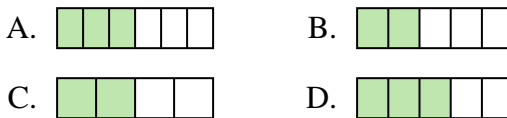
2) ¿Cuál de las figuras de abajo está sombreada para representar $\frac{6}{10}$?



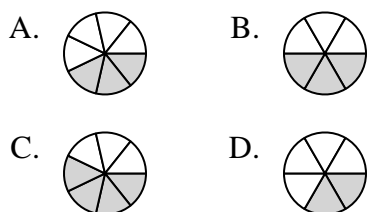
3) ¿Cuál de las figuras de abajo está sombreada para representar $\frac{4}{7}$?



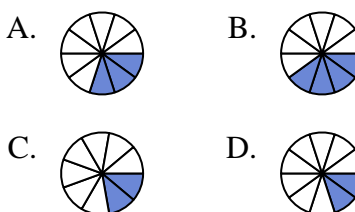
4) ¿Cuál de las figuras de abajo está sombreada para representar $\frac{3}{5}$?



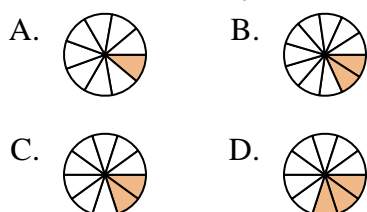
5) ¿Cuál de las figuras de abajo está sombreada para representar $\frac{3}{7}$?



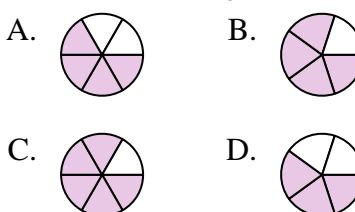
6) ¿Cuál de las figuras de abajo está sombreada para representar $\frac{3}{10}$?



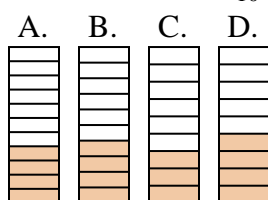
7) ¿Cuál de las figuras de abajo está sombreada para representar $\frac{2}{10}$?



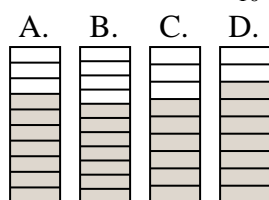
8) ¿Cuál de las figuras de abajo está sombreada para representar $\frac{4}{6}$?



9) ¿Cuál de las figuras de abajo está sombreada para representar $\frac{4}{10}$?



10) ¿Cuál de las figuras de abajo está sombreada para representar $\frac{7}{10}$?



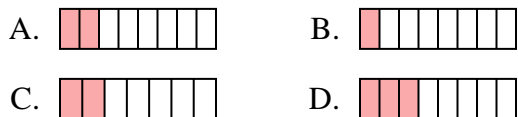
1. _____
2. _____
3. _____
4. _____
5. _____
6. _____
7. _____
8. _____
9. _____
10. _____



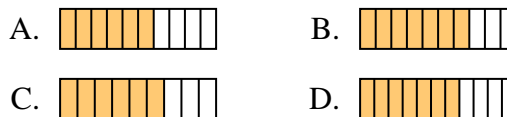
Determina cuál opción mejor responde a cada pregunta.

Respuestas

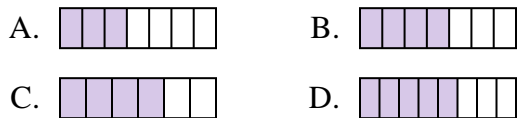
1) ¿Cuál de las figuras de abajo está sombreada para representar $\frac{2}{8}$?



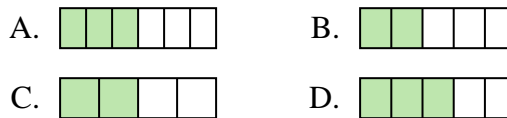
2) ¿Cuál de las figuras de abajo está sombreada para representar $\frac{6}{10}$?



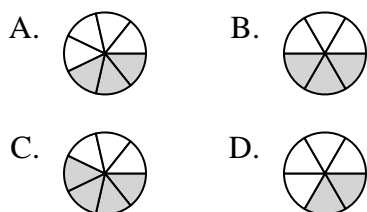
3) ¿Cuál de las figuras de abajo está sombreada para representar $\frac{4}{7}$?



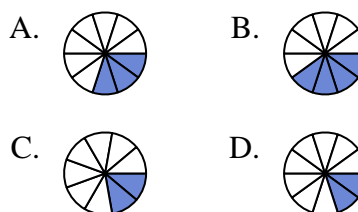
4) ¿Cuál de las figuras de abajo está sombreada para representar $\frac{3}{5}$?



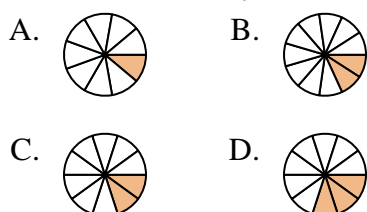
5) ¿Cuál de las figuras de abajo está sombreada para representar $\frac{3}{7}$?



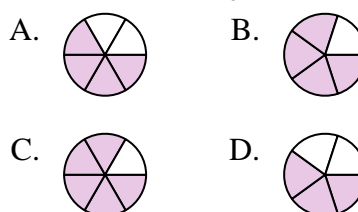
6) ¿Cuál de las figuras de abajo está sombreada para representar $\frac{3}{10}$?



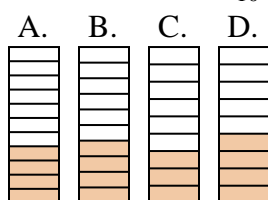
7) ¿Cuál de las figuras de abajo está sombreada para representar $\frac{2}{10}$?



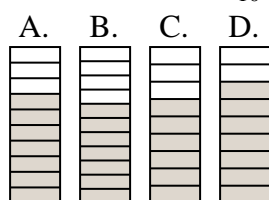
8) ¿Cuál de las figuras de abajo está sombreada para representar $\frac{4}{6}$?



9) ¿Cuál de las figuras de abajo está sombreada para representar $\frac{4}{10}$?



10) ¿Cuál de las figuras de abajo está sombreada para representar $\frac{7}{10}$?



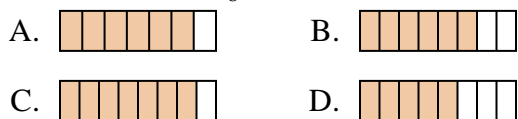
- 1. **A**
- 2. **A**
- 3. **B**
- 4. **D**
- 5. **A**
- 6. **A**
- 7. **C**
- 8. **A**
- 9. **B**
- 10. **A**



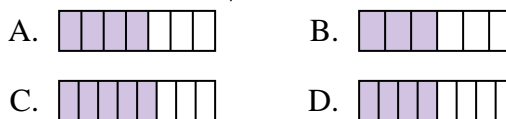
Determina cuál opción mejor responde a cada pregunta.

Respuestas

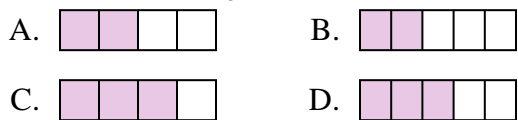
1) ¿Cuál de las figuras de abajo está sombreada para representar $\frac{6}{8}$?



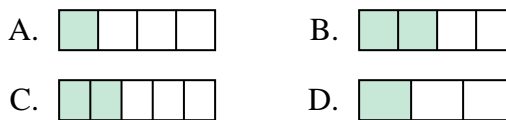
2) ¿Cuál de las figuras de abajo está sombreada para representar $\frac{4}{7}$?



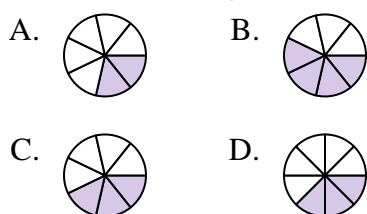
3) ¿Cuál de las figuras de abajo está sombreada para representar $\frac{3}{5}$?



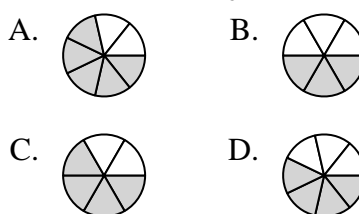
4) ¿Cuál de las figuras de abajo está sombreada para representar $\frac{2}{4}$?



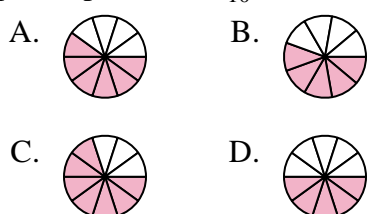
5) ¿Cuál de las figuras de abajo está sombreada para representar $\frac{3}{7}$?



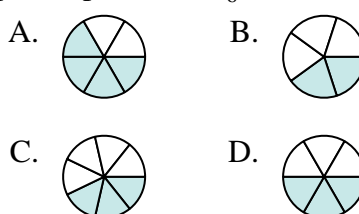
6) ¿Cuál de las figuras de abajo está sombreada para representar $\frac{4}{6}$?



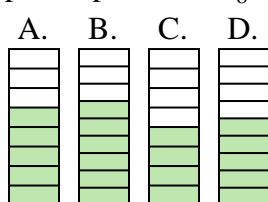
7) ¿Cuál de las figuras de abajo está sombreada para representar $\frac{6}{10}$?



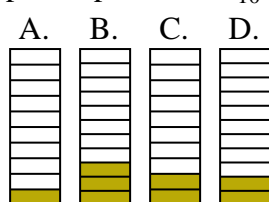
8) ¿Cuál de las figuras de abajo está sombreada para representar $\frac{3}{6}$?



9) ¿Cuál de las figuras de abajo está sombreada para representar $\frac{5}{8}$?



10) ¿Cuál de las figuras de abajo está sombreada para representar $\frac{2}{10}$?



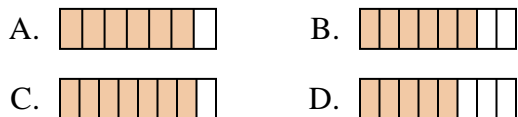
1. _____
2. _____
3. _____
4. _____
5. _____
6. _____
7. _____
8. _____
9. _____
10. _____



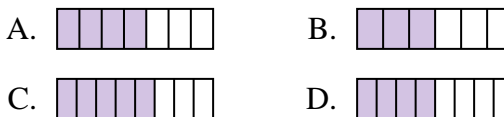
Determina cuál opción mejor responde a cada pregunta.

Respuestas

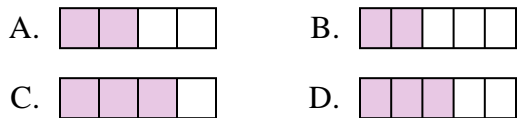
1) ¿Cuál de las figuras de abajo está sombreada para representar $\frac{6}{8}$?



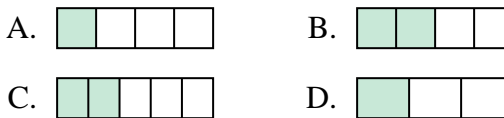
2) ¿Cuál de las figuras de abajo está sombreada para representar $\frac{4}{7}$?



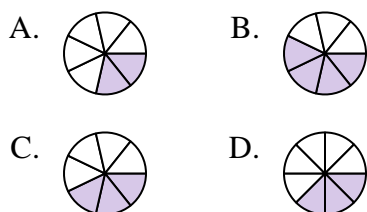
3) ¿Cuál de las figuras de abajo está sombreada para representar $\frac{3}{5}$?



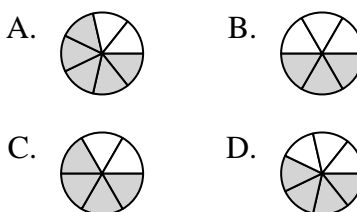
4) ¿Cuál de las figuras de abajo está sombreada para representar $\frac{2}{4}$?



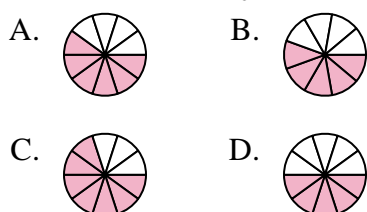
5) ¿Cuál de las figuras de abajo está sombreada para representar $\frac{3}{7}$?



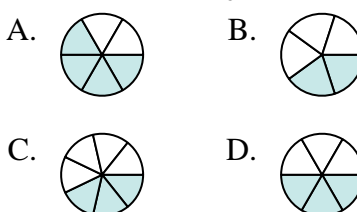
6) ¿Cuál de las figuras de abajo está sombreada para representar $\frac{4}{6}$?



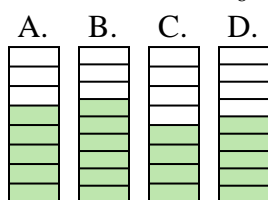
7) ¿Cuál de las figuras de abajo está sombreada para representar $\frac{6}{10}$?



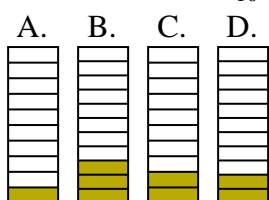
8) ¿Cuál de las figuras de abajo está sombreada para representar $\frac{3}{6}$?



9) ¿Cuál de las figuras de abajo está sombreada para representar $\frac{5}{8}$?



10) ¿Cuál de las figuras de abajo está sombreada para representar $\frac{2}{10}$?



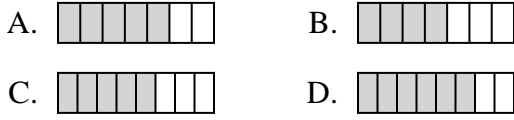
- 1. **B**
- 2. **A**
- 3. **D**
- 4. **B**
- 5. **C**
- 6. **C**
- 7. **A**
- 8. **D**
- 9. **A**
- 10. **C**



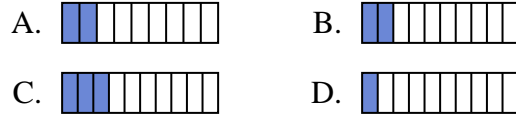
Determina cuál opción mejor responde a cada pregunta.

Respuestas

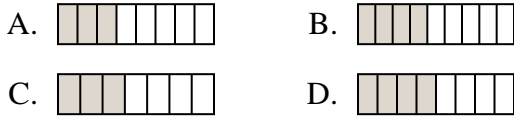
1) ¿Cuál de las figuras de abajo está sombreada para representar $\frac{5}{8}$?



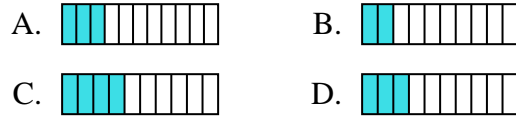
2) ¿Cuál de las figuras de abajo está sombreada para representar $\frac{2}{10}$?



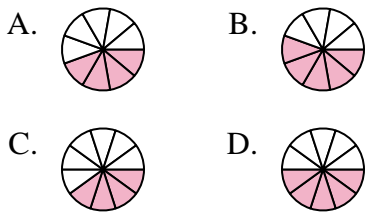
3) ¿Cuál de las figuras de abajo está sombreada para representar $\frac{4}{8}$?



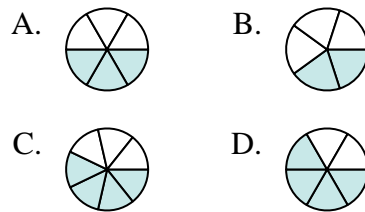
4) ¿Cuál de las figuras de abajo está sombreada para representar $\frac{3}{10}$?



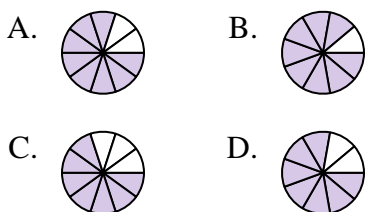
5) ¿Cuál de las figuras de abajo está sombreada para representar $\frac{5}{10}$?



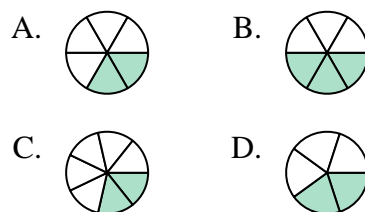
6) ¿Cuál de las figuras de abajo está sombreada para representar $\frac{3}{6}$?



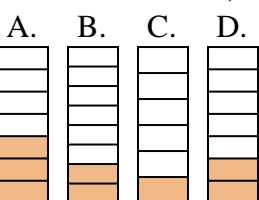
7) ¿Cuál de las figuras de abajo está sombreada para representar $\frac{8}{10}$?



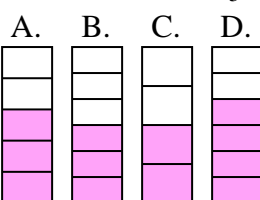
8) ¿Cuál de las figuras de abajo está sombreada para representar $\frac{2}{6}$?



9) ¿Cuál de las figuras de abajo está sombreada para representar $\frac{2}{7}$?



10) ¿Cuál de las figuras de abajo está sombreada para representar $\frac{3}{5}$?



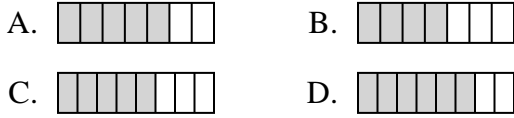
1. _____
2. _____
3. _____
4. _____
5. _____
6. _____
7. _____
8. _____
9. _____
10. _____



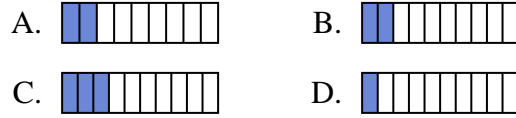
Determina cuál opción mejor responde a cada pregunta.

Respuestas

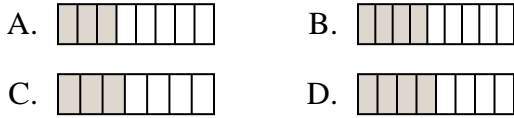
1) ¿Cuál de las figuras de abajo está sombreada para representar $\frac{5}{8}$?



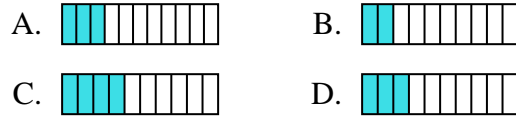
2) ¿Cuál de las figuras de abajo está sombreada para representar $\frac{2}{10}$?



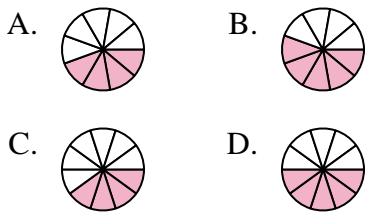
3) ¿Cuál de las figuras de abajo está sombreada para representar $\frac{4}{8}$?



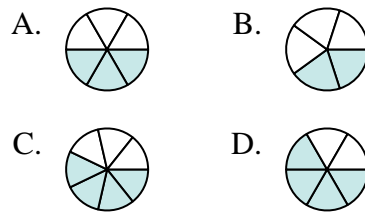
4) ¿Cuál de las figuras de abajo está sombreada para representar $\frac{3}{10}$?



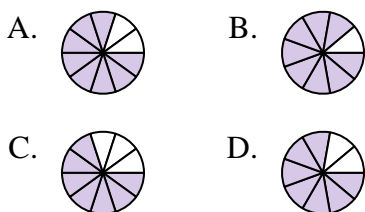
5) ¿Cuál de las figuras de abajo está sombreada para representar $\frac{5}{10}$?



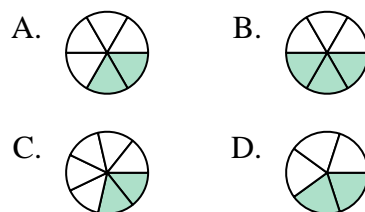
6) ¿Cuál de las figuras de abajo está sombreada para representar $\frac{3}{6}$?



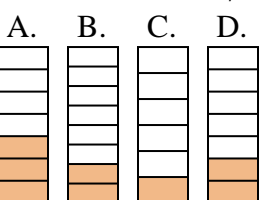
7) ¿Cuál de las figuras de abajo está sombreada para representar $\frac{8}{10}$?



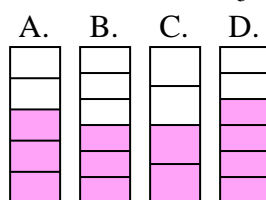
8) ¿Cuál de las figuras de abajo está sombreada para representar $\frac{2}{6}$?



9) ¿Cuál de las figuras de abajo está sombreada para representar $\frac{2}{7}$?



10) ¿Cuál de las figuras de abajo está sombreada para representar $\frac{3}{5}$?



1. **C**

2. **B**

3. **D**

4. **D**

5. **D**

6. **A**

7. **A**

8. **A**

9. **D**

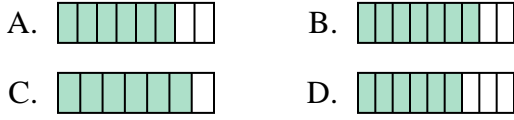
10. **A**



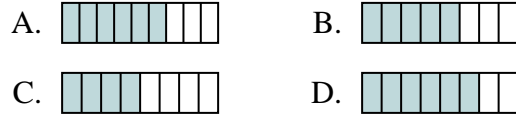
Determina cuál opción mejor responde a cada pregunta.

Respuestas

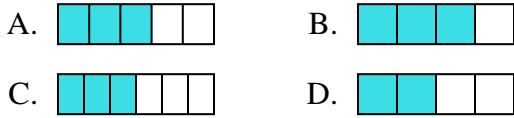
1) ¿Cuál de las figuras de abajo está sombreada para representar $\frac{6}{8}$?



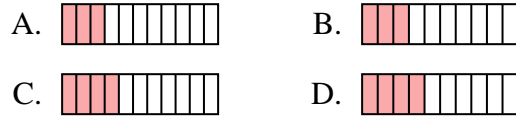
2) ¿Cuál de las figuras de abajo está sombreada para representar $\frac{5}{8}$?



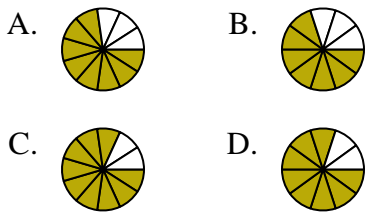
3) ¿Cuál de las figuras de abajo está sombreada para representar $\frac{3}{5}$?



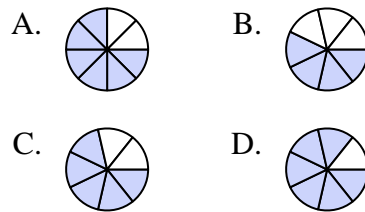
4) ¿Cuál de las figuras de abajo está sombreada para representar $\frac{3}{10}$?



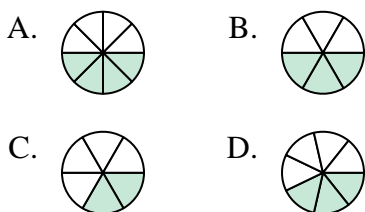
5) ¿Cuál de las figuras de abajo está sombreada para representar $\frac{8}{10}$?



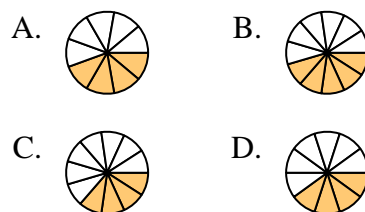
6) ¿Cuál de las figuras de abajo está sombreada para representar $\frac{5}{7}$?



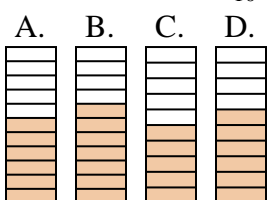
7) ¿Cuál de las figuras de abajo está sombreada para representar $\frac{3}{7}$?



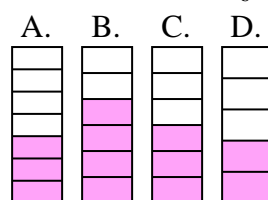
8) ¿Cuál de las figuras de abajo está sombreada para representar $\frac{4}{10}$?



9) ¿Cuál de las figuras de abajo está sombreada para representar $\frac{6}{10}$?



10) ¿Cuál de las figuras de abajo está sombreada para representar $\frac{3}{6}$?



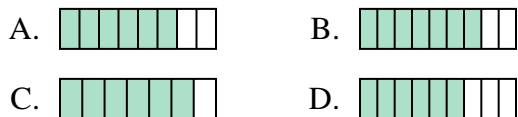
1. _____
2. _____
3. _____
4. _____
5. _____
6. _____
7. _____
8. _____
9. _____
10. _____



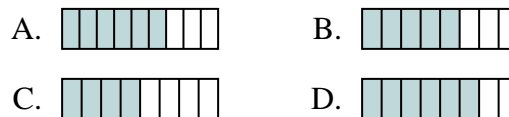
Determina cuál opción mejor responde a cada pregunta.

Respuestas

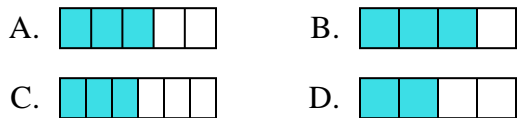
1) ¿Cuál de las figuras de abajo está sombreada para representar $\frac{6}{8}$?



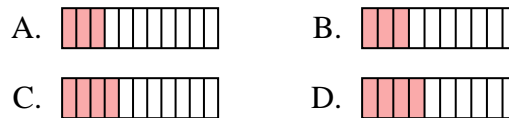
2) ¿Cuál de las figuras de abajo está sombreada para representar $\frac{5}{8}$?



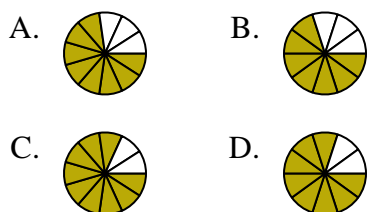
3) ¿Cuál de las figuras de abajo está sombreada para representar $\frac{3}{5}$?



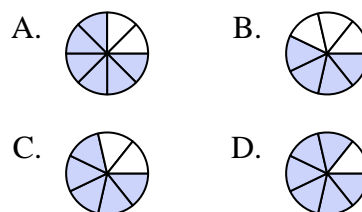
4) ¿Cuál de las figuras de abajo está sombreada para representar $\frac{3}{10}$?



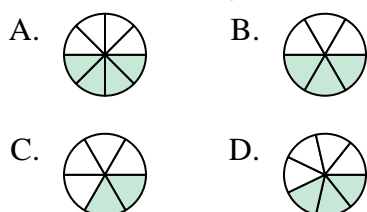
5) ¿Cuál de las figuras de abajo está sombreada para representar $\frac{8}{10}$?



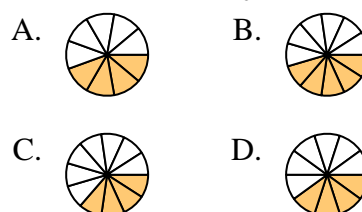
6) ¿Cuál de las figuras de abajo está sombreada para representar $\frac{5}{7}$?



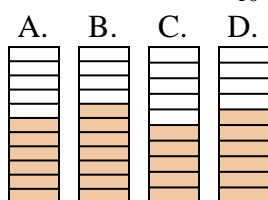
7) ¿Cuál de las figuras de abajo está sombreada para representar $\frac{3}{7}$?



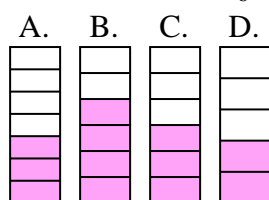
8) ¿Cuál de las figuras de abajo está sombreada para representar $\frac{4}{10}$?



9) ¿Cuál de las figuras de abajo está sombreada para representar $\frac{6}{10}$?



10) ¿Cuál de las figuras de abajo está sombreada para representar $\frac{3}{6}$?



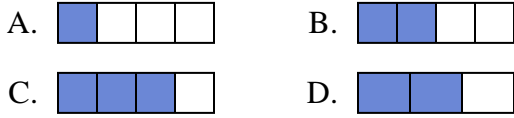
- 1. **A**
- 2. **B**
- 3. **A**
- 4. **B**
- 5. **D**
- 6. **C**
- 7. **D**
- 8. **D**
- 9. **D**
- 10. **C**



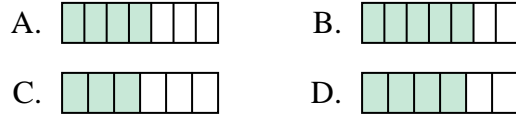
Determina cuál opción mejor responde a cada pregunta.

Respuestas

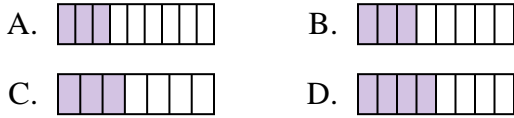
1) ¿Cuál de las figuras de abajo está sombreada para representar $\frac{2}{4}$?



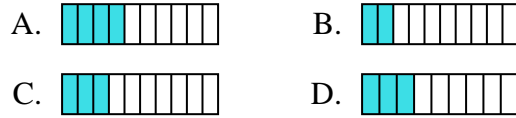
2) ¿Cuál de las figuras de abajo está sombreada para representar $\frac{4}{6}$?



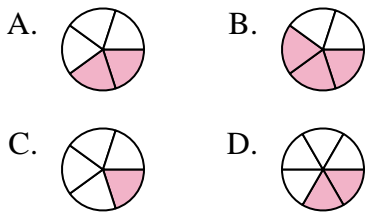
3) ¿Cuál de las figuras de abajo está sombreada para representar $\frac{3}{8}$?



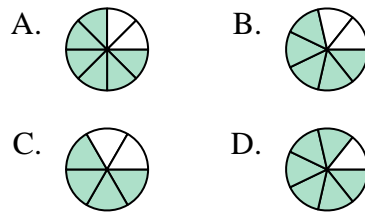
4) ¿Cuál de las figuras de abajo está sombreada para representar $\frac{3}{10}$?



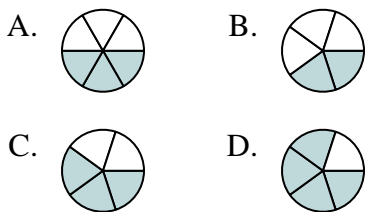
5) ¿Cuál de las figuras de abajo está sombreada para representar $\frac{2}{5}$?



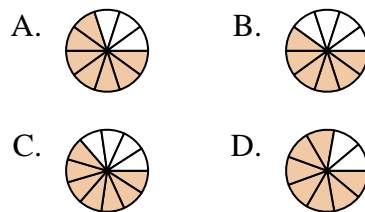
6) ¿Cuál de las figuras de abajo está sombreada para representar $\frac{5}{7}$?



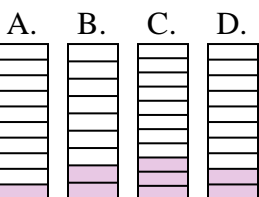
7) ¿Cuál de las figuras de abajo está sombreada para representar $\frac{3}{5}$?



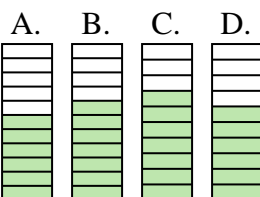
8) ¿Cuál de las figuras de abajo está sombreada para representar $\frac{7}{10}$?



9) ¿Cuál de las figuras de abajo está sombreada para representar $\frac{2}{10}$?



10) ¿Cuál de las figuras de abajo está sombreada para representar $\frac{6}{10}$?



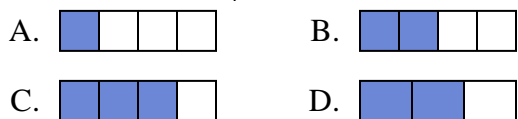
1. _____
2. _____
3. _____
4. _____
5. _____
6. _____
7. _____
8. _____
9. _____
10. _____



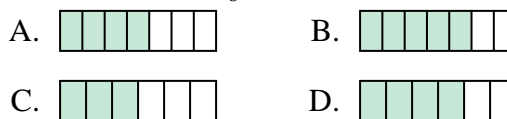
Determina cuál opción mejor responde a cada pregunta.

Respuestas

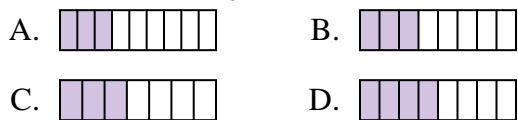
1) ¿Cuál de las figuras de abajo está sombreada para representar $\frac{2}{4}$?



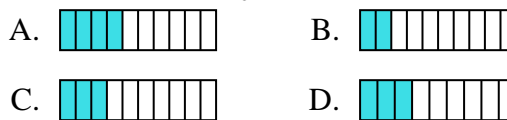
2) ¿Cuál de las figuras de abajo está sombreada para representar $\frac{4}{6}$?



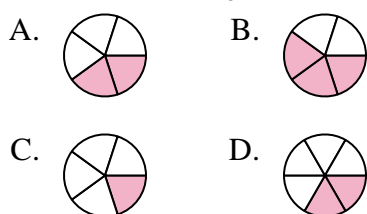
3) ¿Cuál de las figuras de abajo está sombreada para representar $\frac{3}{8}$?



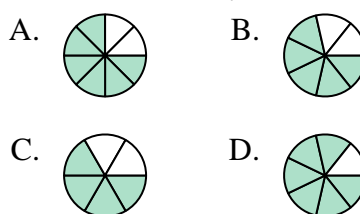
4) ¿Cuál de las figuras de abajo está sombreada para representar $\frac{3}{10}$?



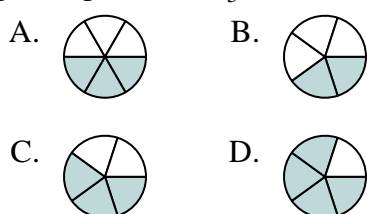
5) ¿Cuál de las figuras de abajo está sombreada para representar $\frac{2}{5}$?



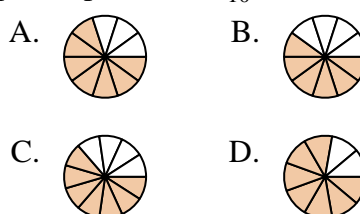
6) ¿Cuál de las figuras de abajo está sombreada para representar $\frac{5}{7}$?



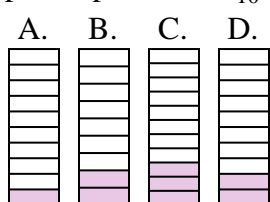
7) ¿Cuál de las figuras de abajo está sombreada para representar $\frac{3}{5}$?



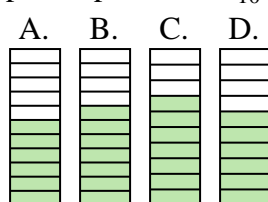
8) ¿Cuál de las figuras de abajo está sombreada para representar $\frac{7}{10}$?



9) ¿Cuál de las figuras de abajo está sombreada para representar $\frac{2}{10}$?



10) ¿Cuál de las figuras de abajo está sombreada para representar $\frac{6}{10}$?



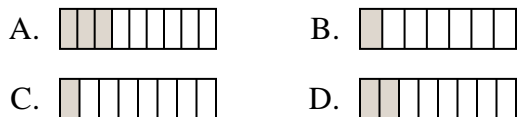
- 1. **B**
- 2. **D**
- 3. **B**
- 4. **C**
- 5. **A**
- 6. **B**
- 7. **C**
- 8. **A**
- 9. **D**
- 10. **D**



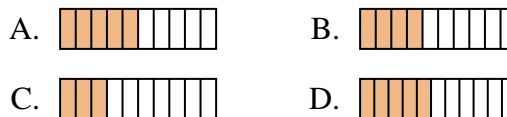
Determina cuál opción mejor responde a cada pregunta.

Respuestas

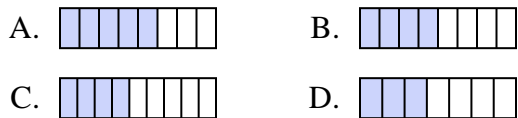
1) ¿Cuál de las figuras de abajo está sombreada para representar $\frac{2}{8}$?



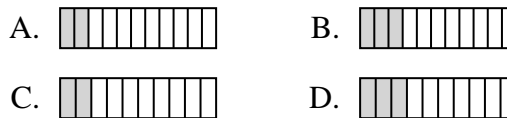
2) ¿Cuál de las figuras de abajo está sombreada para representar $\frac{4}{10}$?



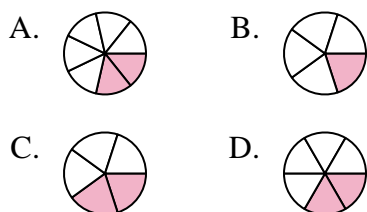
3) ¿Cuál de las figuras de abajo está sombreada para representar $\frac{4}{8}$?



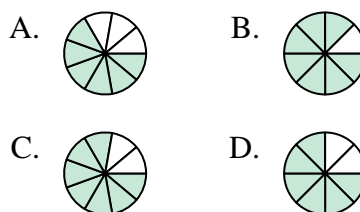
4) ¿Cuál de las figuras de abajo está sombreada para representar $\frac{2}{10}$?



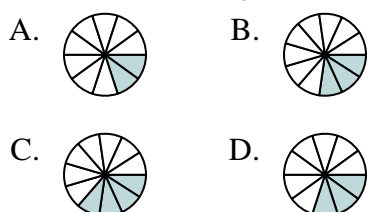
5) ¿Cuál de las figuras de abajo está sombreada para representar $\frac{2}{6}$?



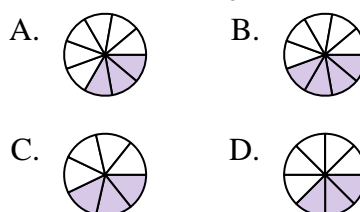
6) ¿Cuál de las figuras de abajo está sombreada para representar $\frac{6}{8}$?



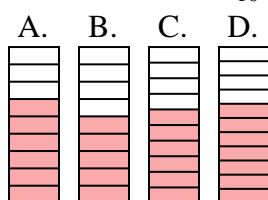
7) ¿Cuál de las figuras de abajo está sombreada para representar $\frac{3}{10}$?



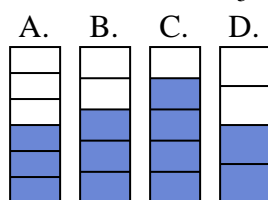
8) ¿Cuál de las figuras de abajo está sombreada para representar $\frac{3}{8}$?



9) ¿Cuál de las figuras de abajo está sombreada para representar $\frac{6}{10}$?



10) ¿Cuál de las figuras de abajo está sombreada para representar $\frac{3}{5}$?



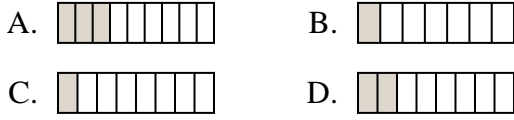
1. _____
2. _____
3. _____
4. _____
5. _____
6. _____
7. _____
8. _____
9. _____
10. _____



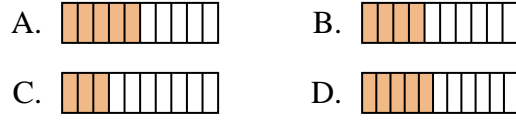
Determina cuál opción mejor responde a cada pregunta.

Respuestas

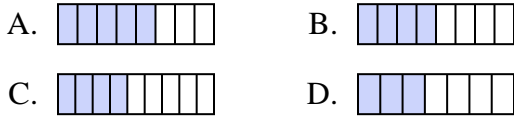
1) ¿Cuál de las figuras de abajo está sombreada para representar $\frac{2}{8}$?



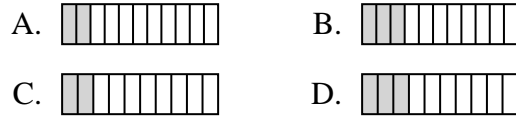
2) ¿Cuál de las figuras de abajo está sombreada para representar $\frac{4}{10}$?



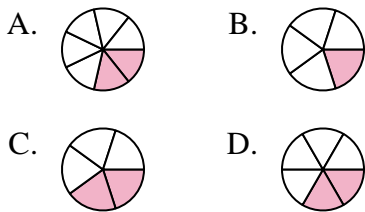
3) ¿Cuál de las figuras de abajo está sombreada para representar $\frac{4}{8}$?



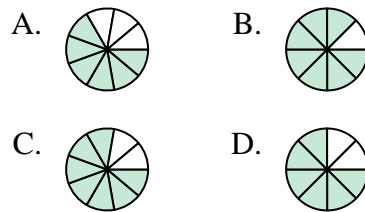
4) ¿Cuál de las figuras de abajo está sombreada para representar $\frac{2}{10}$?



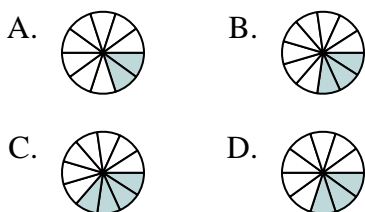
5) ¿Cuál de las figuras de abajo está sombreada para representar $\frac{2}{6}$?



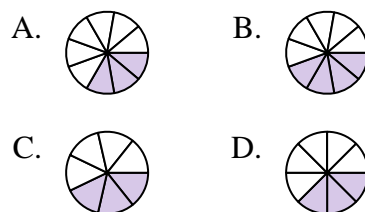
6) ¿Cuál de las figuras de abajo está sombreada para representar $\frac{6}{8}$?



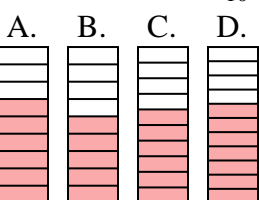
7) ¿Cuál de las figuras de abajo está sombreada para representar $\frac{3}{10}$?



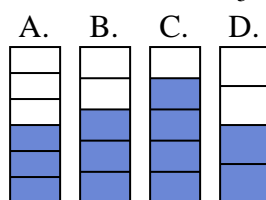
8) ¿Cuál de las figuras de abajo está sombreada para representar $\frac{3}{8}$?



9) ¿Cuál de las figuras de abajo está sombreada para representar $\frac{6}{10}$?



10) ¿Cuál de las figuras de abajo está sombreada para representar $\frac{3}{5}$?



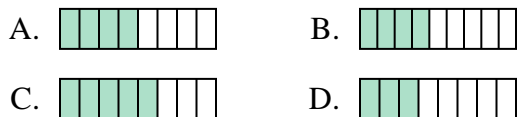
- 1. **D**
- 2. **B**
- 3. **B**
- 4. **C**
- 5. **D**
- 6. **D**
- 7. **D**
- 8. **D**
- 9. **C**
- 10. **B**



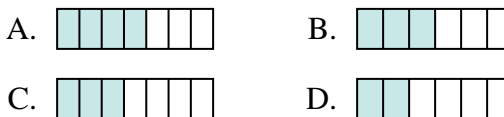
Determina cuál opción mejor responde a cada pregunta.

Respuestas

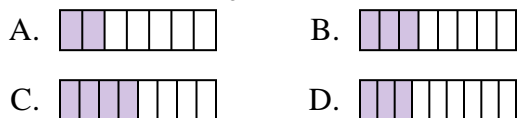
1) ¿Cuál de las figuras de abajo está sombreada para representar $\frac{4}{8}$?



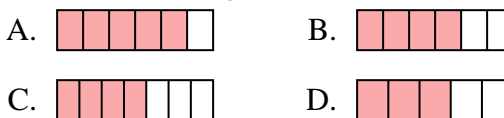
2) ¿Cuál de las figuras de abajo está sombreada para representar $\frac{3}{6}$?



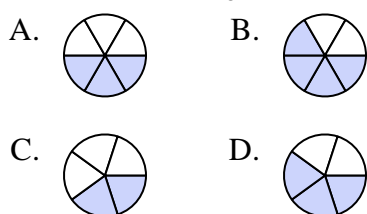
3) ¿Cuál de las figuras de abajo está sombreada para representar $\frac{3}{8}$?



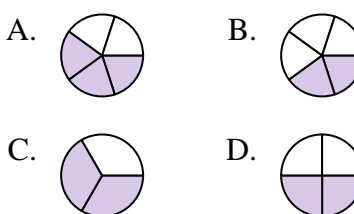
4) ¿Cuál de las figuras de abajo está sombreada para representar $\frac{4}{6}$?



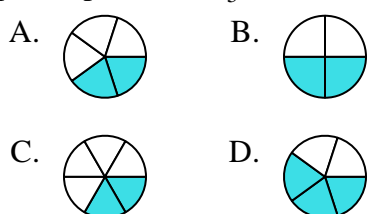
5) ¿Cuál de las figuras de abajo está sombreada para representar $\frac{3}{5}$?



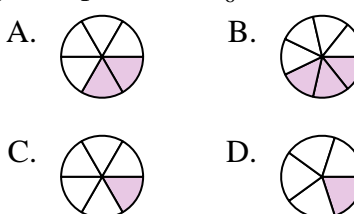
6) ¿Cuál de las figuras de abajo está sombreada para representar $\frac{2}{4}$?



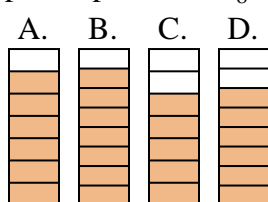
7) ¿Cuál de las figuras de abajo está sombreada para representar $\frac{2}{5}$?



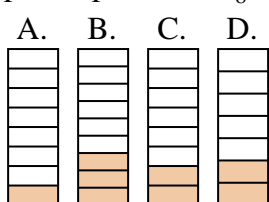
8) ¿Cuál de las figuras de abajo está sombreada para representar $\frac{2}{6}$?



9) ¿Cuál de las figuras de abajo está sombreada para representar $\frac{6}{8}$?



10) ¿Cuál de las figuras de abajo está sombreada para representar $\frac{2}{8}$?



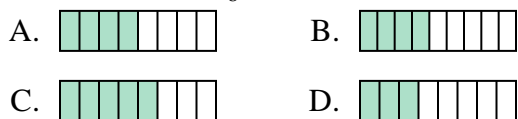
1. _____
2. _____
3. _____
4. _____
5. _____
6. _____
7. _____
8. _____
9. _____
10. _____



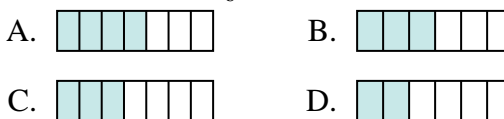
Determina cuál opción mejor responde a cada pregunta.

Respuestas

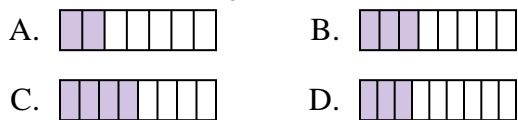
1) ¿Cuál de las figuras de abajo está sombreada para representar $\frac{4}{8}$?



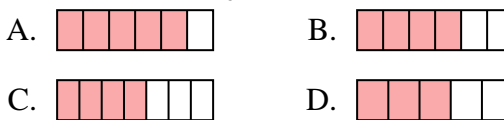
2) ¿Cuál de las figuras de abajo está sombreada para representar $\frac{3}{6}$?



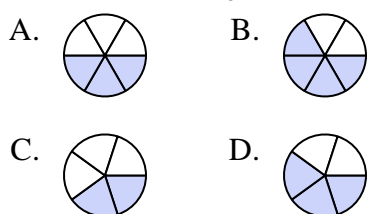
3) ¿Cuál de las figuras de abajo está sombreada para representar $\frac{3}{8}$?



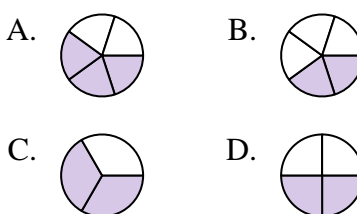
4) ¿Cuál de las figuras de abajo está sombreada para representar $\frac{4}{6}$?



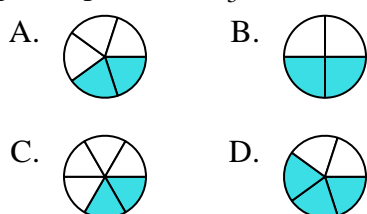
5) ¿Cuál de las figuras de abajo está sombreada para representar $\frac{3}{5}$?



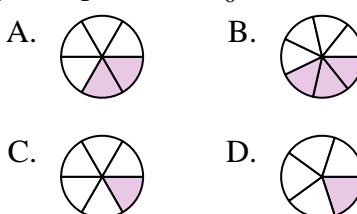
6) ¿Cuál de las figuras de abajo está sombreada para representar $\frac{2}{4}$?



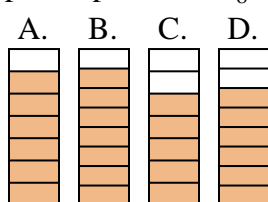
7) ¿Cuál de las figuras de abajo está sombreada para representar $\frac{2}{5}$?



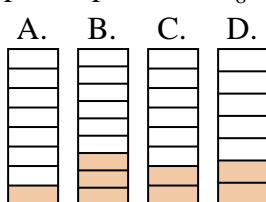
8) ¿Cuál de las figuras de abajo está sombreada para representar $\frac{2}{6}$?



9) ¿Cuál de las figuras de abajo está sombreada para representar $\frac{6}{8}$?



10) ¿Cuál de las figuras de abajo está sombreada para representar $\frac{2}{8}$?



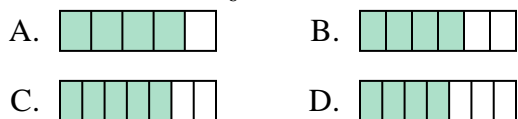
1. **A**
2. **B**
3. **B**
4. **B**
5. **D**
6. **D**
7. **A**
8. **A**
9. **D**
10. **C**



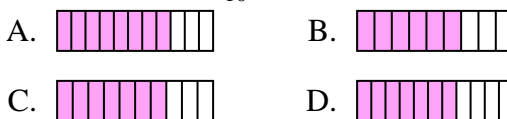
Determina cuál opción mejor responde a cada pregunta.

Respuestas

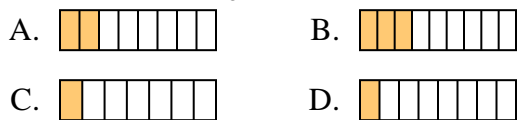
1) ¿Cuál de las figuras de abajo está sombreada para representar $\frac{4}{6}$?



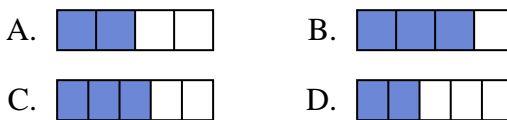
2) ¿Cuál de las figuras de abajo está sombreada para representar $\frac{7}{10}$?



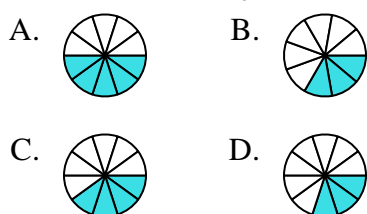
3) ¿Cuál de las figuras de abajo está sombreada para representar $\frac{2}{8}$?



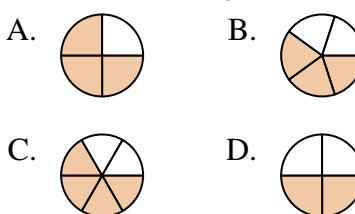
4) ¿Cuál de las figuras de abajo está sombreada para representar $\frac{2}{4}$?



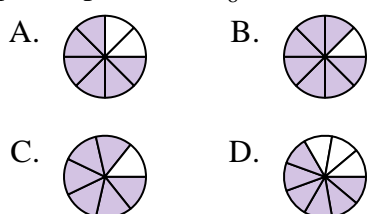
5) ¿Cuál de las figuras de abajo está sombreada para representar $\frac{4}{10}$?



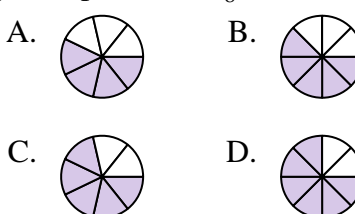
6) ¿Cuál de las figuras de abajo está sombreada para representar $\frac{3}{5}$?



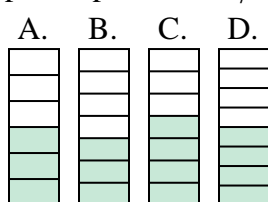
7) ¿Cuál de las figuras de abajo está sombreada para representar $\frac{6}{8}$?



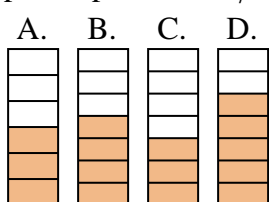
8) ¿Cuál de las figuras de abajo está sombreada para representar $\frac{5}{8}$?



9) ¿Cuál de las figuras de abajo está sombreada para representar $\frac{3}{7}$?



10) ¿Cuál de las figuras de abajo está sombreada para representar $\frac{4}{7}$?



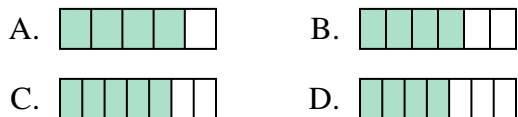
1. _____
2. _____
3. _____
4. _____
5. _____
6. _____
7. _____
8. _____
9. _____
10. _____



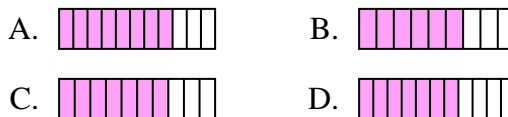
Determina cuál opción mejor responde a cada pregunta.

Respuestas

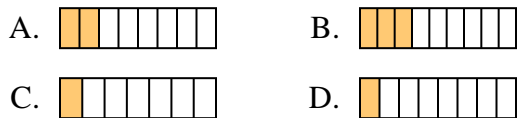
1) ¿Cuál de las figuras de abajo está sombreada para representar $\frac{4}{6}$?



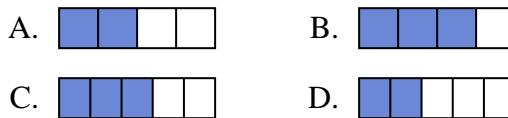
2) ¿Cuál de las figuras de abajo está sombreada para representar $\frac{7}{10}$?



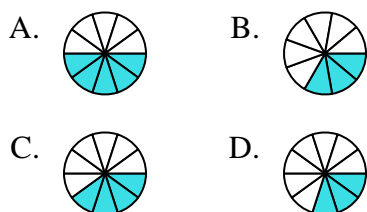
3) ¿Cuál de las figuras de abajo está sombreada para representar $\frac{2}{8}$?



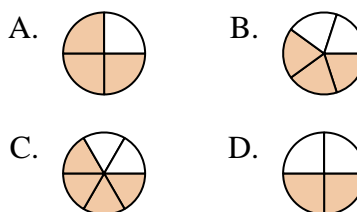
4) ¿Cuál de las figuras de abajo está sombreada para representar $\frac{2}{4}$?



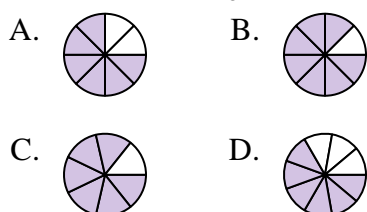
5) ¿Cuál de las figuras de abajo está sombreada para representar $\frac{4}{10}$?



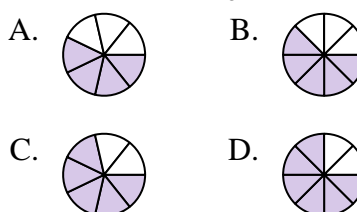
6) ¿Cuál de las figuras de abajo está sombreada para representar $\frac{3}{5}$?



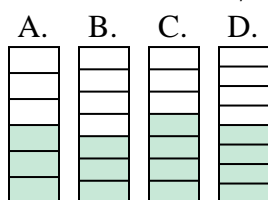
7) ¿Cuál de las figuras de abajo está sombreada para representar $\frac{6}{8}$?



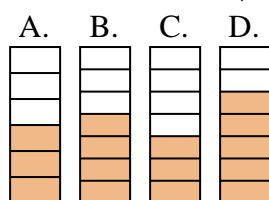
8) ¿Cuál de las figuras de abajo está sombreada para representar $\frac{5}{8}$?



9) ¿Cuál de las figuras de abajo está sombreada para representar $\frac{3}{7}$?



10) ¿Cuál de las figuras de abajo está sombreada para representar $\frac{4}{7}$?



1. **B**

2. **C**

3. **A**

4. **A**

5. **C**

6. **B**

7. **A**

8. **B**

9. **B**

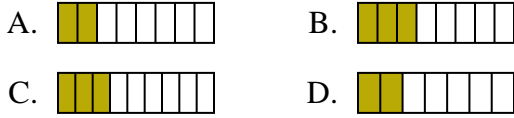
10. **B**



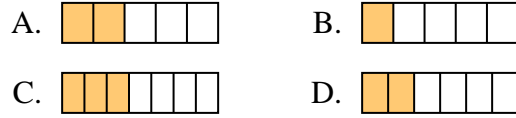
Determina cuál opción mejor responde a cada pregunta.

Respuestas

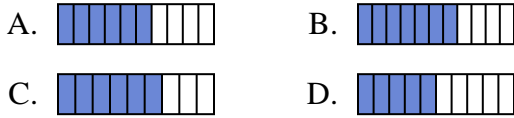
1) ¿Cuál de las figuras de abajo está sombreada para representar $\frac{3}{8}$?



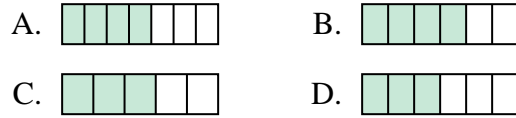
2) ¿Cuál de las figuras de abajo está sombreada para representar $\frac{2}{6}$?



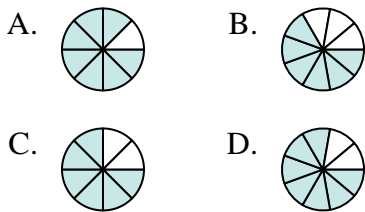
3) ¿Cuál de las figuras de abajo está sombreada para representar $\frac{6}{10}$?



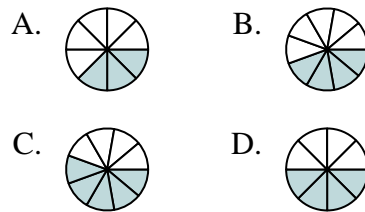
4) ¿Cuál de las figuras de abajo está sombreada para representar $\frac{4}{6}$?



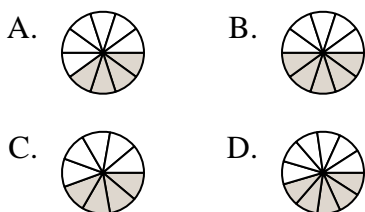
5) ¿Cuál de las figuras de abajo está sombreada para representar $\frac{6}{8}$?



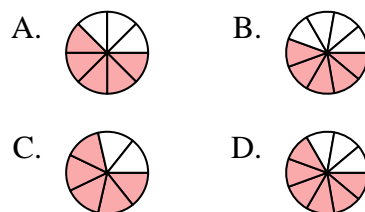
6) ¿Cuál de las figuras de abajo está sombreada para representar $\frac{4}{8}$?



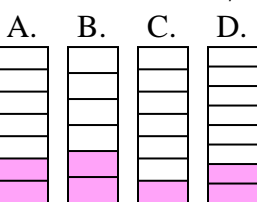
7) ¿Cuál de las figuras de abajo está sombreada para representar $\frac{4}{10}$?



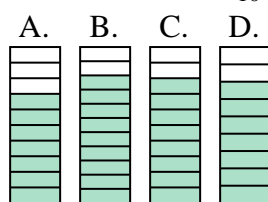
8) ¿Cuál de las figuras de abajo está sombreada para representar $\frac{5}{8}$?



9) ¿Cuál de las figuras de abajo está sombreada para representar $\frac{2}{7}$?



10) ¿Cuál de las figuras de abajo está sombreada para representar $\frac{8}{10}$?



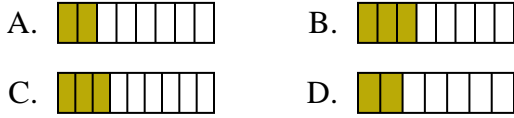
1. _____
2. _____
3. _____
4. _____
5. _____
6. _____
7. _____
8. _____
9. _____
10. _____



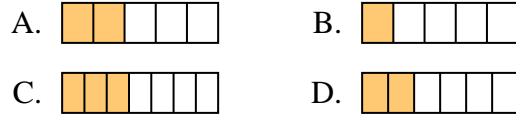
Determina cuál opción mejor responde a cada pregunta.

Respuestas

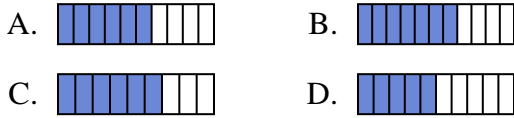
1) ¿Cuál de las figuras de abajo está sombreada para representar $\frac{3}{8}$?



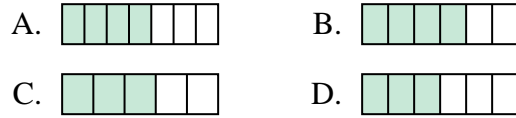
2) ¿Cuál de las figuras de abajo está sombreada para representar $\frac{2}{6}$?



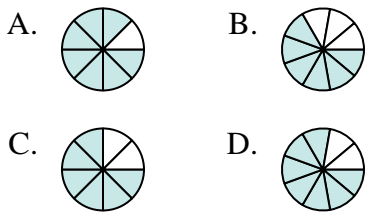
3) ¿Cuál de las figuras de abajo está sombreada para representar $\frac{6}{10}$?



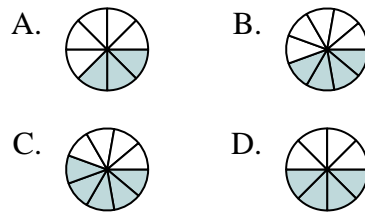
4) ¿Cuál de las figuras de abajo está sombreada para representar $\frac{4}{6}$?



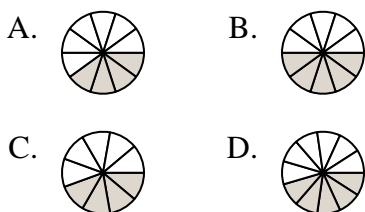
5) ¿Cuál de las figuras de abajo está sombreada para representar $\frac{6}{8}$?



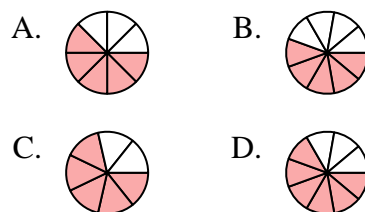
6) ¿Cuál de las figuras de abajo está sombreada para representar $\frac{4}{8}$?



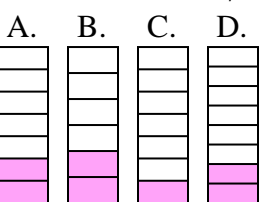
7) ¿Cuál de las figuras de abajo está sombreada para representar $\frac{4}{10}$?



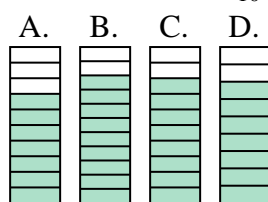
8) ¿Cuál de las figuras de abajo está sombreada para representar $\frac{5}{8}$?



9) ¿Cuál de las figuras de abajo está sombreada para representar $\frac{2}{7}$?



10) ¿Cuál de las figuras de abajo está sombreada para representar $\frac{8}{10}$?



- 1. **B**
- 2. **D**
- 3. **A**
- 4. **B**
- 5. **C**
- 6. **D**
- 7. **A**
- 8. **A**
- 9. **A**
- 10. **C**