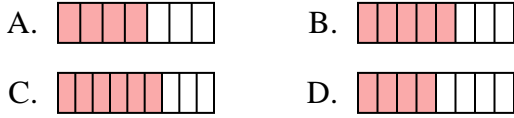




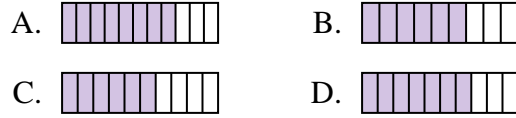
**Determina cuál opción mejor responde a cada pregunta.**

**Respuestas**

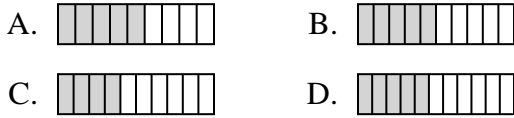
1) ¿Cuál de las figuras de abajo está sombreada para representar  $\frac{5}{8}$ ?



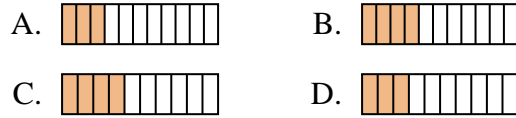
2) ¿Cuál de las figuras de abajo está sombreada para representar  $\frac{7}{10}$ ?



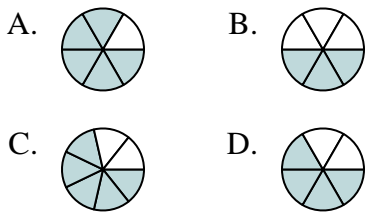
3) ¿Cuál de las figuras de abajo está sombreada para representar  $\frac{5}{10}$ ?



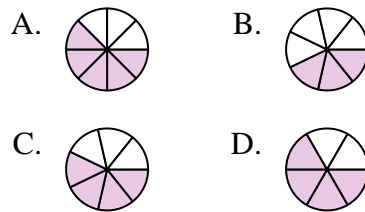
4) ¿Cuál de las figuras de abajo está sombreada para representar  $\frac{3}{10}$ ?



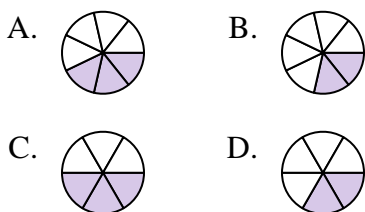
5) ¿Cuál de las figuras de abajo está sombreada para representar  $\frac{4}{6}$ ?



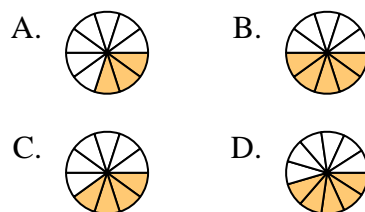
6) ¿Cuál de las figuras de abajo está sombreada para representar  $\frac{4}{7}$ ?



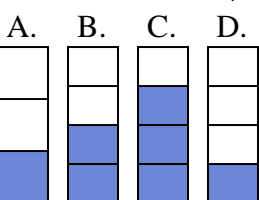
7) ¿Cuál de las figuras de abajo está sombreada para representar  $\frac{2}{6}$ ?



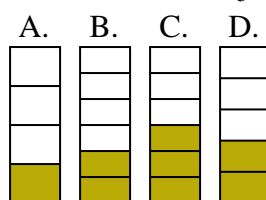
8) ¿Cuál de las figuras de abajo está sombreada para representar  $\frac{4}{10}$ ?



9) ¿Cuál de las figuras de abajo está sombreada para representar  $\frac{2}{4}$ ?



10) ¿Cuál de las figuras de abajo está sombreada para representar  $\frac{2}{5}$ ?



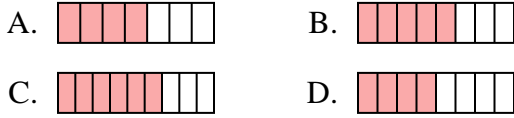
1. \_\_\_\_\_
2. \_\_\_\_\_
3. \_\_\_\_\_
4. \_\_\_\_\_
5. \_\_\_\_\_
6. \_\_\_\_\_
7. \_\_\_\_\_
8. \_\_\_\_\_
9. \_\_\_\_\_
10. \_\_\_\_\_



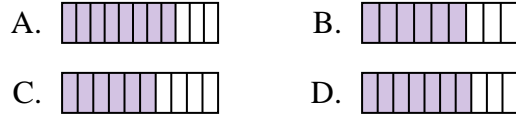
Determina cuál opción mejor responde a cada pregunta.

**Respuestas**

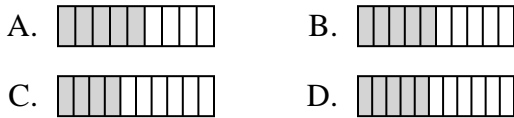
1) ¿Cuál de las figuras de abajo está sombreada para representar  $\frac{5}{8}$ ?



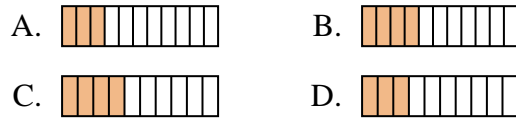
2) ¿Cuál de las figuras de abajo está sombreada para representar  $\frac{7}{10}$ ?



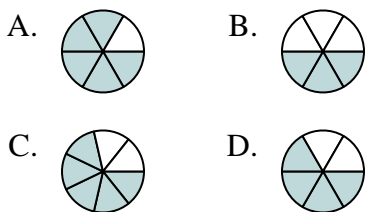
3) ¿Cuál de las figuras de abajo está sombreada para representar  $\frac{5}{10}$ ?



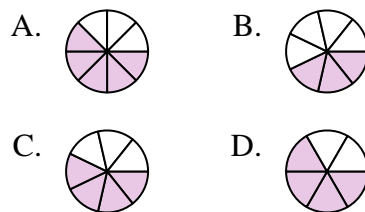
4) ¿Cuál de las figuras de abajo está sombreada para representar  $\frac{3}{10}$ ?



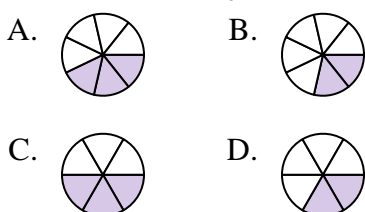
5) ¿Cuál de las figuras de abajo está sombreada para representar  $\frac{4}{6}$ ?



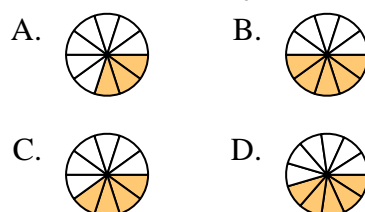
6) ¿Cuál de las figuras de abajo está sombreada para representar  $\frac{4}{7}$ ?



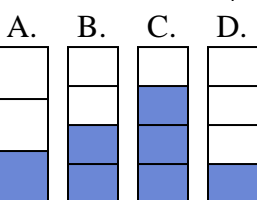
7) ¿Cuál de las figuras de abajo está sombreada para representar  $\frac{2}{6}$ ?



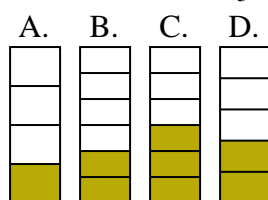
8) ¿Cuál de las figuras de abajo está sombreada para representar  $\frac{4}{10}$ ?



9) ¿Cuál de las figuras de abajo está sombreada para representar  $\frac{2}{4}$ ?



10) ¿Cuál de las figuras de abajo está sombreada para representar  $\frac{2}{5}$ ?



1. **B**

2. **D**

3. **B**

4. **D**

5. **D**

6. **C**

7. **D**

8. **C**

9. **B**

10. **D**