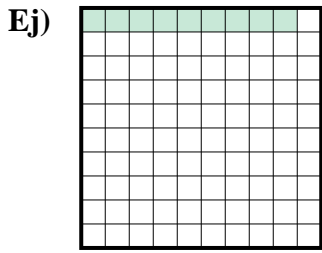
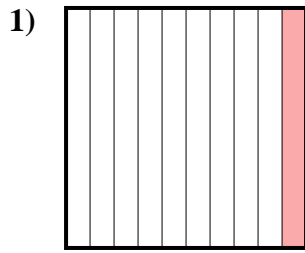




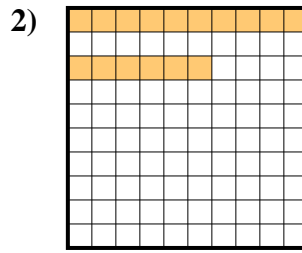
Determina el valor escrito como fracción, decimal y porcentaje.



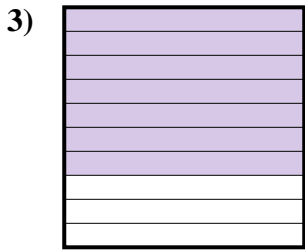
fracción $\frac{9}{100}$
 decimal 0.09
 porcentaje 9



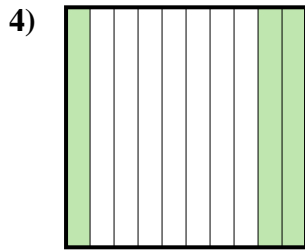
fracción _____
 decimal _____
 porcentaje _____



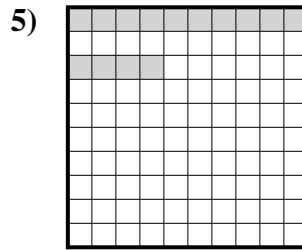
fracción _____
 decimal _____
 porcentaje _____



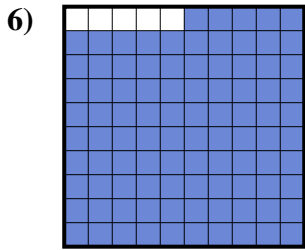
fracción _____
 decimal _____
 porcentaje _____



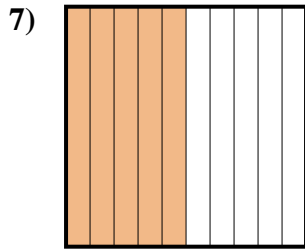
fracción _____
 decimal _____
 porcentaje _____



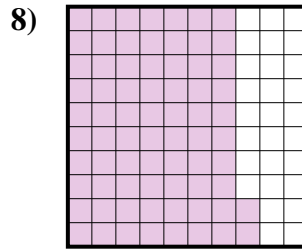
fracción _____
 decimal _____
 porcentaje _____



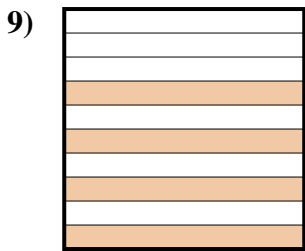
fracción _____
 decimal _____
 porcentaje _____



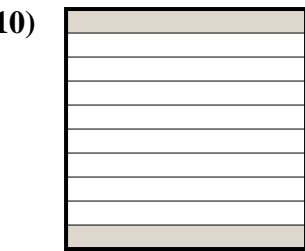
fracción _____
 decimal _____
 porcentaje _____



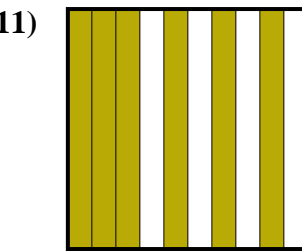
fracción _____
 decimal _____
 porcentaje _____



fracción _____
 decimal _____
 porcentaje _____



fracción _____
 decimal _____
 porcentaje _____



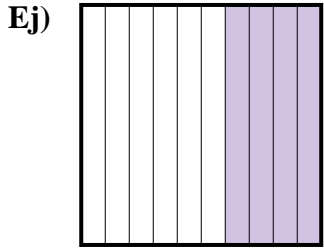
fracción _____
 decimal _____
 porcentaje _____

Respuestas

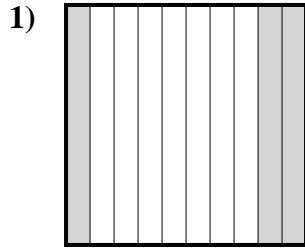
Ej.	$\frac{\quad}{100}$	<u>0.09</u>	<u>9%</u>
1.	_____	_____	_____
2.	_____	_____	_____
3.	_____	_____	_____
4.	_____	_____	_____
5.	_____	_____	_____
6.	_____	_____	_____
7.	_____	_____	_____
8.	_____	_____	_____
9.	_____	_____	_____
10.	_____	_____	_____
11.	_____	_____	_____



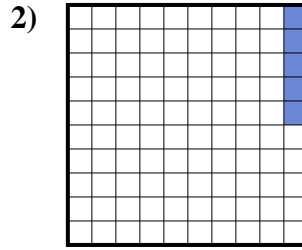
Determina el valor escrito como fracción, decimal y porcentaje.



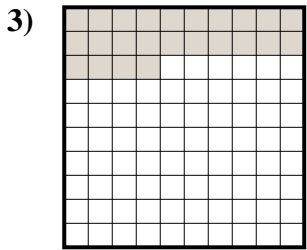
fracción $\frac{4}{10}$
 decimal 0.4
 porcentaje 40



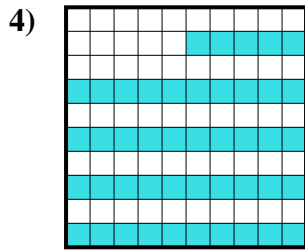
fracción _____
 decimal _____
 porcentaje _____



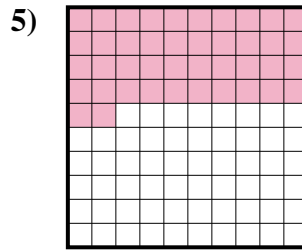
fracción _____
 decimal _____
 porcentaje _____



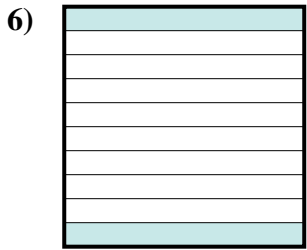
fracción _____
 decimal _____
 porcentaje _____



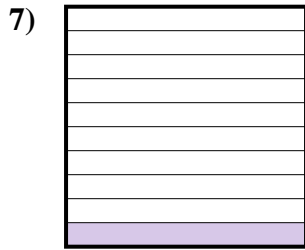
fracción _____
 decimal _____
 porcentaje _____



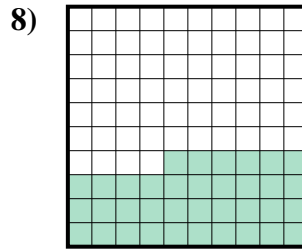
fracción _____
 decimal _____
 porcentaje _____



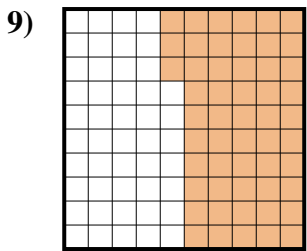
fracción _____
 decimal _____
 porcentaje _____



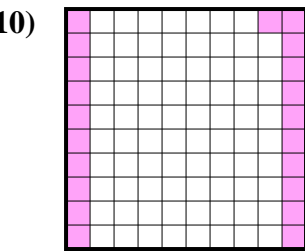
fracción _____
 decimal _____
 porcentaje _____



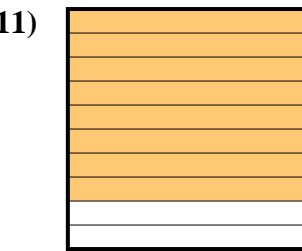
fracción _____
 decimal _____
 porcentaje _____



fracción _____
 decimal _____
 porcentaje _____



fracción _____
 decimal _____
 porcentaje _____



fracción _____
 decimal _____
 porcentaje _____

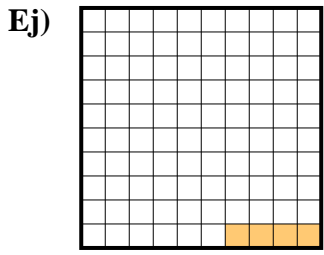
Respuestas

Ej. $\frac{4}{10}$ 0.4 40%

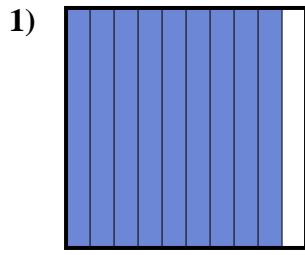
- 1. _____
- 2. _____
- 3. _____
- 4. _____
- 5. _____
- 6. _____
- 7. _____
- 8. _____
- 9. _____
- 10. _____
- 11. _____



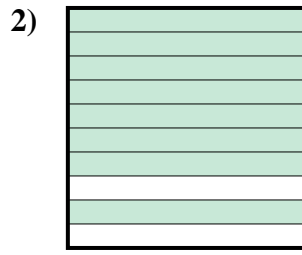
Determina el valor escrito como fracción, decimal y porcentaje.



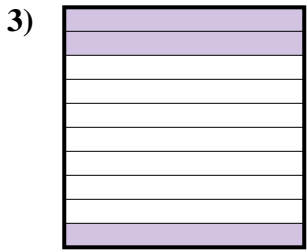
fracción $\frac{4}{100}$
 decimal 0.04
 porcentaje 4



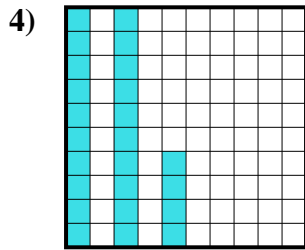
fracción _____
 decimal _____
 porcentaje _____



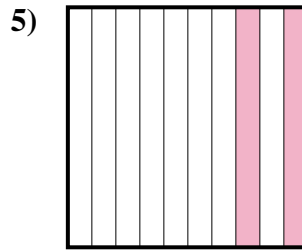
fracción _____
 decimal _____
 porcentaje _____



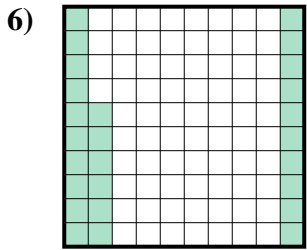
fracción _____
 decimal _____
 porcentaje _____



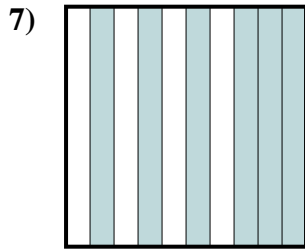
fracción _____
 decimal _____
 porcentaje _____



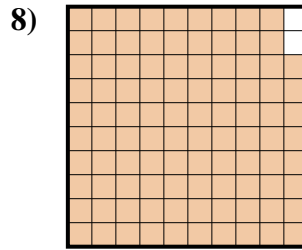
fracción _____
 decimal _____
 porcentaje _____



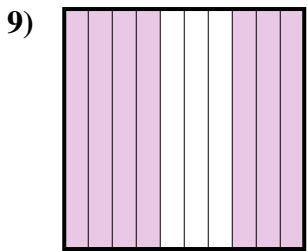
fracción _____
 decimal _____
 porcentaje _____



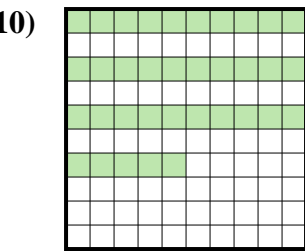
fracción _____
 decimal _____
 porcentaje _____



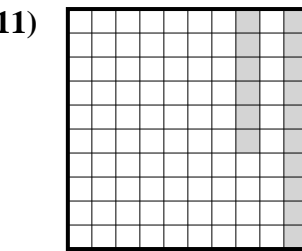
fracción _____
 decimal _____
 porcentaje _____



fracción _____
 decimal _____
 porcentaje _____



fracción _____
 decimal _____
 porcentaje _____



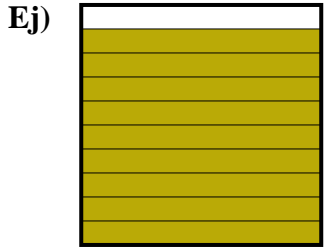
fracción _____
 decimal _____
 porcentaje _____

Respuestas


Ej.	$\frac{4}{100}$	0.04	4%
1.	_____	_____	_____
2.	_____	_____	_____
3.	_____	_____	_____
4.	_____	_____	_____
5.	_____	_____	_____
6.	_____	_____	_____
7.	_____	_____	_____
8.	_____	_____	_____
9.	_____	_____	_____
10.	_____	_____	_____
11.	_____	_____	_____



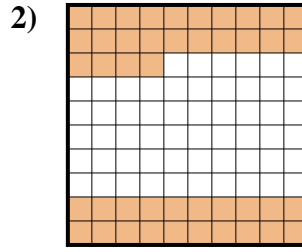
Determina el valor escrito como fracción, decimal y porcentaje.



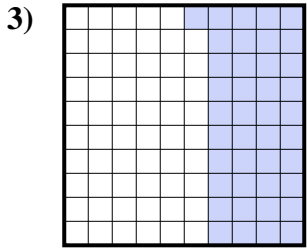
fracción $\frac{9}{10}$
 decimal 0.9
 porcentaje 90




fracción _____
 decimal _____
 porcentaje _____



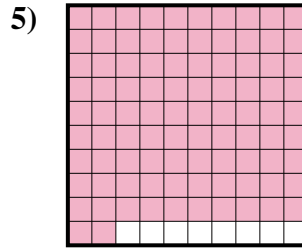
fracción _____
 decimal _____
 porcentaje _____



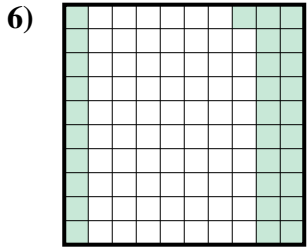
fracción _____
 decimal _____
 porcentaje _____



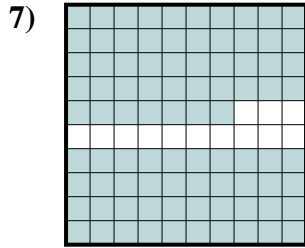
fracción _____
 decimal _____
 porcentaje _____



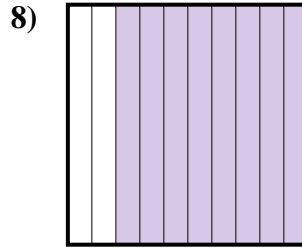
fracción _____
 decimal _____
 porcentaje _____



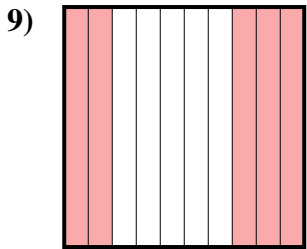
fracción _____
 decimal _____
 porcentaje _____



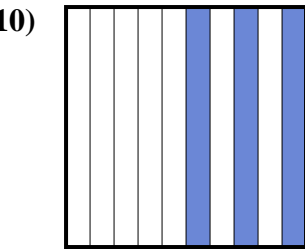
fracción _____
 decimal _____
 porcentaje _____



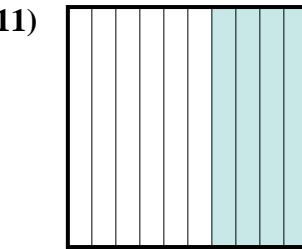
fracción _____
 decimal _____
 porcentaje _____



fracción _____
 decimal _____
 porcentaje _____



fracción _____
 decimal _____
 porcentaje _____



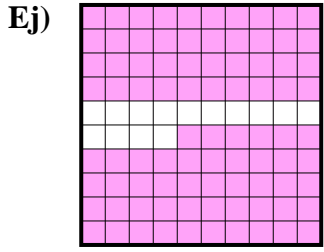
fracción _____
 decimal _____
 porcentaje _____

Respuestas

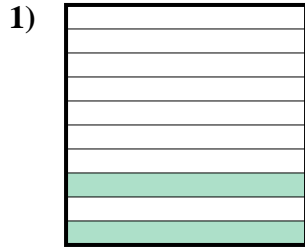
Ej.	$\frac{9}{10}$	0.9	90%
1.	_____	_____	_____
2.	_____	_____	_____
3.	_____	_____	_____
4.	_____	_____	_____
5.	_____	_____	_____
6.	_____	_____	_____
7.	_____	_____	_____
8.	_____	_____	_____
9.	_____	_____	_____
10.	_____	_____	_____
11.	_____	_____	_____



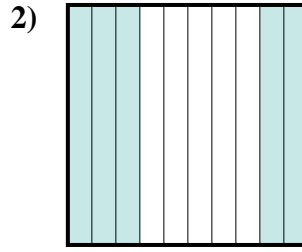
Determina el valor escrito como fracción, decimal y porcentaje.



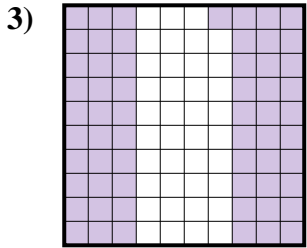
fracción $\frac{86}{100}$
 decimal 0.86
 porcentaje 86



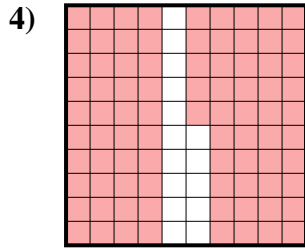
fracción _____
 decimal _____
 porcentaje _____



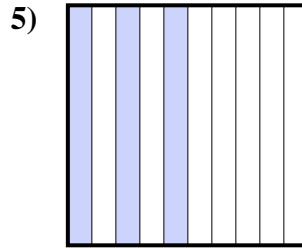
fracción _____
 decimal _____
 porcentaje _____



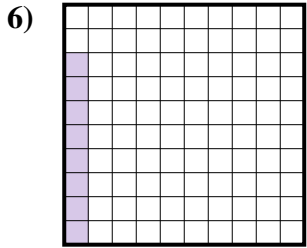
fracción _____
 decimal _____
 porcentaje _____



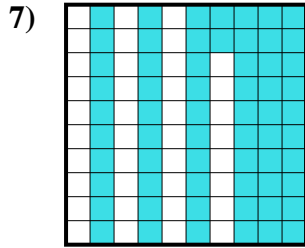
fracción _____
 decimal _____
 porcentaje _____



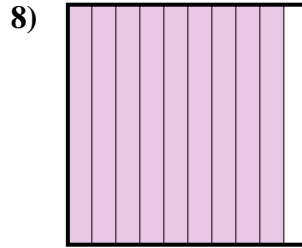
fracción _____
 decimal _____
 porcentaje _____



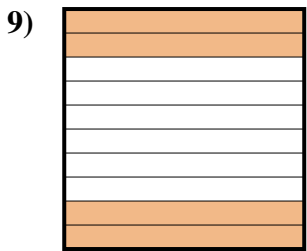
fracción _____
 decimal _____
 porcentaje _____



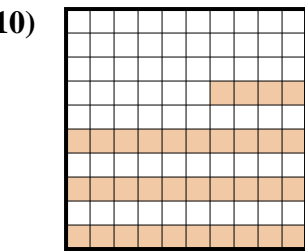
fracción _____
 decimal _____
 porcentaje _____



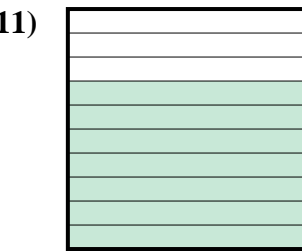
fracción _____
 decimal _____
 porcentaje _____



fracción _____
 decimal _____
 porcentaje _____



fracción _____
 decimal _____
 porcentaje _____



fracción _____
 decimal _____
 porcentaje _____

Respuestas

Ej.	$\frac{86}{100}$	0.86	86%
1.	_____	_____	_____
2.	_____	_____	_____
3.	_____	_____	_____
4.	_____	_____	_____
5.	_____	_____	_____
6.	_____	_____	_____
7.	_____	_____	_____
8.	_____	_____	_____
9.	_____	_____	_____
10.	_____	_____	_____
11.	_____	_____	_____

