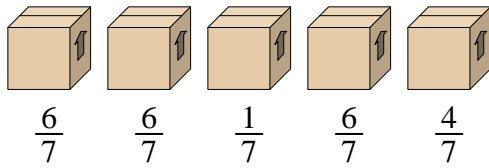




Resuelve cada problema.

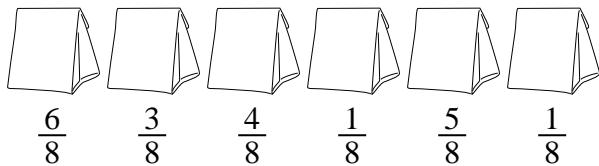
Respuestas

1) Mira el peso de las cajas a continuación.



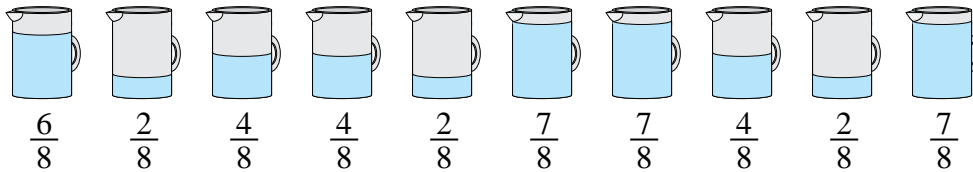
Si tuviera que redistribuir el material en las cajas para que cada caja tuviera el mismo peso, ¿cuánto pesaría cada una?

2) Las bolsas de dulces a continuación son una fracción de libra.



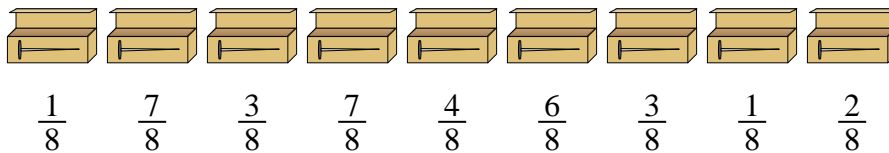
Si tuviera que redistribuir los dulces para que cada bolsa tuviera la misma cantidad, ¿cuánto habría en cada una?

3) Las jarras a continuación contienen diferentes cantidades de agua.



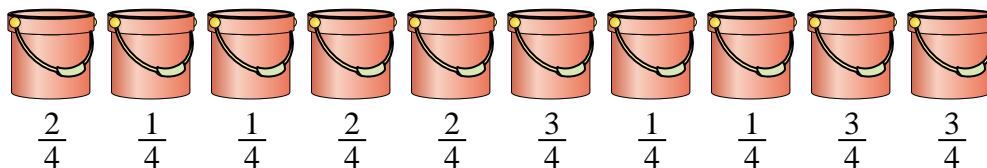
Si tuviera que redistribuir el agua para que cada jarra tuviera la misma cantidad, ¿cuánto habría en cada una?

4) Un constructor tenía varias cajas de clavos que estaban parcialmente llenas.



Si reorganizara los clavos para que cada caja tuviera la misma cantidad, ¿qué tan llena estaría cada caja?

5) Los cubos de abajo están llenos parcialmente de arena.



Si quisiera que cada balde tuviera la misma cantidad, ¿con cuánto se llenaría cada balde?

1. _____

2. _____

3. _____

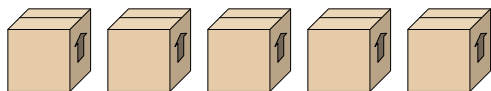
4. _____

5. _____



Resuelve cada problema.

1) Mira el peso de las cajas a continuación.



$$\frac{6}{7} \quad \frac{6}{7} \quad \frac{1}{7} \quad \frac{6}{7} \quad \frac{4}{7}$$

Si tuviera que redistribuir el material en las cajas para que cada caja tuviera el mismo peso, ¿cuánto pesaría cada una?

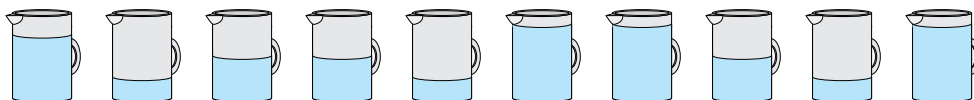
2) Las bolsas de dulces a continuación son una fracción de libra.



$$\frac{6}{8} \quad \frac{3}{8} \quad \frac{4}{8} \quad \frac{1}{8} \quad \frac{5}{8} \quad \frac{1}{8}$$

Si tuviera que redistribuir los dulces para que cada bolsa tuviera la misma cantidad, ¿cuánto habría en cada una?

3) Las jarras a continuación contienen diferentes cantidades de agua.



$$\frac{6}{8} \quad \frac{2}{8} \quad \frac{4}{8} \quad \frac{4}{8} \quad \frac{2}{8} \quad \frac{7}{8} \quad \frac{7}{8} \quad \frac{4}{8} \quad \frac{2}{8} \quad \frac{7}{8}$$

Si tuviera que redistribuir el agua para que cada jarra tuviera la misma cantidad, ¿cuánto habría en cada una?

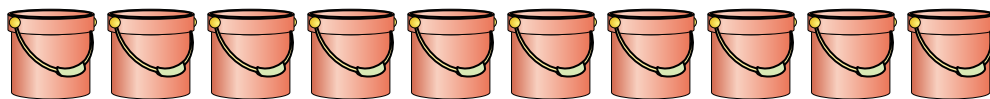
4) Un constructor tenía varias cajas de clavos que estaban parcialmente llenas.



$$\frac{1}{8} \quad \frac{7}{8} \quad \frac{3}{8} \quad \frac{7}{8} \quad \frac{4}{8} \quad \frac{6}{8} \quad \frac{3}{8} \quad \frac{1}{8} \quad \frac{2}{8}$$

Si reorganizara los clavos para que cada caja tuviera la misma cantidad, ¿qué tan llena estaría cada caja?

5) Los cubos de abajo están llenos parcialmente de arena.



$$\frac{2}{4} \quad \frac{1}{4} \quad \frac{1}{4} \quad \frac{2}{4} \quad \frac{2}{4} \quad \frac{3}{4} \quad \frac{1}{4} \quad \frac{1}{4} \quad \frac{3}{4} \quad \frac{3}{4}$$

Si quisiera que cada balde tuviera la misma cantidad, ¿con cuánto se llenaría cada balde?

Respuestas

1. $\frac{23}{35}$

2. $\frac{20}{48} = \frac{5}{12}$

3. $\frac{45}{80} = \frac{9}{16}$

4. $\frac{34}{72} = \frac{17}{36}$

5. $\frac{19}{40}$