



Resuelve cada problema marcando las fracciones. El primer ejercicio ha sido resuelto como ejemplo.

Ej) $2 \div \frac{1}{6} = ?$ Esto es lo mismo que decir: ¿Cuántas $\frac{1}{6}$ hay en 2 enteros?

| | | | | | | | | | | | |
|----------|--|--|--|--|--|----------|--|--|--|--|--|
| 1 Entero | | | | | | 1 Entero | | | | | |
| | | | | | | | | | | | |

1) $5 \div \frac{1}{3} =$

| | | | | |
|----------|----------|----------|----------|----------|
| 1 Entero | 1 Entero | 1 Entero | 1 Entero | 1 Entero |
| | | | | |

2) $5 \div \frac{1}{5} =$

| | | | | |
|----------|----------|----------|----------|----------|
| 1 Entero | 1 Entero | 1 Entero | 1 Entero | 1 Entero |
| | | | | |

3) $3 \div \frac{1}{5} =$

| | | |
|----------|----------|----------|
| 1 Entero | 1 Entero | 1 Entero |
| | | |

4) $4 \div \frac{1}{7} =$

| | | | |
|----------|----------|----------|----------|
| 1 Entero | 1 Entero | 1 Entero | 1 Entero |
| | | | |

5) $2 \div \frac{1}{7} =$

| | |
|----------|----------|
| 1 Entero | 1 Entero |
| | |

6) $5 \div \frac{1}{4} =$

| | | | | |
|----------|----------|----------|----------|----------|
| 1 Entero | 1 Entero | 1 Entero | 1 Entero | 1 Entero |
| | | | | |

7) $4 \div \frac{1}{3} =$

| | | | |
|----------|----------|----------|----------|
| 1 Entero | 1 Entero | 1 Entero | 1 Entero |
| | | | |

8) $4 \div \frac{1}{4} =$

| | | | |
|----------|----------|----------|----------|
| 1 Entero | 1 Entero | 1 Entero | 1 Entero |
| | | | |

9) $3 \div \frac{1}{3} =$

| | | |
|----------|----------|----------|
| 1 Entero | 1 Entero | 1 Entero |
| | | |

Respuestas

Ej. **12**

1. _____

2. _____

3. _____

4. _____

5. _____

6. _____

7. _____


8. _____

9. _____

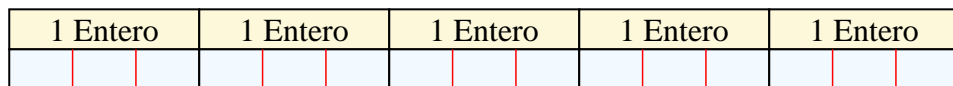


Resuelve cada problema marcando las fracciones. El primer ejercicio ha sido resuelto como ejemplo.

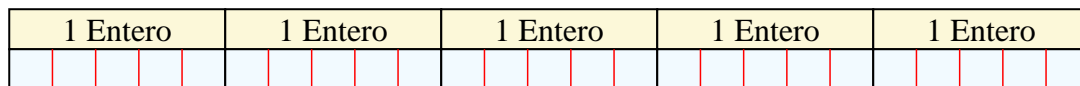
Ej) $2 \div \frac{1}{6} = ?$ Esto es lo mismo que decir: ¿Cuántas $\frac{1}{6}$ hay en 2 enteros?



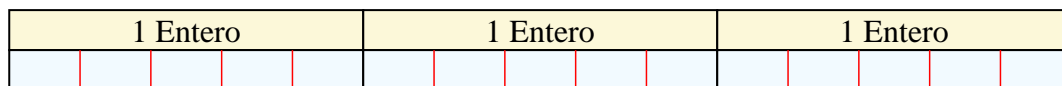
1) $5 \div \frac{1}{3} =$ Esto es lo mismo que decir: ¿Cuántas $\frac{1}{3}$ hay en 5 enteros?



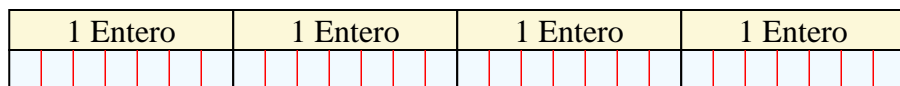
2) $5 \div \frac{1}{5} =$ Esto es lo mismo que decir: ¿Cuántas $\frac{1}{5}$ hay en 5 enteros?




3) $3 \div \frac{1}{5} =$ Esto es lo mismo que decir: ¿Cuántas $\frac{1}{5}$ hay en 3 enteros?



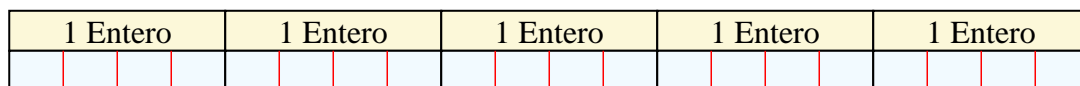
4) $4 \div \frac{1}{7} =$ Esto es lo mismo que decir: ¿Cuántas $\frac{1}{7}$ hay en 4 enteros?




5) $2 \div \frac{1}{7} =$ Esto es lo mismo que decir: ¿Cuántas $\frac{1}{7}$ hay en 2 enteros?




6) $5 \div \frac{1}{4} =$ Esto es lo mismo que decir: ¿Cuántas $\frac{1}{4}$ hay en 5 enteros?



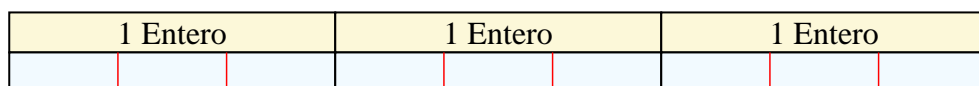
7) $4 \div \frac{1}{3} =$ Esto es lo mismo que decir: ¿Cuántas $\frac{1}{3}$ hay en 4 enteros?



8) $4 \div \frac{1}{4} =$ Esto es lo mismo que decir: ¿Cuántas $\frac{1}{4}$ hay en 4 enteros?



9) $3 \div \frac{1}{3} =$ Esto es lo mismo que decir: ¿Cuántas $\frac{1}{3}$ hay en 3 enteros?



Respuestas

Ej. 12

1. 15

2. 25

3. 15

4. 28

5. 14

6. 20

7. 12

8. 16

9. 9