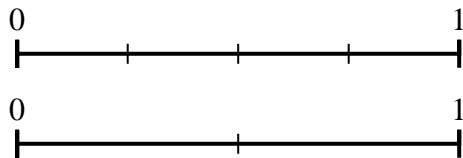




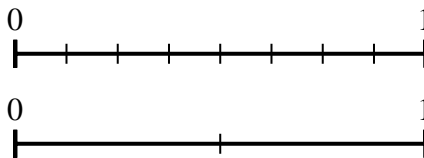
Usa la recta numérica para resolver las preguntas.

Respuestas

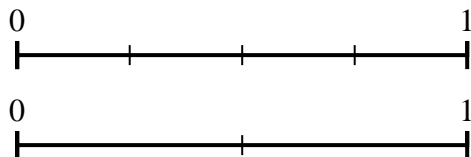
1) Utilizando las rectas numéricas que se muestran, ¿cuál es la fracción equivalente a {VAR}



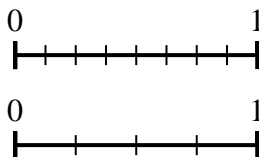
2) Utilizando las rectas numéricas que se muestran, ¿cuál es la fracción equivalente a {VAR}



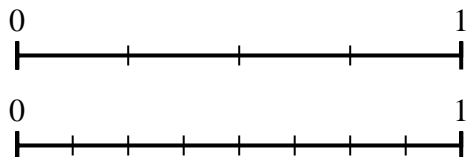
3) Utilizando las rectas numéricas que se muestran, ¿cuál es la fracción equivalente a {VAR}



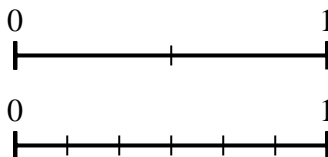
4) Utilizando las rectas numéricas que se muestran, ¿cuál es la fracción equivalente a {VAR}



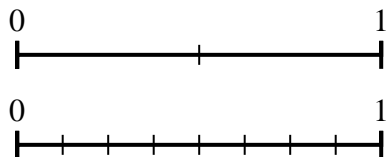
5) Utilizando las rectas numéricas que se muestran, ¿cuál es la fracción equivalente a {VAR}



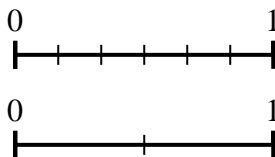
6) Utilizando las rectas numéricas que se muestran, ¿cuál es la fracción equivalente a {VAR}



7) Utilizando las rectas numéricas que se muestran, ¿cuál es la fracción equivalente a {VAR}



8) Utilizando las rectas numéricas que se muestran, ¿cuál es la fracción equivalente a {VAR}

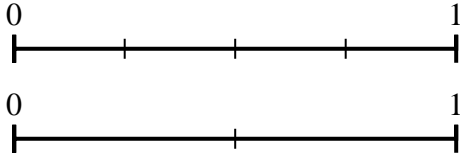


- 1. _____
- 2. _____
- 3. _____
- 4. _____
- 5. _____
- 6. _____
- 7. _____
- 8. _____

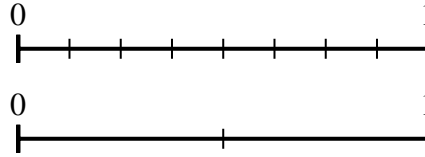


Usa la recta numérica para resolver las preguntas.

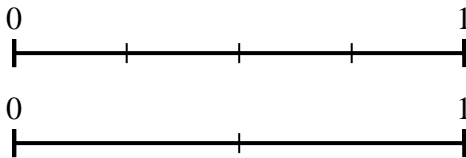
- 1) Utilizando las rectas numéricas que se muestran, ¿cuál es la fracción equivalente a {VAR}



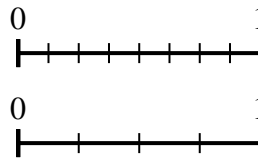
- 2) Utilizando las rectas numéricas que se muestran, ¿cuál es la fracción equivalente a {VAR}



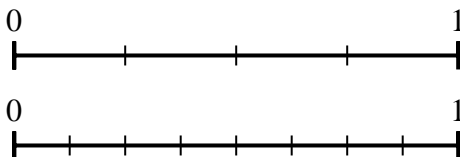
- 3) Utilizando las rectas numéricas que se muestran, ¿cuál es la fracción equivalente a {VAR}



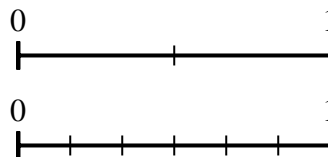
- 4) Utilizando las rectas numéricas que se muestran, ¿cuál es la fracción equivalente a {VAR}



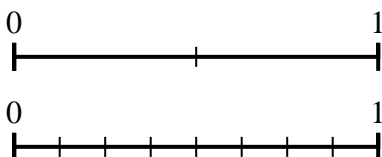
- 5) Utilizando las rectas numéricas que se muestran, ¿cuál es la fracción equivalente a {VAR}



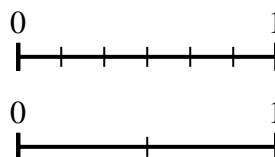
- 6) Utilizando las rectas numéricas que se muestran, ¿cuál es la fracción equivalente a {VAR}



- 7) Utilizando las rectas numéricas que se muestran, ¿cuál es la fracción equivalente a {VAR}



- 8) Utilizando las rectas numéricas que se muestran, ¿cuál es la fracción equivalente a {VAR}



Respuestas

1. $\frac{1}{2}$
2. $\frac{2}{2}$
3. $\frac{2}{2}$
4. $\frac{3}{4}$
5. $\frac{4}{8}$
6. $\frac{6}{6}$
7. $\frac{4}{8}$
8. $\frac{0}{2}$