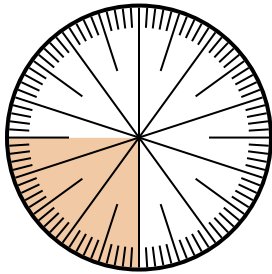


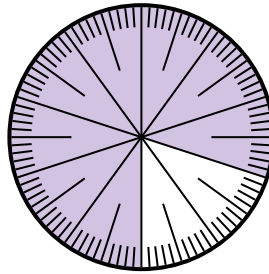


Resuelve cada problema.

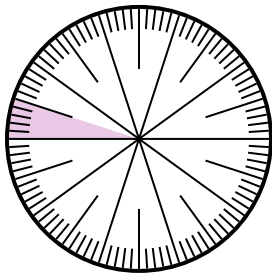
- 1) Expresa la porción de {PALABRA} como una fracción del todo con un 100 como denominador.



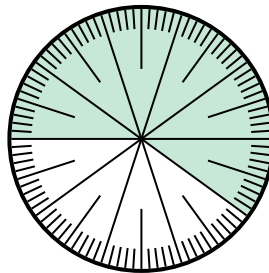
- 2) Expresa la porción de {PALABRA} como un decimal del entero.



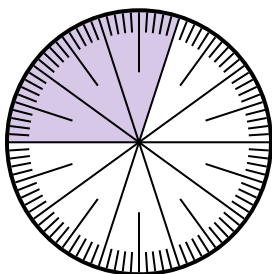
- 3) Expresa la porción de {PALABRA} como una fracción del todo con un 100 como denominador.



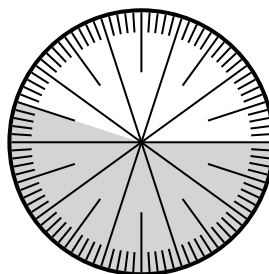
- 4) Expresa la porción de {PALABRA} como una fracción del todo con un 100 como denominador.



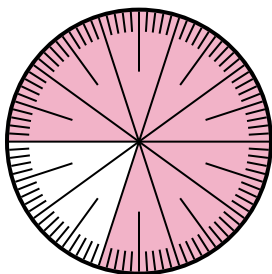
- 5) Expresa la porción de {PALABRA} como una fracción del todo con un 100 como denominador.



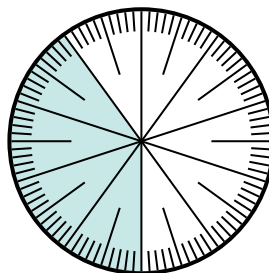
- 6) Expresa la porción de {PALABRA} como una fracción del todo con un 100 como denominador.



- 7) Expresa la porción de {PALABRA} como una fracción del todo con un 100 como denominador.



- 8) Expresa la porción de {PALABRA} como un decimal del entero.



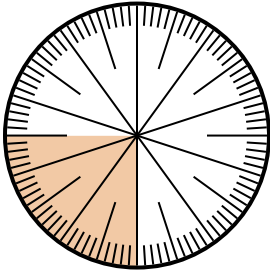
Respuestas

1. _____
2. _____
3. _____
4. _____
5. _____
6. _____
7. _____
8. _____

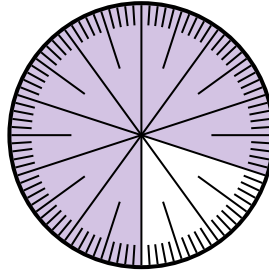


Resuelve cada problema.

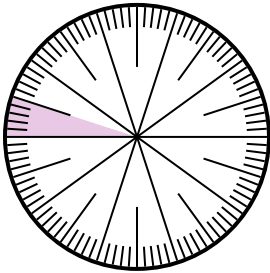
- 1) Expresa la porción de {PALABRA} como una fracción del todo con un 100 como denominador.



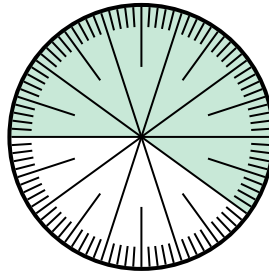
- 2) Expresa la porción de {PALABRA} como un decimal del entero.



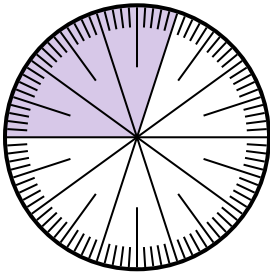
- 3) Expresa la porción de {PALABRA} como una fracción del todo con un 100 como denominador.



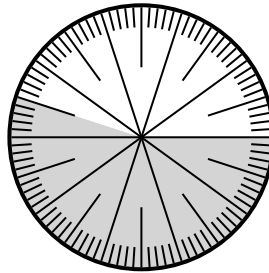
- 4) Expresa la porción de {PALABRA} como una fracción del todo con un 100 como denominador.



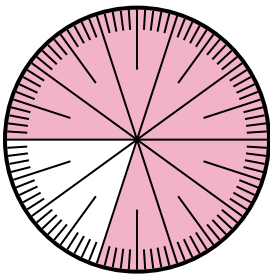
- 5) Expresa la porción de {PALABRA} como una fracción del todo con un 100 como denominador.



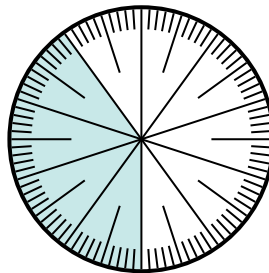
- 6) Expresa la porción de {PALABRA} como una fracción del todo con un 100 como denominador.



- 7) Expresa la porción de {PALABRA} como una fracción del todo con un 100 como denominador.



- 8) Expresa la porción de {PALABRA} como un decimal del entero.



Respuestas

1. $\frac{25}{100}$

2. **0.2**

3. $\frac{5}{100}$

4. $\frac{45}{100}$

5. $\frac{30}{100}$

6. $\frac{60}{100}$

7. $\frac{75}{100}$

8. **0.6**