




Resuelve cada problema.


Ej) Expresar moons como una fracción de todo el conjunto.




1) Expresar moons como una fracción de todo el conjunto.



2) Expresar hearts como una fracción de todo el conjunto.




3) Expresar triangulos como una fracción de todo el conjunto.



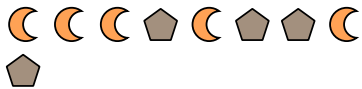
4) Expresar estrellas como una fracción de todo el conjunto.



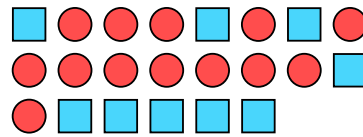
5) Expresar estrellas como una fracción de todo el conjunto.



6) Expresar pentagonos como una fracción de todo el conjunto.




7) Expresar círculos como una fracción de todo el conjunto.



8) Expresar estrellas como una fracción de todo el conjunto.



9) Expresar triangulos como una fracción de todo el conjunto.



10) Expresar estrellas como una fracción de todo el conjunto.



11) Expresar estrellas como una fracción de todo el conjunto.



Respuestas

Ej. $\frac{5}{15}$

- 1. _____
- 2. _____
- 3. _____
- 4. _____
- 5. _____
- 6. _____
- 7. _____
- 8. _____
- 9. _____
- 10. _____
- 11. _____

