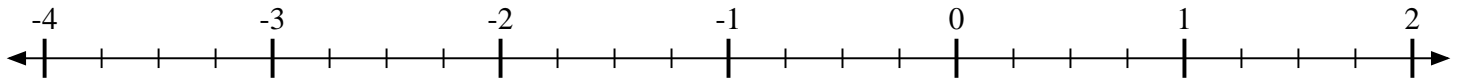


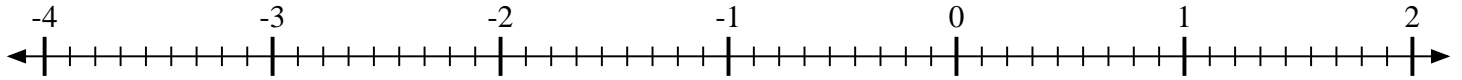


Marca cada ubicación descrita.

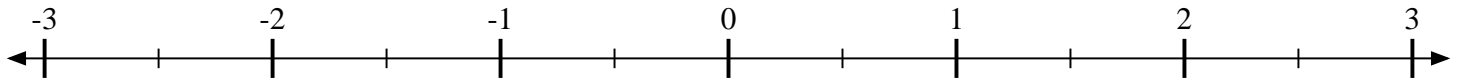
1) Marque la ubicación de $-1\frac{2}{4}$



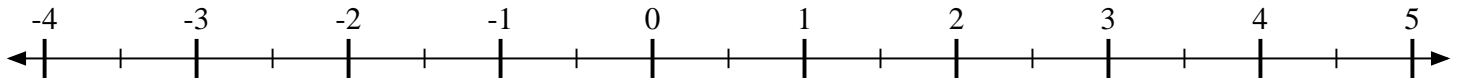
2) Marque la ubicación de $\frac{2}{9}$



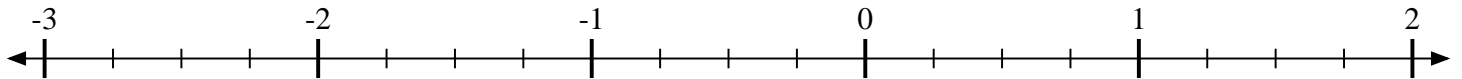
3) Marque la ubicación de $\frac{1}{2}$



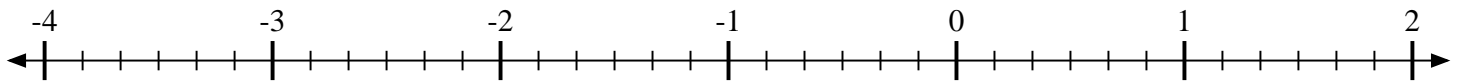
4) Marque la ubicación de $3\frac{1}{2}$



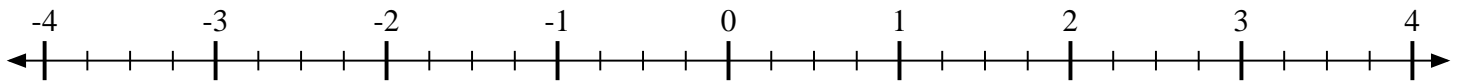
5) Marque la ubicación de $-1\frac{2}{4}$



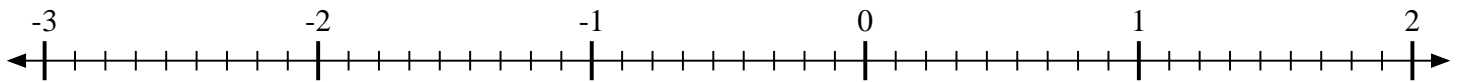
6) Marque la ubicación de $-3\frac{2}{6}$



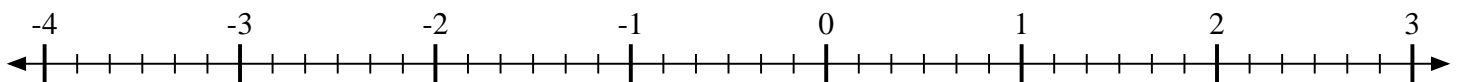
7) Marque la ubicación de $-2\frac{2}{4}$



8) Marque la ubicación de $\frac{8}{9}$



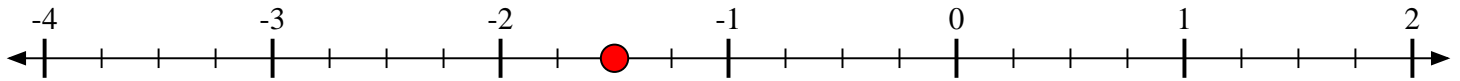
9) Marque la ubicación de $-2\frac{3}{6}$



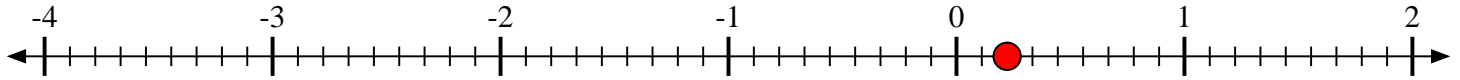


Marca cada ubicación descrita.

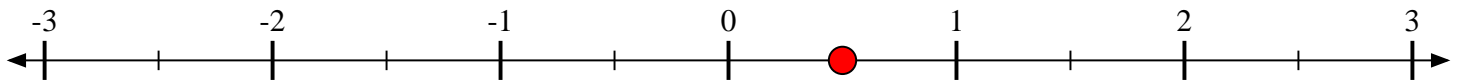
1) Marque la ubicación de $-1\frac{2}{4}$



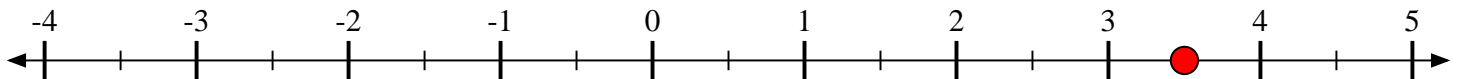
2) Marque la ubicación de $\frac{2}{9}$



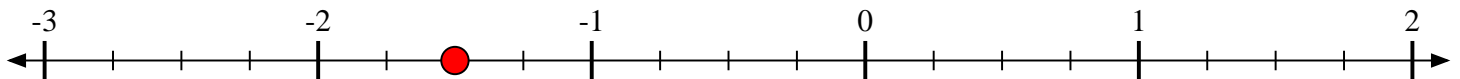
3) Marque la ubicación de $\frac{1}{2}$



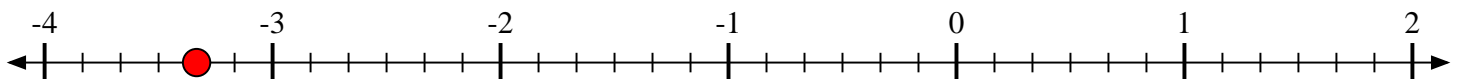
4) Marque la ubicación de $3\frac{1}{2}$



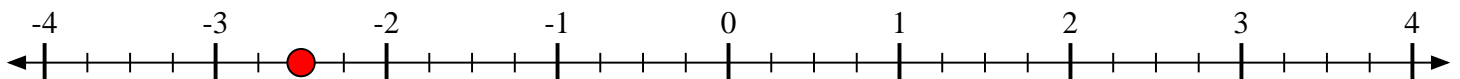
5) Marque la ubicación de $-1\frac{2}{4}$



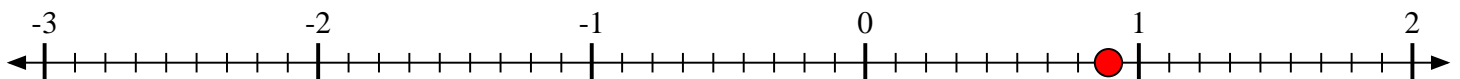
6) Marque la ubicación de $-3\frac{2}{6}$



7) Marque la ubicación de $-2\frac{2}{4}$



8) Marque la ubicación de $\frac{8}{9}$



9) Marque la ubicación de $-2\frac{3}{6}$

