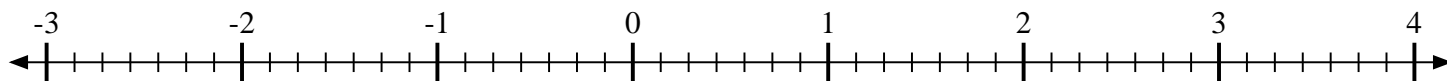


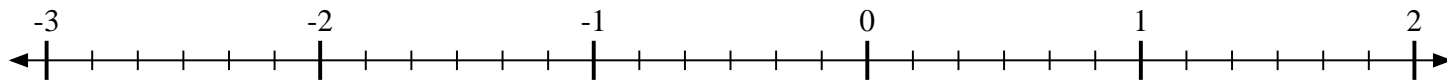


Marca cada ubicación descrita.

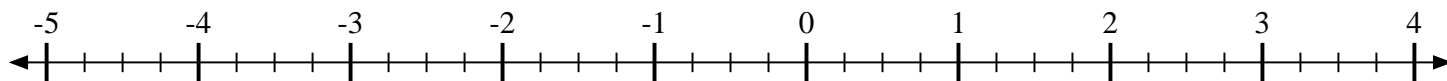
1) Marque la ubicación de $\frac{5}{7}$



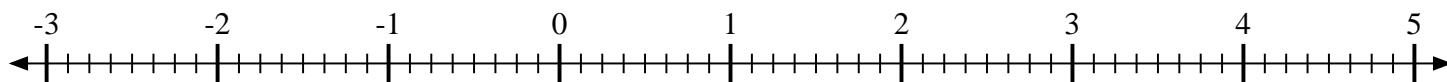
2) Marque la ubicación de $\frac{5}{6}$



3) Marque la ubicación de $-1\frac{2}{4}$



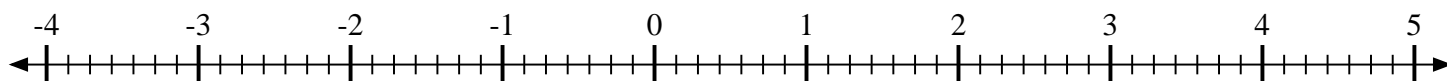
4) Marque la ubicación de $-1\frac{1}{8}$



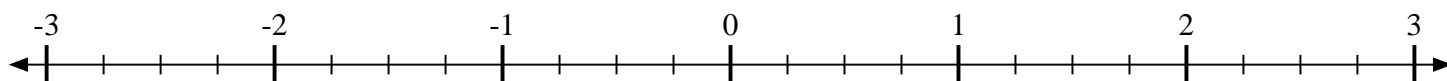
5) Marque la ubicación de $1\frac{1}{4}$



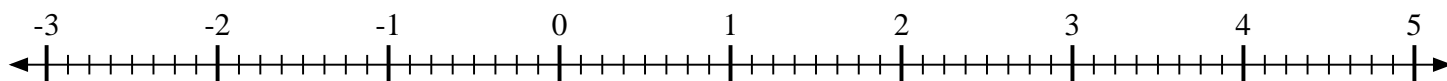
6) Marque la ubicación de $-2\frac{2}{7}$



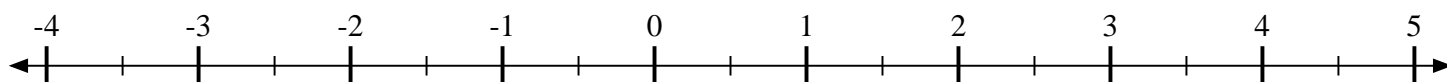
7) Marque la ubicación de $1\frac{1}{4}$



8) Marque la ubicación de $2\frac{3}{8}$



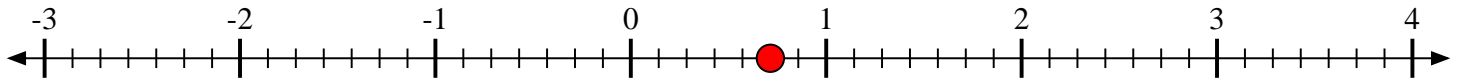
9) Marque la ubicación de $\frac{1}{2}$



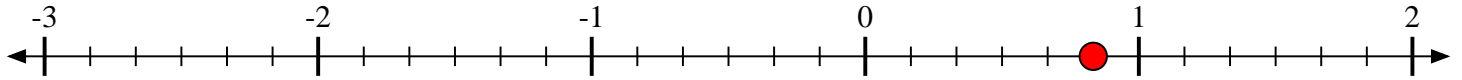


Marca cada ubicación descrita.

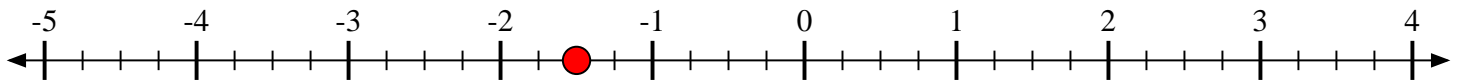
1) Marque la ubicación de $\frac{5}{7}$



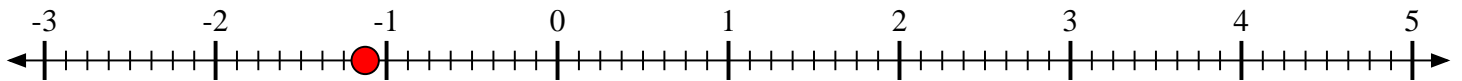
2) Marque la ubicación de $\frac{5}{6}$



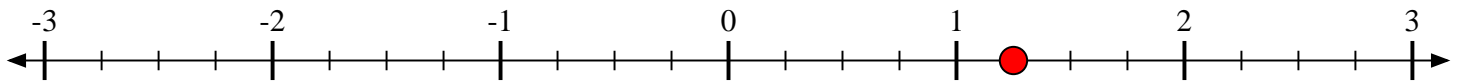
3) Marque la ubicación de $-1\frac{2}{4}$



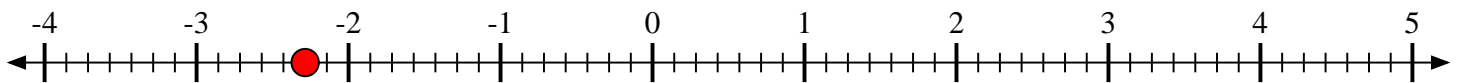
4) Marque la ubicación de $-1\frac{1}{8}$



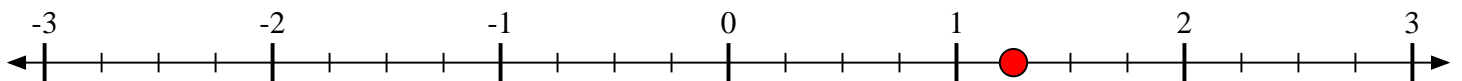
5) Marque la ubicación de $1\frac{1}{4}$



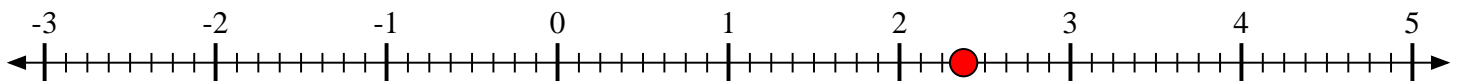
6) Marque la ubicación de $-2\frac{2}{7}$



7) Marque la ubicación de $1\frac{1}{4}$



8) Marque la ubicación de $2\frac{3}{8}$



9) Marque la ubicación de $\frac{1}{2}$

