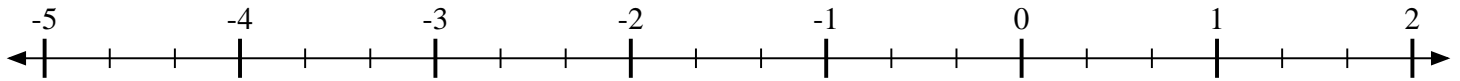


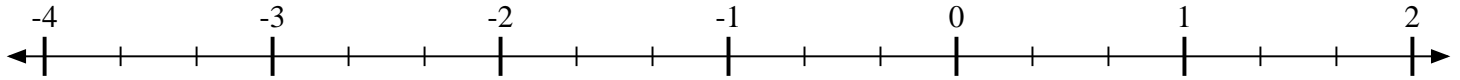


Marca cada ubicación descrita.

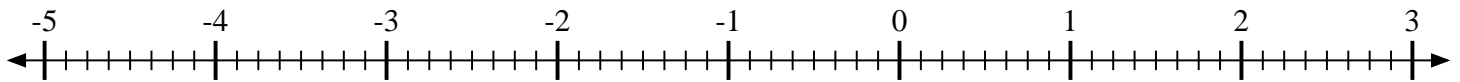
1) Marque la ubicación de $-3\frac{1}{3}$



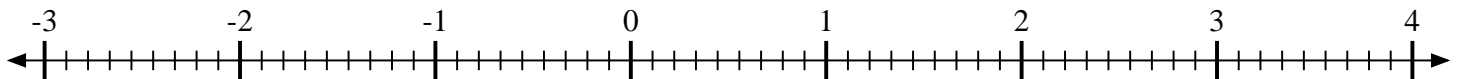
2) Marque la ubicación de $-2\frac{2}{3}$



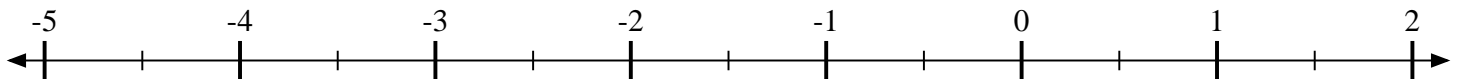
3) Marque la ubicación de $-2\frac{6}{8}$



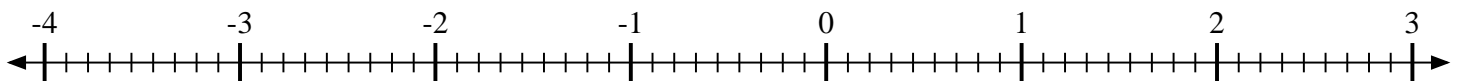
4) Marque la ubicación de $1\frac{1}{9}$



5) Marque la ubicación de $1\frac{1}{2}$



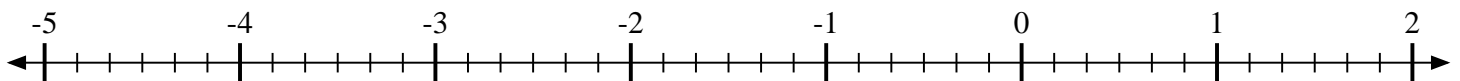
6) Marque la ubicación de $2\frac{5}{9}$



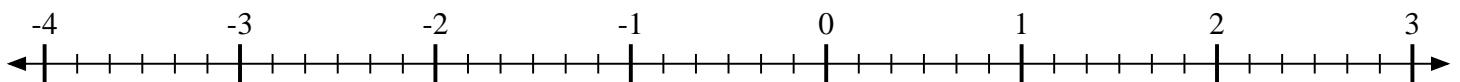
7) Marque la ubicación de $-1\frac{3}{6}$



8) Marque la ubicación de $-1\frac{4}{6}$



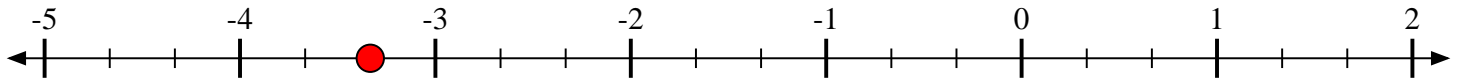
9) Marque la ubicación de $-1\frac{2}{6}$



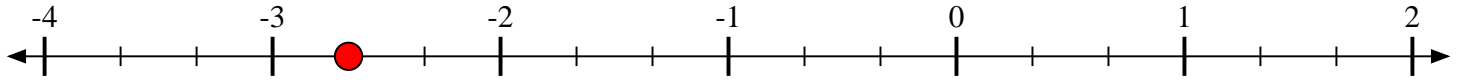


Marca cada ubicación descrita.

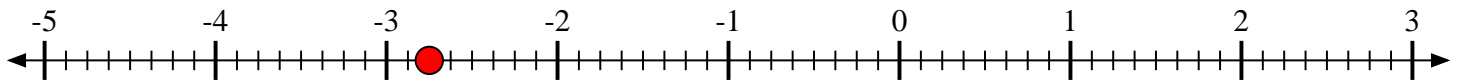
1) Marque la ubicación de $-3\frac{1}{3}$



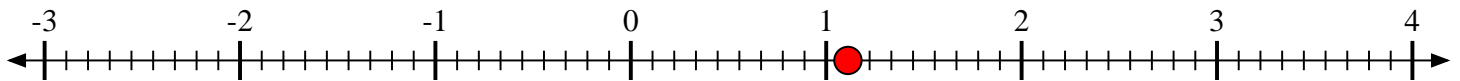
2) Marque la ubicación de $-2\frac{2}{3}$



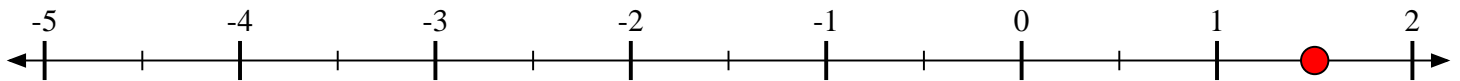
3) Marque la ubicación de $-2\frac{6}{8}$



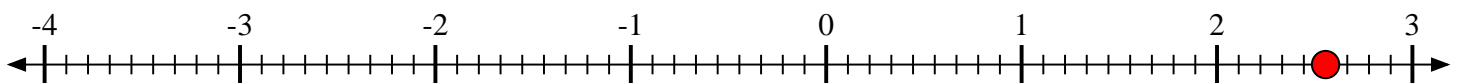
4) Marque la ubicación de $1\frac{1}{9}$



5) Marque la ubicación de $1\frac{1}{2}$



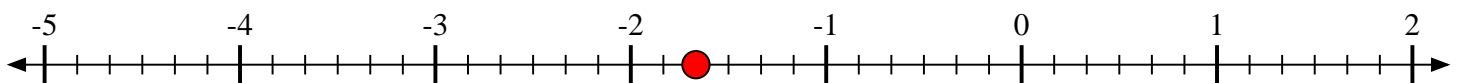
6) Marque la ubicación de $2\frac{5}{9}$



7) Marque la ubicación de $-1\frac{3}{6}$



8) Marque la ubicación de $-1\frac{4}{6}$



9) Marque la ubicación de $-1\frac{2}{6}$

