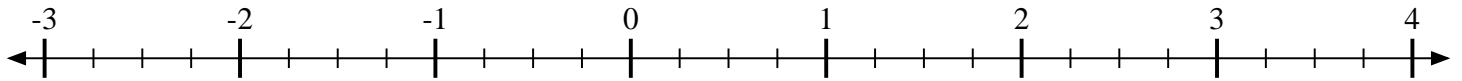


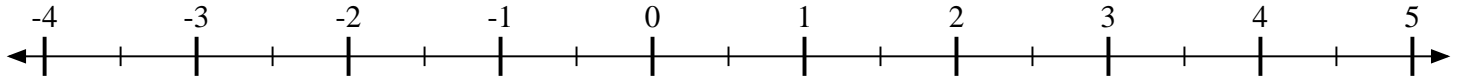


Marca cada ubicación descrita.

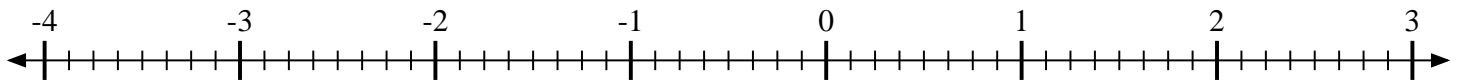
1) Marque la ubicación de $3\frac{1}{4}$



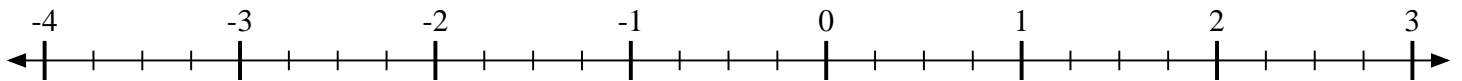
2) Marque la ubicación de $-1\frac{1}{2}$



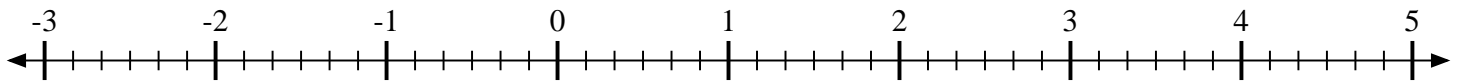
3) Marque la ubicación de $1\frac{1}{8}$



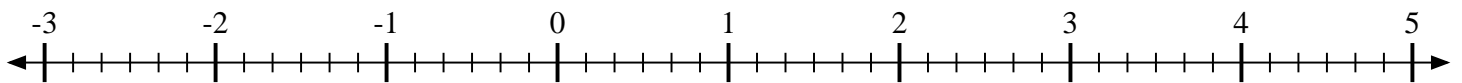
4) Marque la ubicación de $-1\frac{2}{4}$



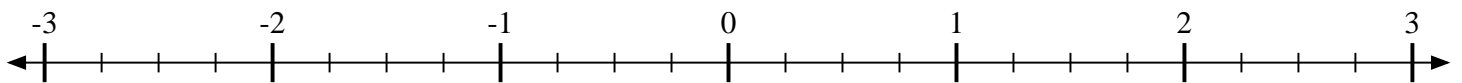
5) Marque la ubicación de $-2\frac{2}{6}$



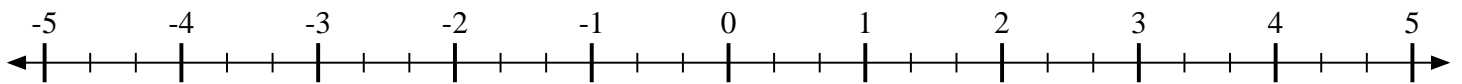
6) Marque la ubicación de $-1\frac{3}{6}$



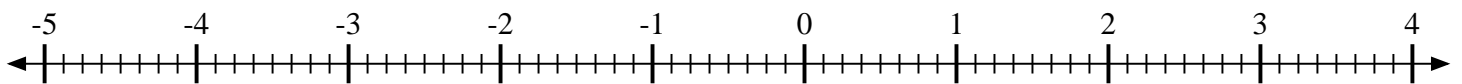
7) Marque la ubicación de $-1\frac{1}{4}$



8) Marque la ubicación de $-4\frac{2}{3}$



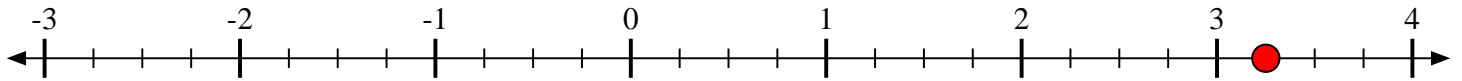
9) Marque la ubicación de $-2\frac{5}{8}$



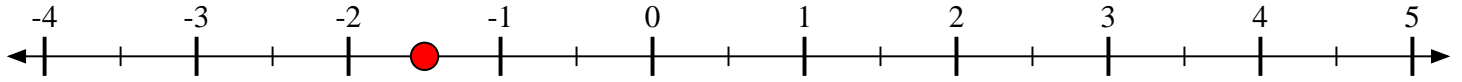


Marca cada ubicación descrita.

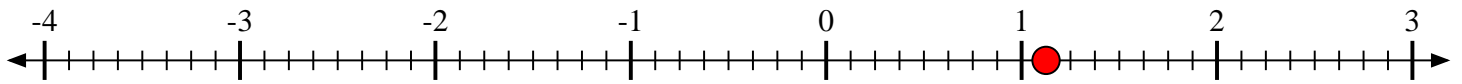
- 1) Marque la ubicación de $3\frac{1}{4}$



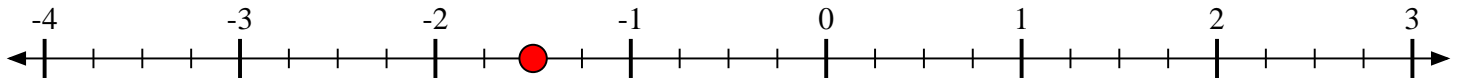
- 2) Marque la ubicación de $-1\frac{1}{2}$



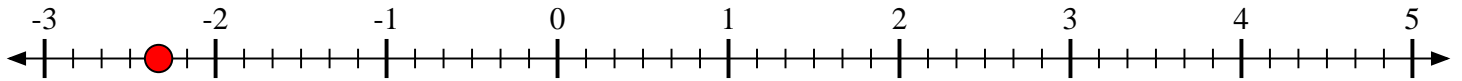
- 3) Marque la ubicación de $1\frac{1}{8}$



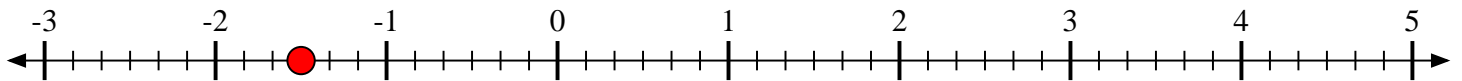
- 4) Marque la ubicación de $-1\frac{2}{4}$



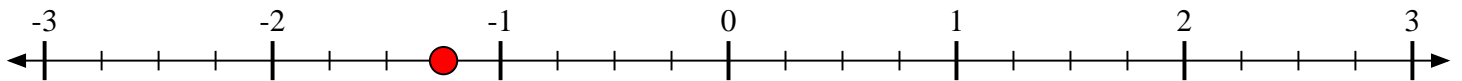
- 5) Marque la ubicación de $-2\frac{2}{6}$



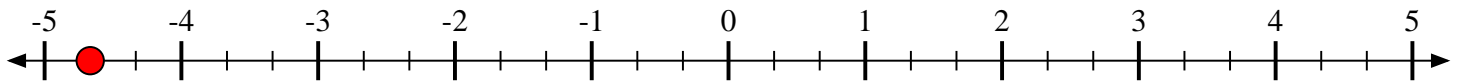
- 6) Marque la ubicación de $-1\frac{3}{6}$



- 7) Marque la ubicación de $-1\frac{1}{4}$



- 8) Marque la ubicación de $-4\frac{2}{3}$



- 9) Marque la ubicación de $-2\frac{5}{8}$

