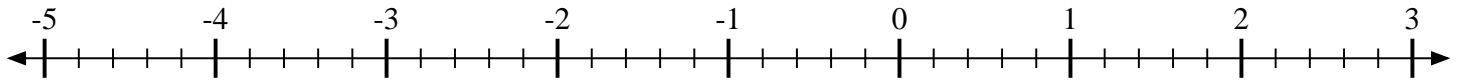


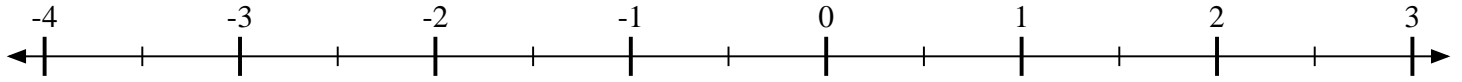


Marca cada ubicación descrita.

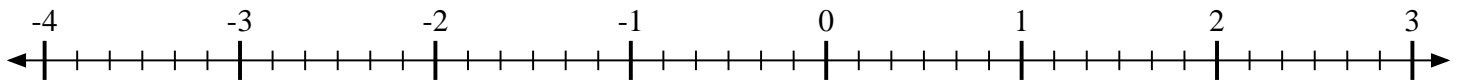
- 1) Marque la ubicación de $-3\frac{4}{5}$



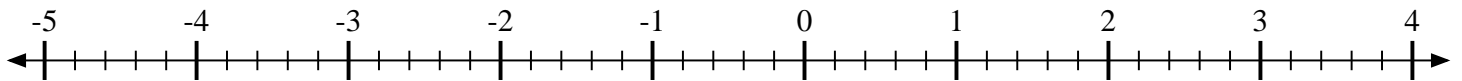
- 2) Marque la ubicación de $-2\frac{1}{2}$



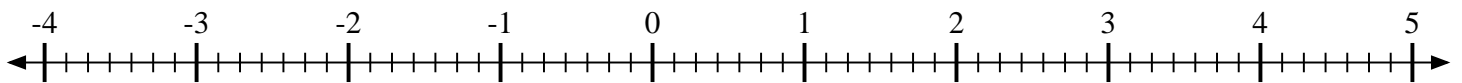
- 3) Marque la ubicación de $-3\frac{4}{6}$



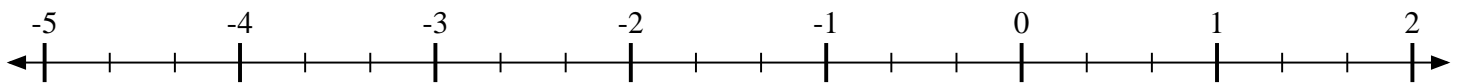
- 4) Marque la ubicación de $-1\frac{4}{5}$



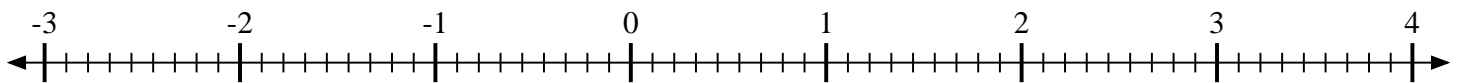
- 5) Marque la ubicación de $1\frac{4}{7}$



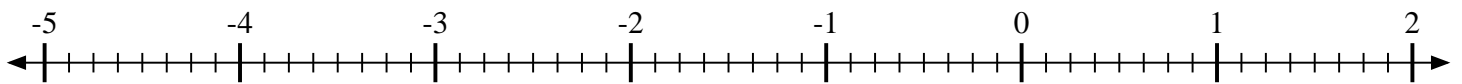
- 6) Marque la ubicación de $-3\frac{2}{3}$



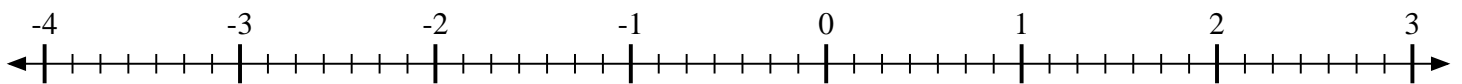
- 7) Marque la ubicación de $2\frac{6}{9}$



- 8) Marque la ubicación de $-4\frac{3}{8}$



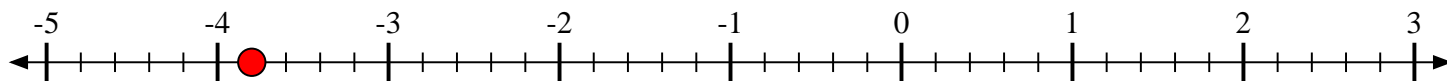
- 9) Marque la ubicación de $-1\frac{1}{7}$



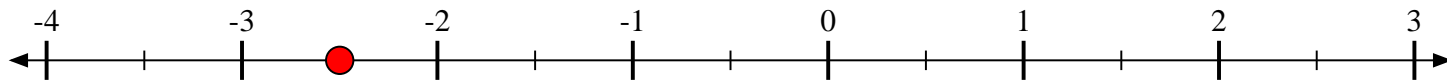


Marca cada ubicación descrita.

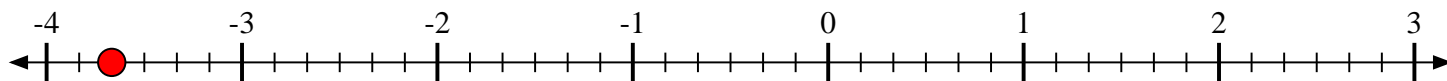
- 1) Marque la ubicación de
- $-3\frac{4}{5}$



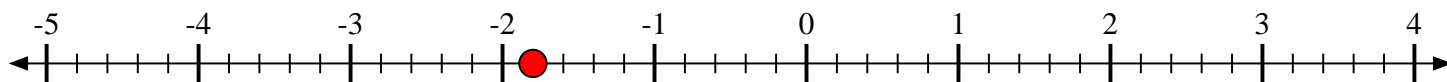
- 2) Marque la ubicación de
- $-2\frac{1}{2}$



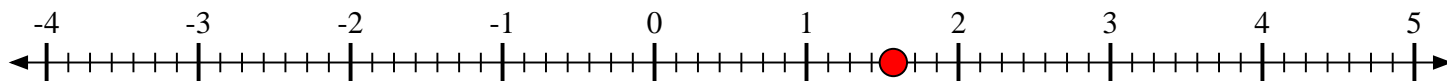
- 3) Marque la ubicación de
- $-3\frac{4}{6}$



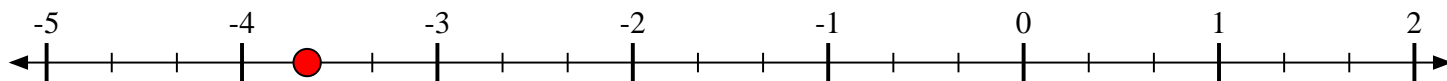
- 4) Marque la ubicación de
- $-1\frac{4}{5}$



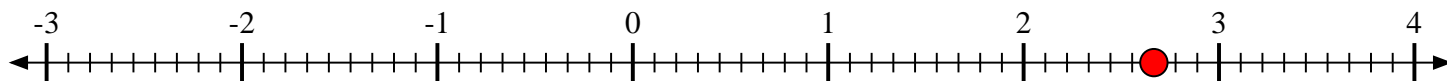
- 5) Marque la ubicación de
- $1\frac{4}{7}$



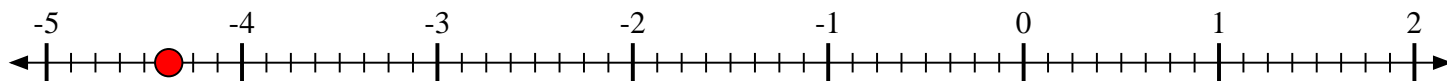
- 6) Marque la ubicación de
- $-3\frac{2}{3}$



- 7) Marque la ubicación de
- $2\frac{6}{9}$



- 8) Marque la ubicación de
- $-4\frac{3}{8}$



- 9) Marque la ubicación de
- $-1\frac{1}{7}$

