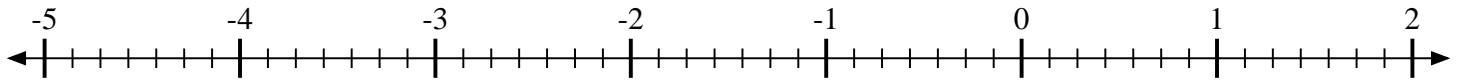


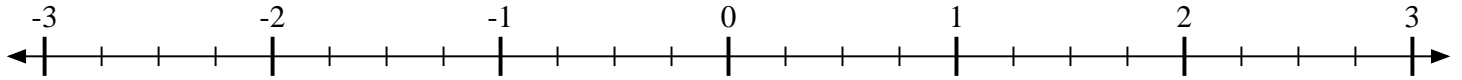


Marca cada ubicación descrita.

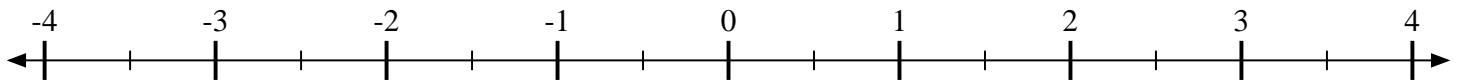
1) Marque la ubicación de  $\frac{5}{7}$



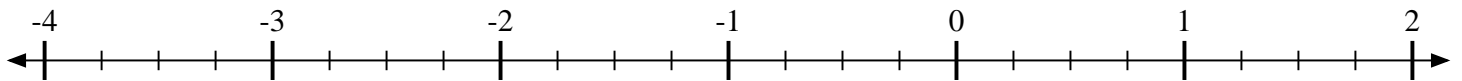
2) Marque la ubicación de  $1\frac{2}{4}$



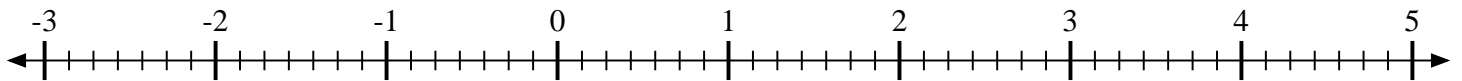
3) Marque la ubicación de  $\frac{1}{2}$




4) Marque la ubicación de  $1\frac{1}{4}$



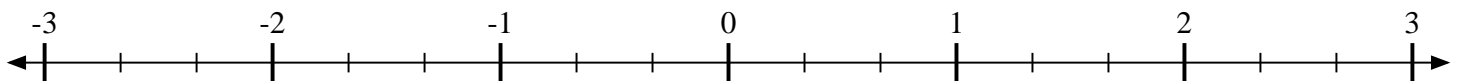
5) Marque la ubicación de  $-1\frac{2}{7}$



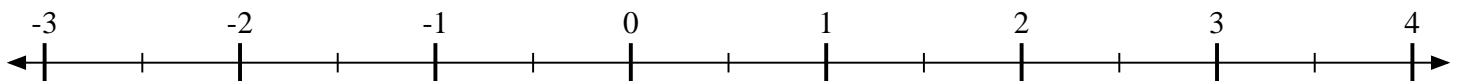
6) Marque la ubicación de  $\frac{2}{3}$



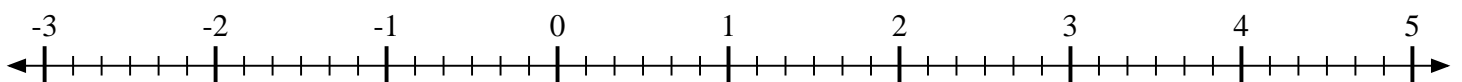
7) Marque la ubicación de  $2\frac{2}{3}$



8) Marque la ubicación de  $2\frac{1}{2}$



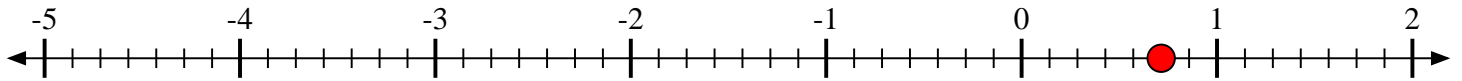
9) Marque la ubicación de  $-2\frac{5}{6}$



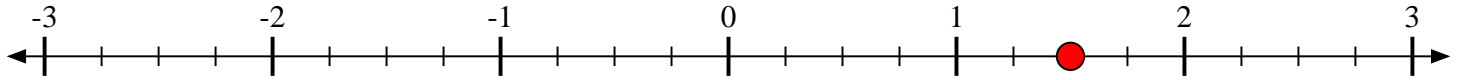


Marca cada ubicación descrita.

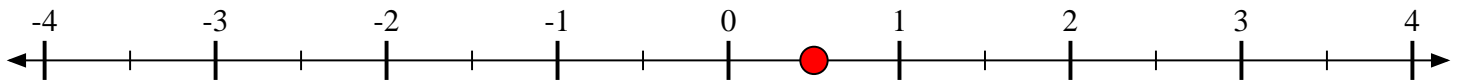
1) Marque la ubicación de  $\frac{5}{7}$



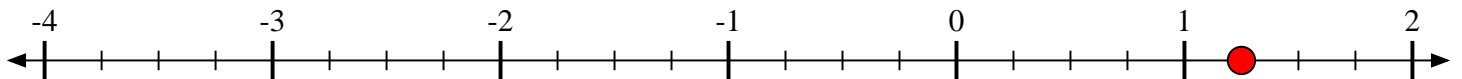
2) Marque la ubicación de  $1\frac{2}{4}$



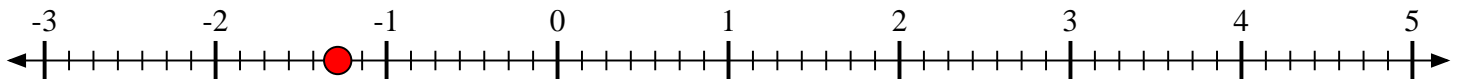
3) Marque la ubicación de  $\frac{1}{2}$




4) Marque la ubicación de  $1\frac{1}{4}$



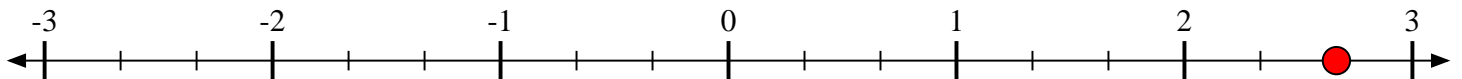
5) Marque la ubicación de  $-1\frac{2}{7}$



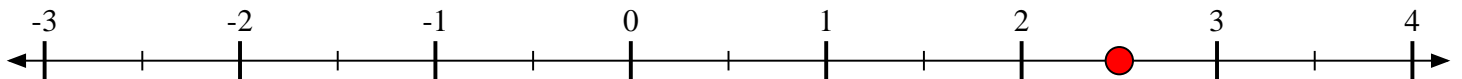
6) Marque la ubicación de  $\frac{2}{3}$



7) Marque la ubicación de  $2\frac{2}{3}$



8) Marque la ubicación de  $2\frac{1}{2}$



9) Marque la ubicación de  $-2\frac{5}{6}$

