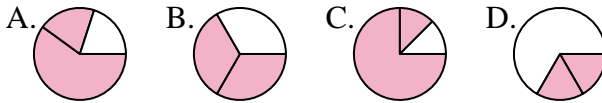




Determina cuál letra mejor representa a cada fracción

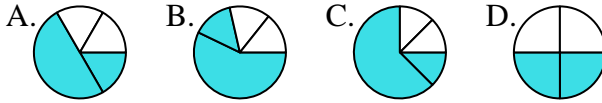
Respuestas

1) ¿Que opción representa mejor $\frac{2}{3}$?



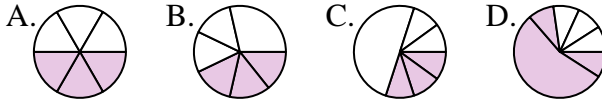
1. **B**

2) ¿Que opción representa mejor $\frac{2}{4}$?



2. **D**

3) ¿Que opción representa mejor $\frac{3}{6}$?



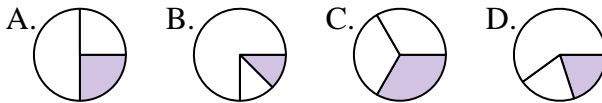
3. **A**

4) ¿Que opción representa mejor $\frac{6}{8}$?



4. **A**

5) ¿Que opción representa mejor $\frac{1}{3}$?



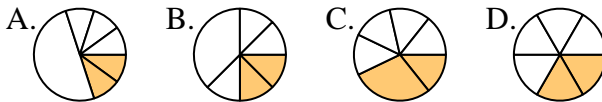
5. **C**

6) ¿Que opción representa mejor $\frac{3}{4}$?



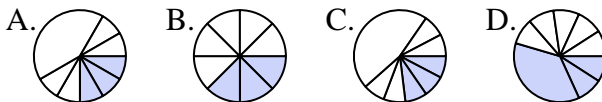
6. **B**

7) ¿Que opción representa mejor $\frac{2}{6}$?



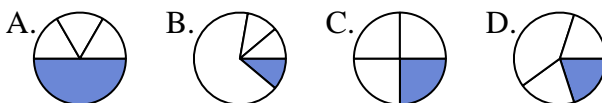
7. **D**

8) ¿Que opción representa mejor $\frac{3}{8}$?



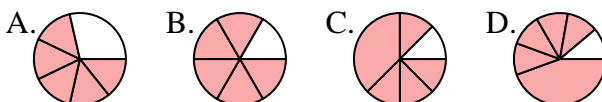
8. **B**

9) ¿Que opción representa mejor $\frac{1}{4}$?



9. **C**

10) ¿Que opción representa mejor $\frac{5}{6}$?



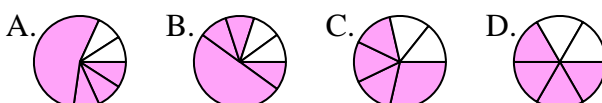
10. **B**

11) ¿Que opción representa mejor $\frac{2}{8}$?



11. **B**

12) ¿Que opción representa mejor $\frac{4}{6}$?



12. **D**