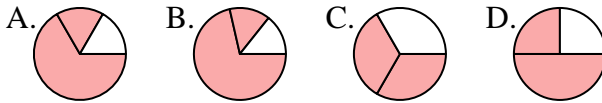




Determina cuál letra mejor representa a cada fracción

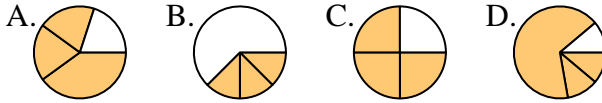
Respuestas

1) ¿Que opción representa mejor $\frac{2}{3}$?



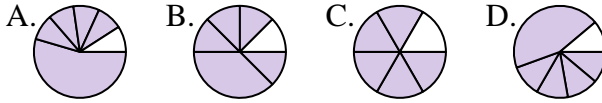
1. _____

2) ¿Que opción representa mejor $\frac{3}{4}$?



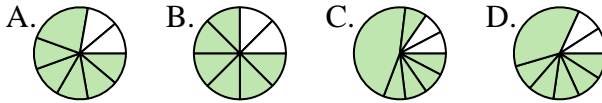
2. _____

3) ¿Que opción representa mejor $\frac{5}{6}$?



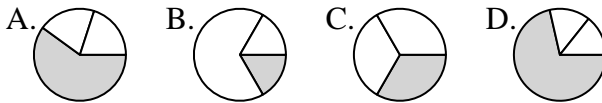
4. _____

4) ¿Que opción representa mejor $\frac{6}{8}$?



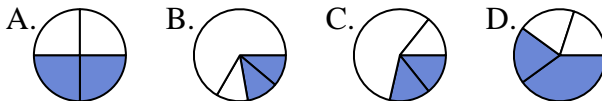
6. _____

5) ¿Que opción representa mejor $\frac{1}{3}$?



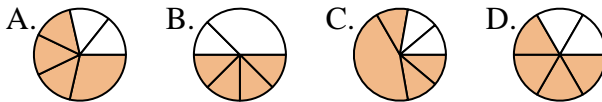
8. _____

6) ¿Que opción representa mejor $\frac{2}{4}$?



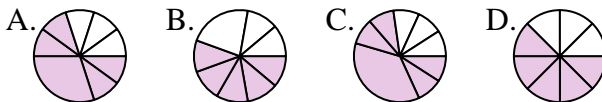
9. _____

7) ¿Que opción representa mejor $\frac{4}{6}$?



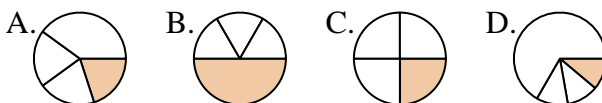
11. _____

8) ¿Que opción representa mejor $\frac{5}{8}$?

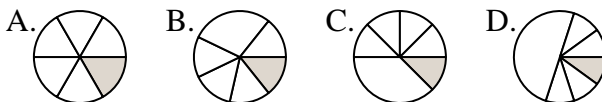


12. _____

9) ¿Que opción representa mejor $\frac{1}{4}$?



10) ¿Que opción representa mejor $\frac{1}{6}$?



11) ¿Que opción representa mejor $\frac{4}{8}$?



12) ¿Que opción representa mejor $\frac{3}{6}$?

