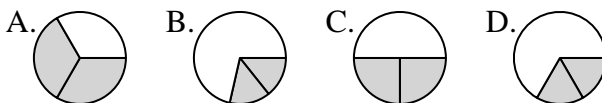




Determina cuál letra mejor representa a cada fracción

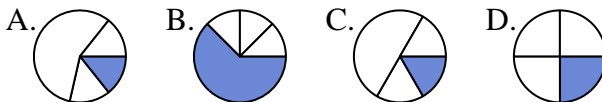
Respuestas

1) ¿Que opción representa mejor $\frac{2}{3}$?



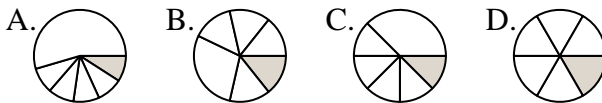
1. _____

2) ¿Que opción representa mejor $\frac{1}{4}$?



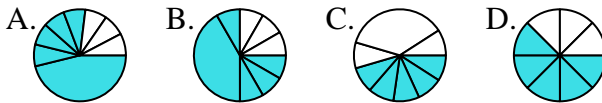
2. _____

3) ¿Que opción representa mejor $\frac{1}{6}$?



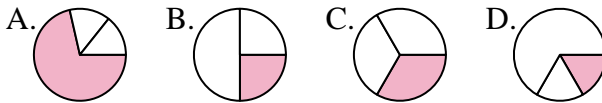
3. _____

4) ¿Que opción representa mejor $\frac{5}{8}$?



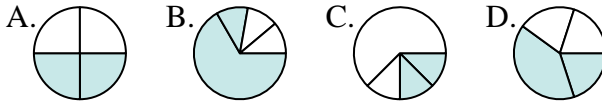
4. _____

5) ¿Que opción representa mejor $\frac{1}{3}$?



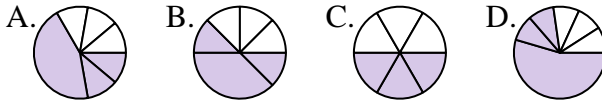
5. _____

6) ¿Que opción representa mejor $\frac{2}{4}$?



6. _____

7) ¿Que opción representa mejor $\frac{3}{6}$?



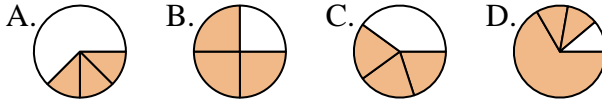
7. _____

8) ¿Que opción representa mejor $\frac{7}{8}$?



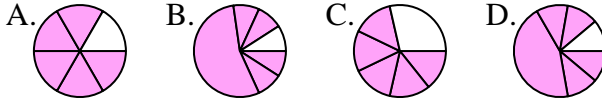
8. _____

9) ¿Que opción representa mejor $\frac{3}{4}$?



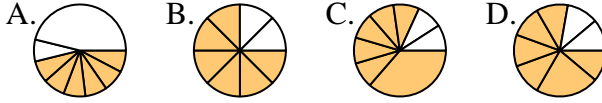
9. _____

10) ¿Que opción representa mejor $\frac{5}{6}$?



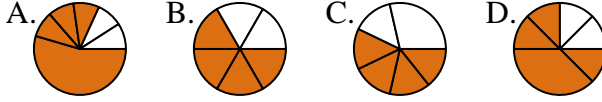
10. _____

11) ¿Que opción representa mejor $\frac{6}{8}$?



11. _____

12) ¿Que opción representa mejor $\frac{4}{6}$?



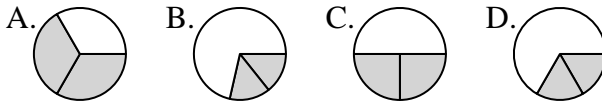
12. _____



Determina cuál letra mejor representa a cada fracción

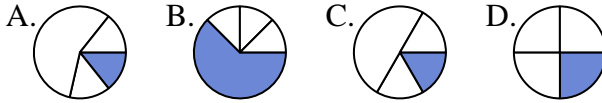
Respuestas

1) ¿Que opción representa mejor $\frac{2}{3}$?



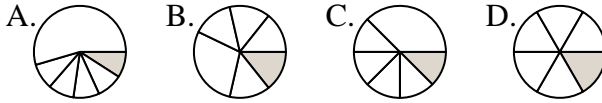
1. **A**

2) ¿Que opción representa mejor $\frac{1}{4}$?



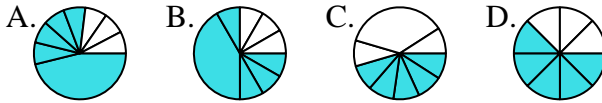
2. **D**

3) ¿Que opción representa mejor $\frac{1}{6}$?



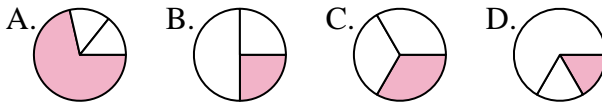
3. **D**

4) ¿Que opción representa mejor $\frac{5}{8}$?



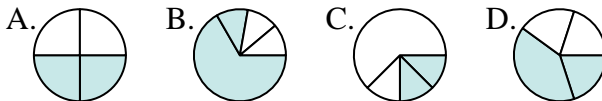
4. **D**

5) ¿Que opción representa mejor $\frac{1}{3}$?



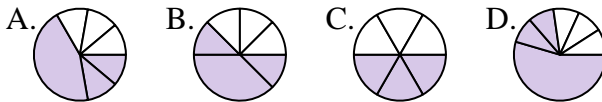
5. **C**

6) ¿Que opción representa mejor $\frac{2}{4}$?



6. **A**

7) ¿Que opción representa mejor $\frac{3}{6}$?



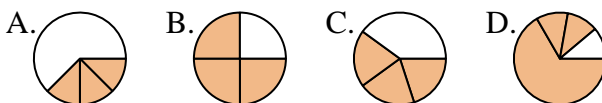
7. **C**

8) ¿Que opción representa mejor $\frac{7}{8}$?



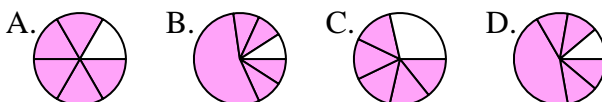
8. **D**

9) ¿Que opción representa mejor $\frac{3}{4}$?



9. **B**

10) ¿Que opción representa mejor $\frac{5}{6}$?



10. **A**

11) ¿Que opción representa mejor $\frac{6}{8}$?



11. **B**

12) ¿Que opción representa mejor $\frac{4}{6}$?



12. **B**