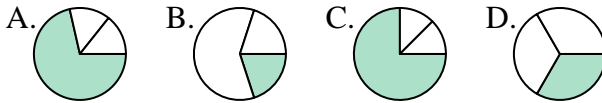




Determina cuál letra mejor representa a cada fracción

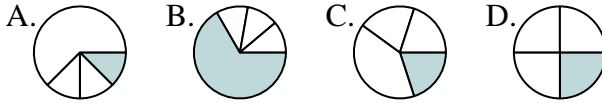
Respuestas

1) ¿Que opción representa mejor $\frac{1}{3}$?



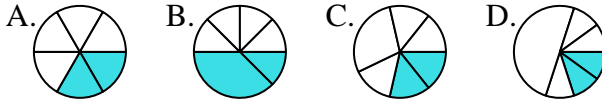
1. _____

2) ¿Que opción representa mejor $\frac{1}{4}$?



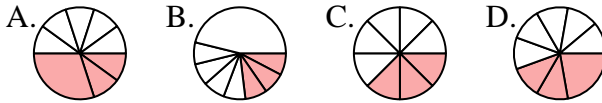
2. _____

3) ¿Que opción representa mejor $\frac{2}{6}$?



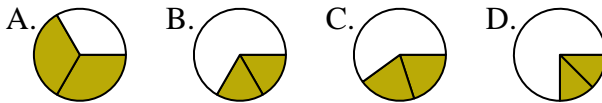
4. _____

4) ¿Que opción representa mejor $\frac{3}{8}$?



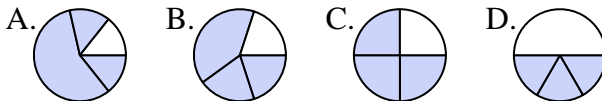
6. _____

5) ¿Que opción representa mejor $\frac{2}{3}$?



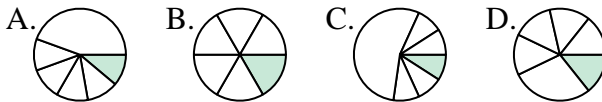
7. _____

6) ¿Que opción representa mejor $\frac{3}{4}$?



9. _____

7) ¿Que opción representa mejor $\frac{1}{6}$?



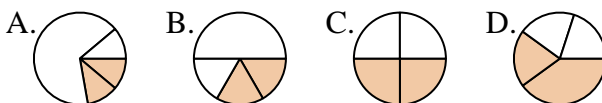
10. _____

8) ¿Que opción representa mejor $\frac{1}{8}$?



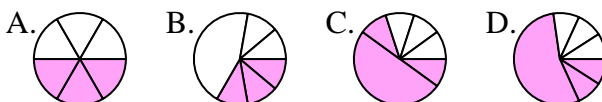
11. _____

9) ¿Que opción representa mejor $\frac{2}{4}$?



12. _____

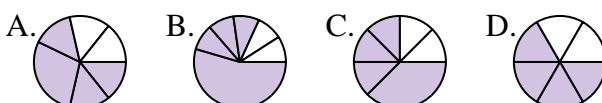
10) ¿Que opción representa mejor $\frac{3}{6}$?



11) ¿Que opción representa mejor $\frac{5}{8}$?



12) ¿Que opción representa mejor $\frac{4}{6}$?

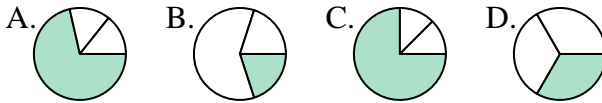




Determina cuál letra mejor representa a cada fracción

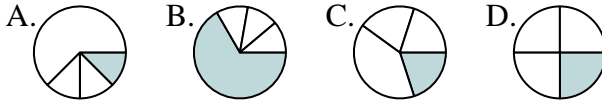
Respuestas

1) ¿Que opción representa mejor $\frac{1}{3}$?



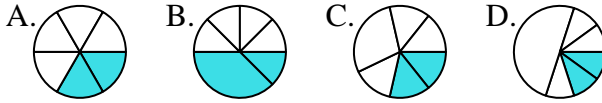
1. **D**

2) ¿Que opción representa mejor $\frac{1}{4}$?



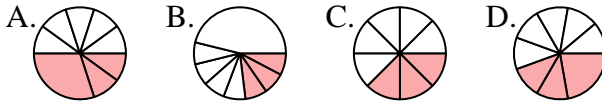
2. **D**

3) ¿Que opción representa mejor $\frac{2}{6}$?



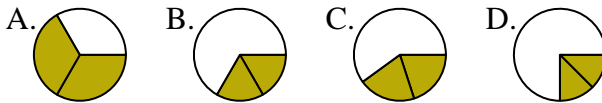
3. **A**

4) ¿Que opción representa mejor $\frac{3}{8}$?



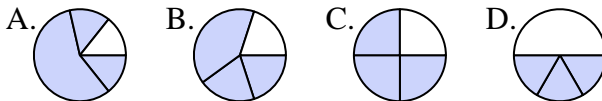
4. **C**

5) ¿Que opción representa mejor $\frac{2}{3}$?



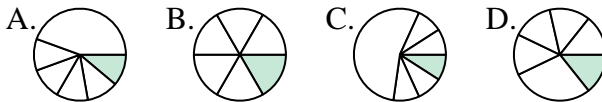
5. **A**

6) ¿Que opción representa mejor $\frac{3}{4}$?



6. **C**

7) ¿Que opción representa mejor $\frac{1}{6}$?



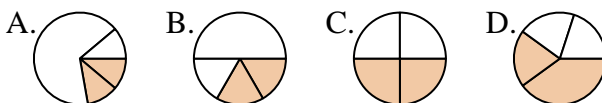
7. **B**

8) ¿Que opción representa mejor $\frac{1}{8}$?



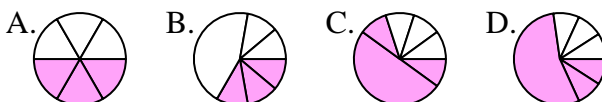
8. **A**

9) ¿Que opción representa mejor $\frac{2}{4}$?



9. **C**

10) ¿Que opción representa mejor $\frac{3}{6}$?



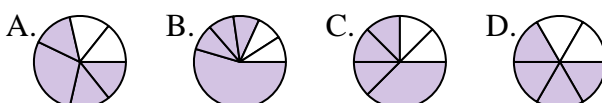
10. **A**

11) ¿Que opción representa mejor $\frac{5}{8}$?



11. **C**

12) ¿Que opción representa mejor $\frac{4}{6}$?



12. **D**