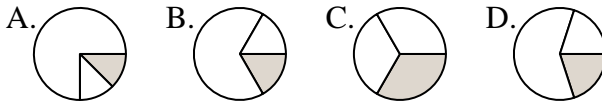




Determina cuál letra mejor representa a cada fracción

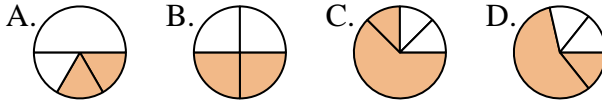
Respuestas

1) ¿Que opción representa mejor  $\frac{1}{3}$ ?



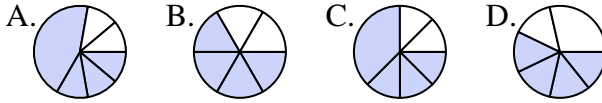
1. \_\_\_\_\_

2) ¿Que opción representa mejor  $\frac{2}{4}$ ?



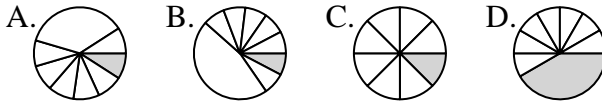
2. \_\_\_\_\_

3) ¿Que opción representa mejor  $\frac{4}{6}$ ?



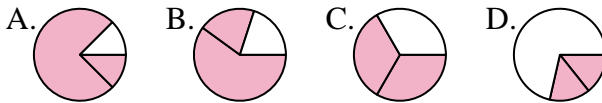
4. \_\_\_\_\_

4) ¿Que opción representa mejor  $\frac{1}{8}$ ?



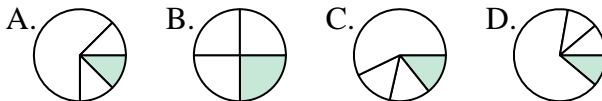
6. \_\_\_\_\_

5) ¿Que opción representa mejor  $\frac{2}{3}$ ?



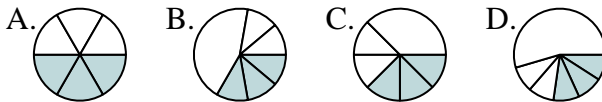
7. \_\_\_\_\_

6) ¿Que opción representa mejor  $\frac{1}{4}$ ?



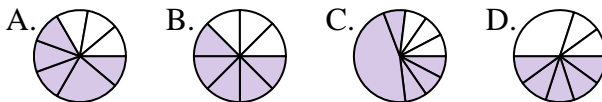
9. \_\_\_\_\_

7) ¿Que opción representa mejor  $\frac{3}{6}$ ?



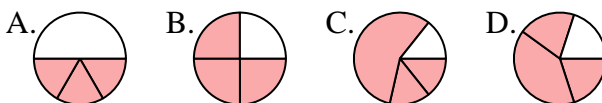
11. \_\_\_\_\_

8) ¿Que opción representa mejor  $\frac{5}{8}$ ?

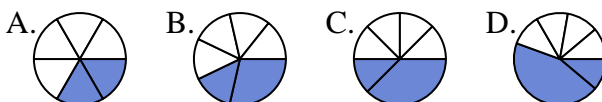


12. \_\_\_\_\_

9) ¿Que opción representa mejor  $\frac{3}{4}$ ?



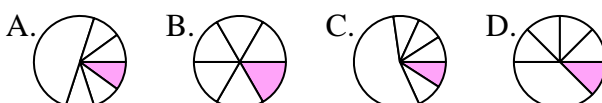
10) ¿Que opción representa mejor  $\frac{2}{6}$ ?



11) ¿Que opción representa mejor  $\frac{7}{8}$ ?



12) ¿Que opción representa mejor  $\frac{1}{6}$ ?

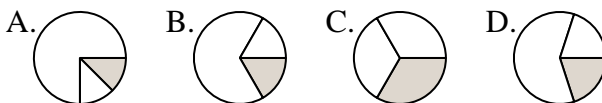




Determina cuál letra mejor representa a cada fracción

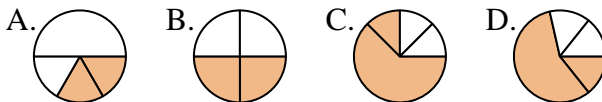
**Respuestas**

1) ¿Que opción representa mejor  $\frac{1}{3}$ ?



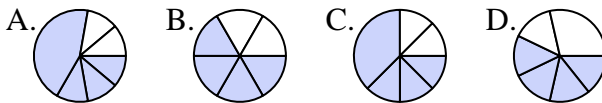
1.     **C**    

2) ¿Que opción representa mejor  $\frac{2}{4}$ ?



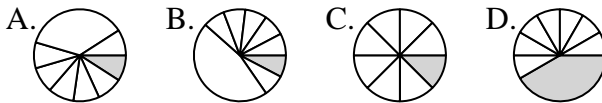
2.     **B**    

3) ¿Que opción representa mejor  $\frac{4}{6}$ ?



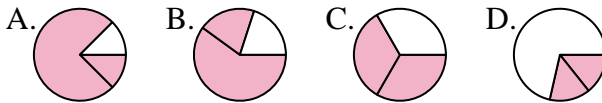
4.     **C**    

4) ¿Que opción representa mejor  $\frac{1}{8}$ ?



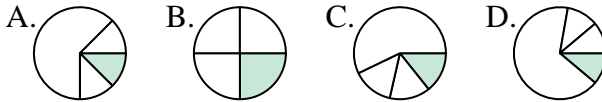
5.     **C**    

5) ¿Que opción representa mejor  $\frac{2}{3}$ ?



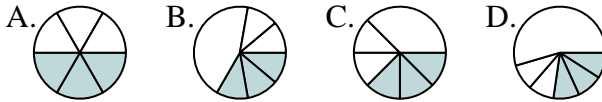
6.     **B**    

6) ¿Que opción representa mejor  $\frac{1}{4}$ ?



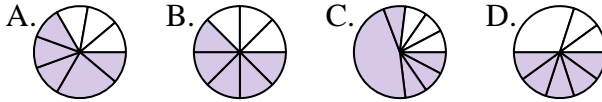
7.     **A**    

7) ¿Que opción representa mejor  $\frac{3}{6}$ ?



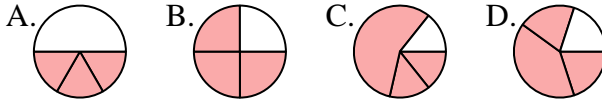
8.     **B**    

8) ¿Que opción representa mejor  $\frac{5}{8}$ ?



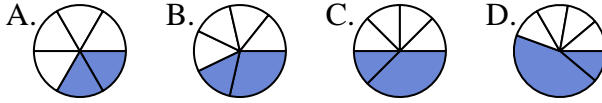
9.     **B**    

9) ¿Que opción representa mejor  $\frac{3}{4}$ ?



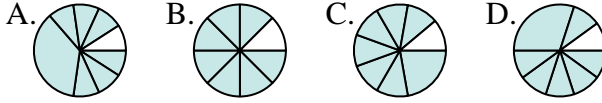
10.     **A**    

10) ¿Que opción representa mejor  $\frac{2}{6}$ ?



11.     **B**    

11) ¿Que opción representa mejor  $\frac{7}{8}$ ?



12.     **B**    

12) ¿Que opción representa mejor  $\frac{1}{6}$ ?

