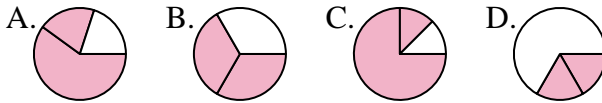




Determina cuál letra mejor representa a cada fracción

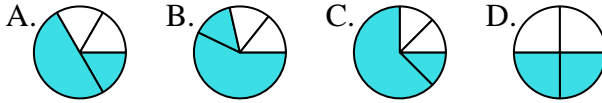
Respuestas

1) ¿Que opción representa mejor $\frac{2}{3}$?



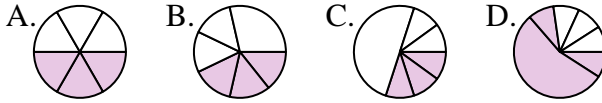
1. _____

2) ¿Que opción representa mejor $\frac{2}{4}$?



2. _____

3) ¿Que opción representa mejor $\frac{3}{6}$?



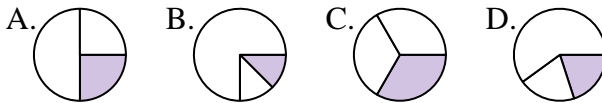
3. _____

4) ¿Que opción representa mejor $\frac{6}{8}$?



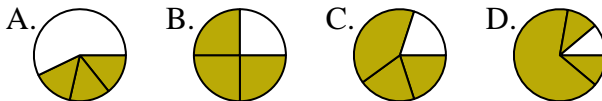
4. _____

5) ¿Que opción representa mejor $\frac{1}{3}$?



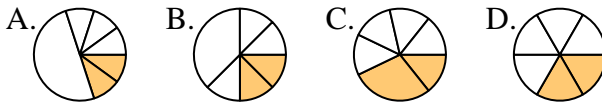
5. _____

6) ¿Que opción representa mejor $\frac{3}{4}$?



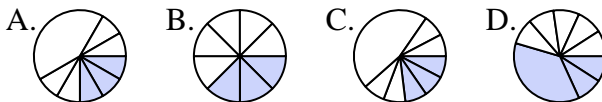
6. _____

7) ¿Que opción representa mejor $\frac{2}{6}$?



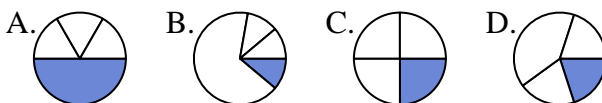
7. _____

8) ¿Que opción representa mejor $\frac{3}{8}$?



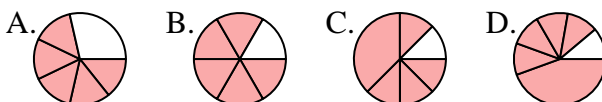
8. _____

9) ¿Que opción representa mejor $\frac{1}{4}$?



9. _____

10) ¿Que opción representa mejor $\frac{5}{6}$?



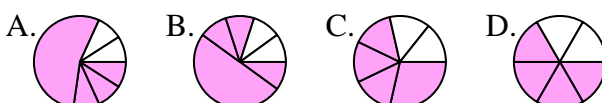
10. _____

11) ¿Que opción representa mejor $\frac{2}{8}$?



11. _____

12) ¿Que opción representa mejor $\frac{4}{6}$?



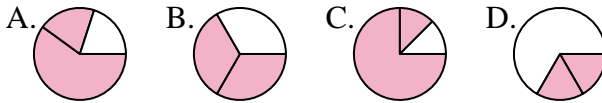
12. _____



Determina cuál letra mejor representa a cada fracción

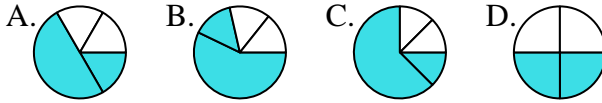
Respuestas

1) ¿Que opción representa mejor $\frac{2}{3}$?



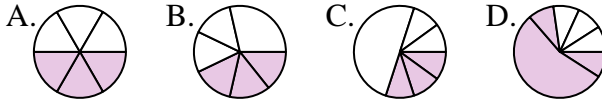
1. **B**

2) ¿Que opción representa mejor $\frac{2}{4}$?



2. **D**

3) ¿Que opción representa mejor $\frac{3}{6}$?



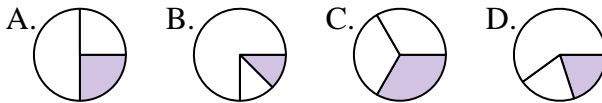
3. **A**

4) ¿Que opción representa mejor $\frac{6}{8}$?



4. **A**

5) ¿Que opción representa mejor $\frac{1}{3}$?



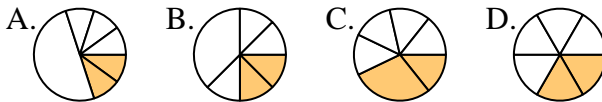
5. **C**

6) ¿Que opción representa mejor $\frac{3}{4}$?



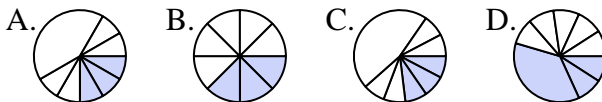
6. **B**

7) ¿Que opción representa mejor $\frac{2}{6}$?



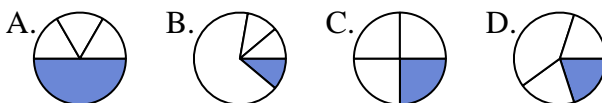
7. **D**

8) ¿Que opción representa mejor $\frac{3}{8}$?



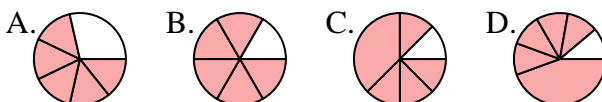
8. **B**

9) ¿Que opción representa mejor $\frac{1}{4}$?



9. **C**

10) ¿Que opción representa mejor $\frac{5}{6}$?



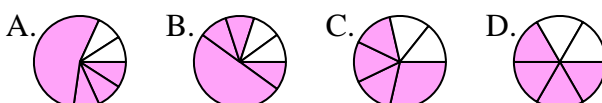
10. **B**

11) ¿Que opción representa mejor $\frac{2}{8}$?



11. **B**

12) ¿Que opción representa mejor $\frac{4}{6}$?



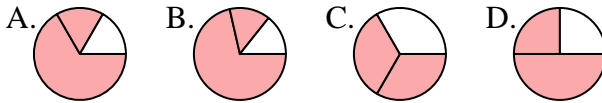
12. **D**



Determina cuál letra mejor representa a cada fracción

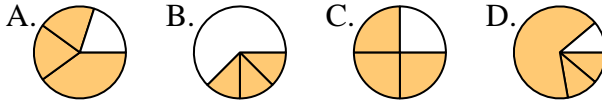
Respuestas

1) ¿Que opción representa mejor $\frac{2}{3}$?



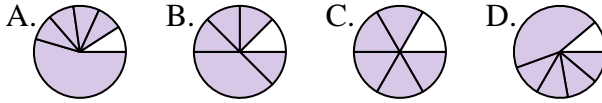
1. _____

2) ¿Que opción representa mejor $\frac{3}{4}$?



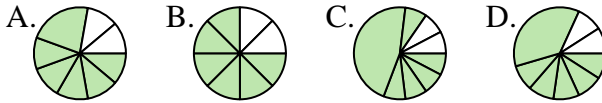
2. _____

3) ¿Que opción representa mejor $\frac{5}{6}$?



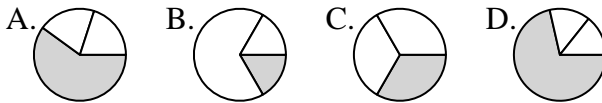
4. _____

4) ¿Que opción representa mejor $\frac{6}{8}$?



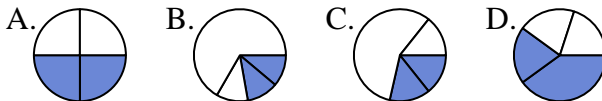
6. _____

5) ¿Que opción representa mejor $\frac{1}{3}$?



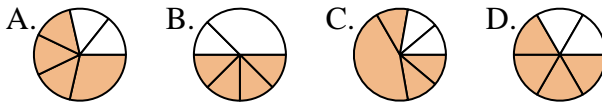
8. _____

6) ¿Que opción representa mejor $\frac{2}{4}$?



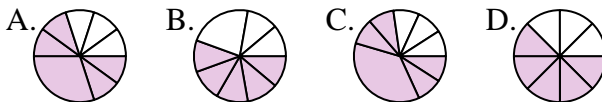
9. _____

7) ¿Que opción representa mejor $\frac{4}{6}$?



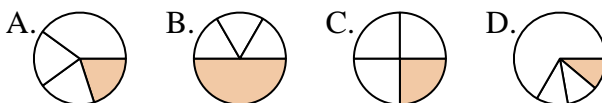
11. _____

8) ¿Que opción representa mejor $\frac{5}{8}$?

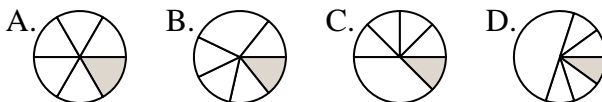


12. _____

9) ¿Que opción representa mejor $\frac{1}{4}$?



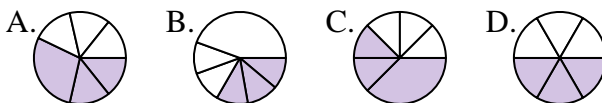
10) ¿Que opción representa mejor $\frac{1}{6}$?



11) ¿Que opción representa mejor $\frac{4}{8}$?



12) ¿Que opción representa mejor $\frac{3}{6}$?

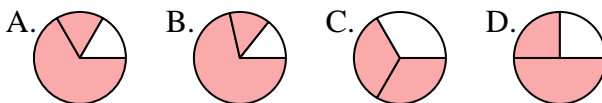




Determina cuál letra mejor representa a cada fracción

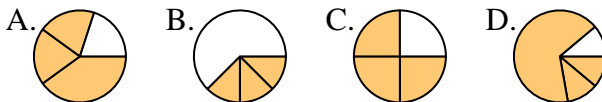
Respuestas

1) ¿Que opción representa mejor $\frac{2}{3}$?



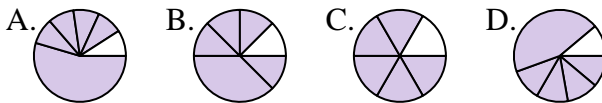
1. **C**

2) ¿Que opción representa mejor $\frac{3}{4}$?



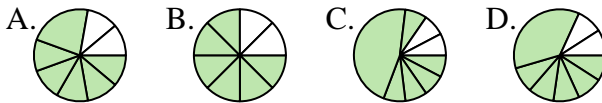
2. **C**

3) ¿Que opción representa mejor $\frac{5}{6}$?



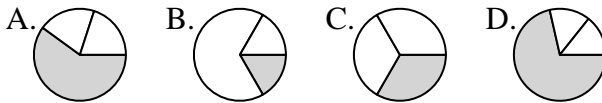
3. **C**

4) ¿Que opción representa mejor $\frac{6}{8}$?



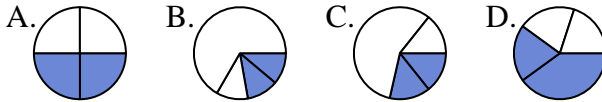
4. **B**

5) ¿Que opción representa mejor $\frac{1}{3}$?



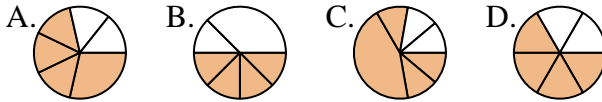
5. **C**

6) ¿Que opción representa mejor $\frac{2}{4}$?



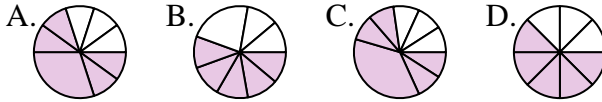
6. **A**

7) ¿Que opción representa mejor $\frac{4}{6}$?



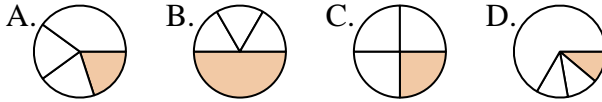
7. **D**

8) ¿Que opción representa mejor $\frac{5}{8}$?



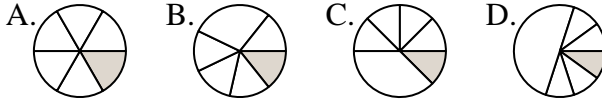
8. **D**

9) ¿Que opción representa mejor $\frac{1}{4}$?



9. **C**

10) ¿Que opción representa mejor $\frac{1}{6}$?



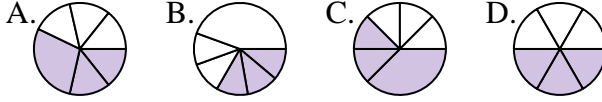
10. **A**

11) ¿Que opción representa mejor $\frac{4}{8}$?



11. **A**

12) ¿Que opción representa mejor $\frac{3}{6}$?



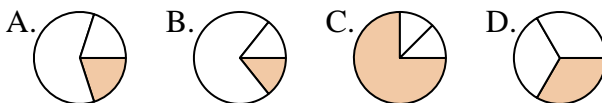
12. **D**



Determina cuál letra mejor representa a cada fracción

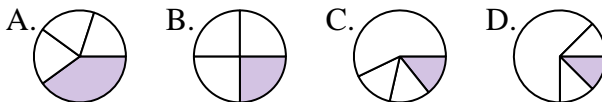
Respuestas

1) ¿Que opción representa mejor $\frac{1}{3}$?



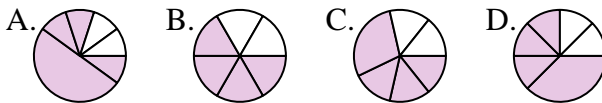
1. _____

2) ¿Que opción representa mejor $\frac{1}{4}$?



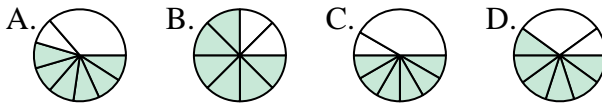
2. _____

3) ¿Que opción representa mejor $\frac{4}{6}$?



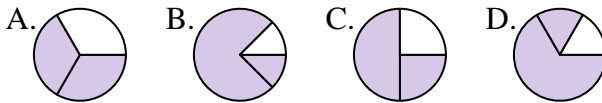
3. _____

4) ¿Que opción representa mejor $\frac{6}{8}$?



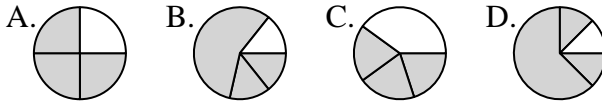
4. _____

5) ¿Que opción representa mejor $\frac{2}{3}$?



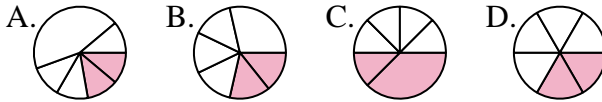
5. _____

6) ¿Que opción representa mejor $\frac{3}{4}$?



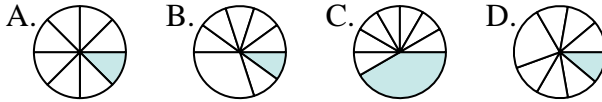
6. _____

7) ¿Que opción representa mejor $\frac{2}{6}$?



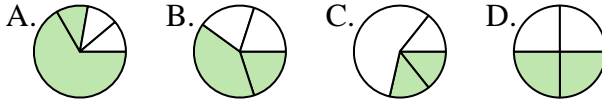
7. _____

8) ¿Que opción representa mejor $\frac{1}{8}$?



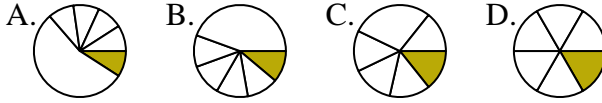
8. _____

9) ¿Que opción representa mejor $\frac{2}{4}$?



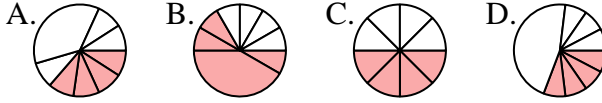
9. _____

10) ¿Que opción representa mejor $\frac{1}{6}$?



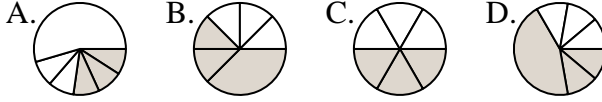
10. _____

11) ¿Que opción representa mejor $\frac{4}{8}$?



11. _____

12) ¿Que opción representa mejor $\frac{3}{6}$?



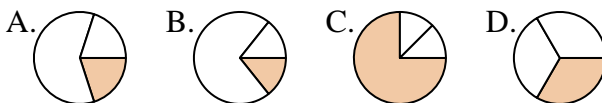
12. _____



Determina cuál letra mejor representa a cada fracción

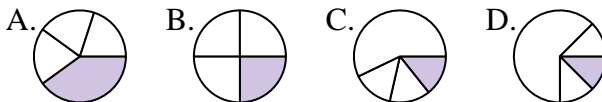
Respuestas

1) ¿Que opción representa mejor $\frac{1}{3}$?



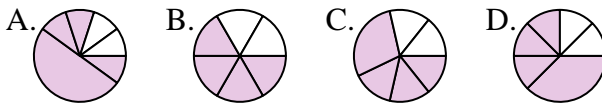
1. **D**

2) ¿Que opción representa mejor $\frac{1}{4}$?



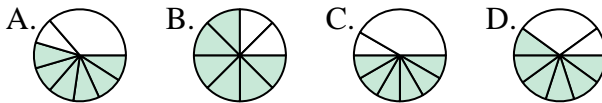
2. **B**

3) ¿Que opción representa mejor $\frac{4}{6}$?



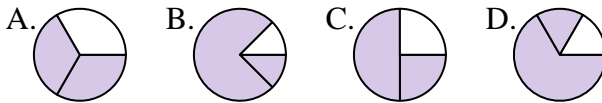
3. **B**

4) ¿Que opción representa mejor $\frac{6}{8}$?



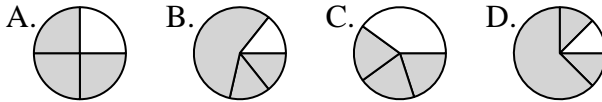
4. **B**

5) ¿Que opción representa mejor $\frac{2}{3}$?



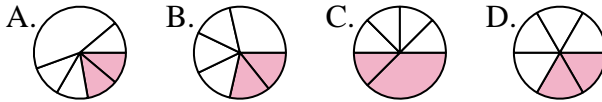
5. **A**

6) ¿Que opción representa mejor $\frac{3}{4}$?



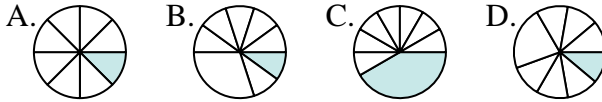
6. **A**

7) ¿Que opción representa mejor $\frac{2}{6}$?



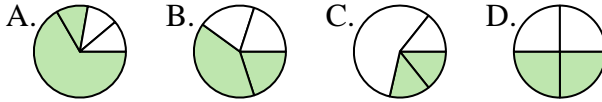
7. **D**

8) ¿Que opción representa mejor $\frac{1}{8}$?



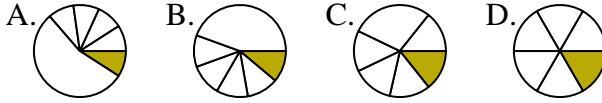
8. **A**

9) ¿Que opción representa mejor $\frac{2}{4}$?



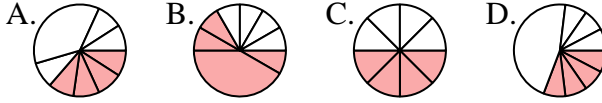
9. **D**

10) ¿Que opción representa mejor $\frac{1}{6}$?



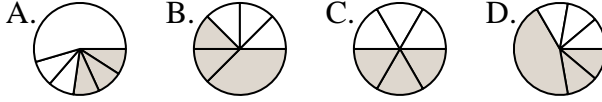
10. **D**

11) ¿Que opción representa mejor $\frac{4}{8}$?



11. **C**

12) ¿Que opción representa mejor $\frac{3}{6}$?



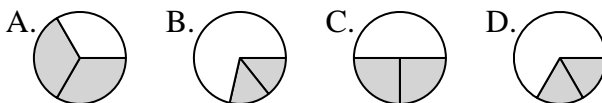
12. **C**



Determina cuál letra mejor representa a cada fracción

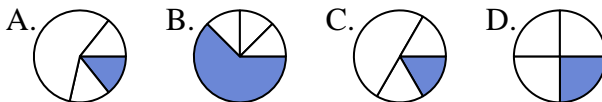
Respuestas

1) ¿Que opción representa mejor $\frac{2}{3}$?



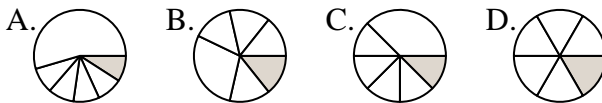
1. _____

2) ¿Que opción representa mejor $\frac{1}{4}$?



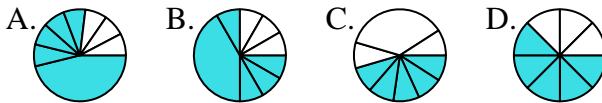
2. _____

3) ¿Que opción representa mejor $\frac{1}{6}$?



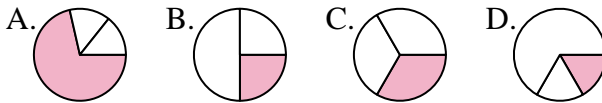
3. _____

4) ¿Que opción representa mejor $\frac{5}{8}$?



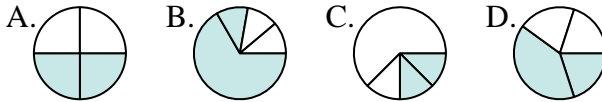
4. _____

5) ¿Que opción representa mejor $\frac{1}{3}$?



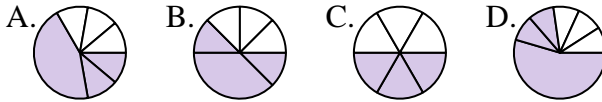
5. _____

6) ¿Que opción representa mejor $\frac{2}{4}$?



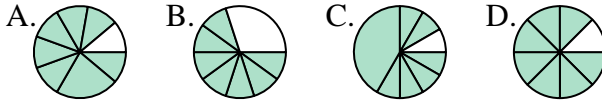
6. _____

7) ¿Que opción representa mejor $\frac{3}{6}$?



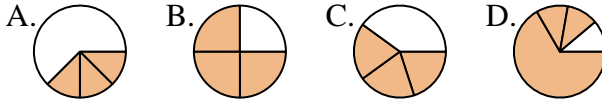
7. _____

8) ¿Que opción representa mejor $\frac{7}{8}$?



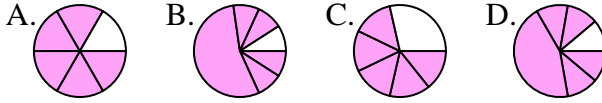
8. _____

9) ¿Que opción representa mejor $\frac{3}{4}$?



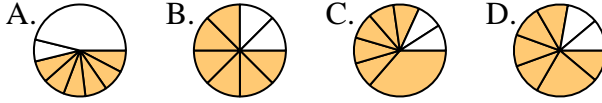
9. _____

10) ¿Que opción representa mejor $\frac{5}{6}$?



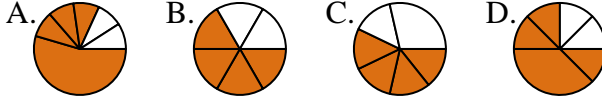
10. _____

11) ¿Que opción representa mejor $\frac{6}{8}$?



11. _____

12) ¿Que opción representa mejor $\frac{4}{6}$?



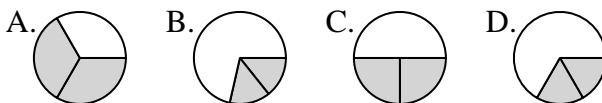
12. _____



Determina cuál letra mejor representa a cada fracción

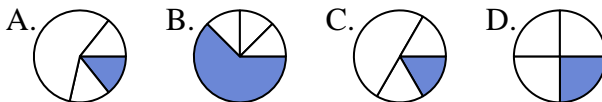
Respuestas

1) ¿Que opción representa mejor $\frac{2}{3}$?



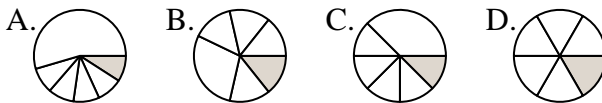
1. **A**

2) ¿Que opción representa mejor $\frac{1}{4}$?



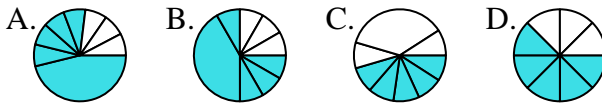
2. **D**

3) ¿Que opción representa mejor $\frac{1}{6}$?



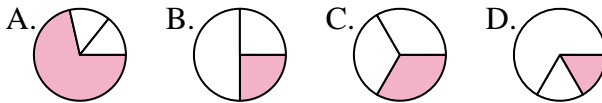
3. **D**

4) ¿Que opción representa mejor $\frac{5}{8}$?



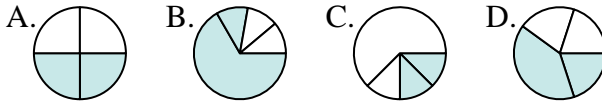
4. **D**

5) ¿Que opción representa mejor $\frac{1}{3}$?



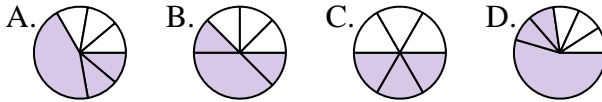
5. **C**

6) ¿Que opción representa mejor $\frac{2}{4}$?



6. **A**

7) ¿Que opción representa mejor $\frac{3}{6}$?



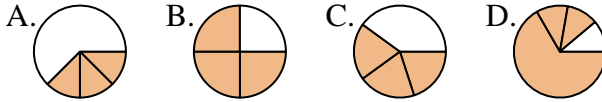
7. **C**

8) ¿Que opción representa mejor $\frac{7}{8}$?



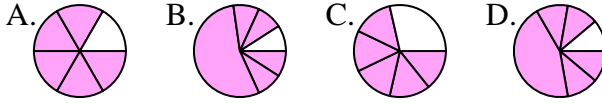
8. **D**

9) ¿Que opción representa mejor $\frac{3}{4}$?



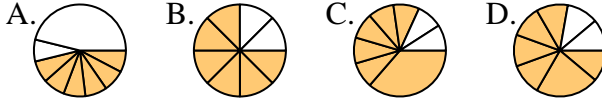
9. **B**

10) ¿Que opción representa mejor $\frac{5}{6}$?



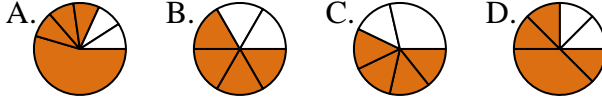
10. **A**

11) ¿Que opción representa mejor $\frac{6}{8}$?



11. **B**

12) ¿Que opción representa mejor $\frac{4}{6}$?



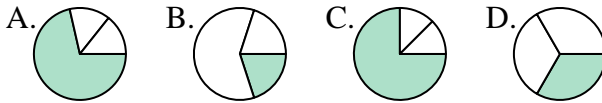
12. **B**



Determina cuál letra mejor representa a cada fracción

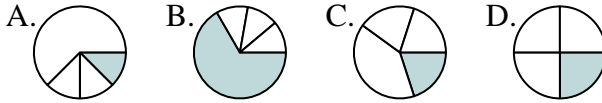
Respuestas

1) ¿Que opción representa mejor $\frac{1}{3}$?



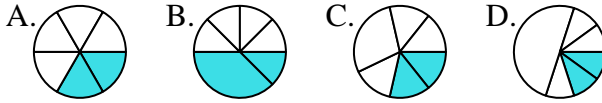
1. _____

2) ¿Que opción representa mejor $\frac{1}{4}$?



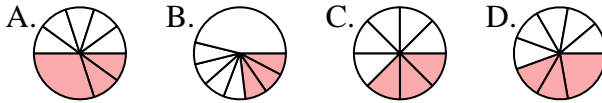
2. _____

3) ¿Que opción representa mejor $\frac{2}{6}$?



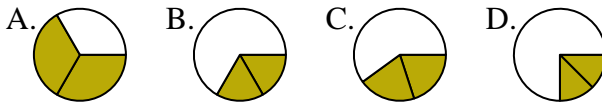
4. _____

4) ¿Que opción representa mejor $\frac{3}{8}$?



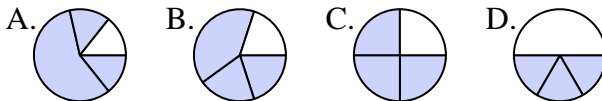
6. _____

5) ¿Que opción representa mejor $\frac{2}{3}$?



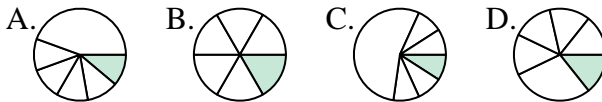
7. _____

6) ¿Que opción representa mejor $\frac{3}{4}$?



9. _____

7) ¿Que opción representa mejor $\frac{1}{6}$?



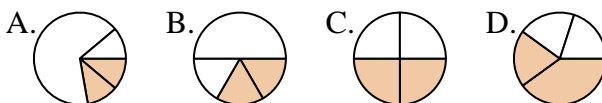
10. _____

8) ¿Que opción representa mejor $\frac{1}{8}$?



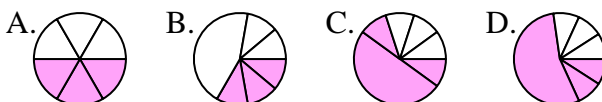
11. _____

9) ¿Que opción representa mejor $\frac{2}{4}$?



12. _____

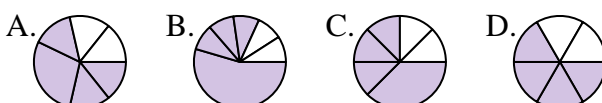
10) ¿Que opción representa mejor $\frac{3}{6}$?



11) ¿Que opción representa mejor $\frac{5}{8}$?



12) ¿Que opción representa mejor $\frac{4}{6}$?

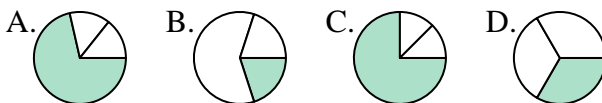




Determina cuál letra mejor representa a cada fracción

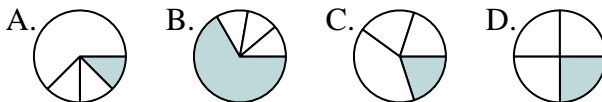
Respuestas

1) ¿Que opción representa mejor $\frac{1}{3}$?



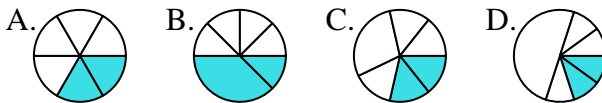
1. **D**

2) ¿Que opción representa mejor $\frac{1}{4}$?



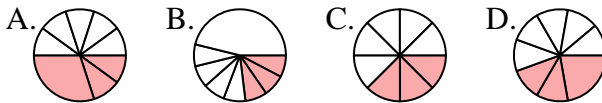
2. **D**

3) ¿Que opción representa mejor $\frac{2}{6}$?



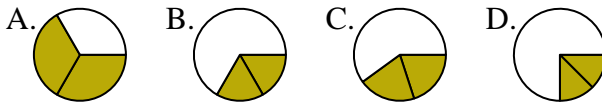
3. **A**

4) ¿Que opción representa mejor $\frac{3}{8}$?



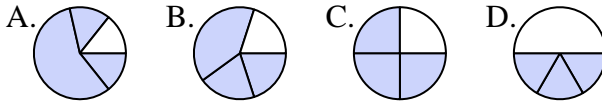
4. **C**

5) ¿Que opción representa mejor $\frac{2}{3}$?



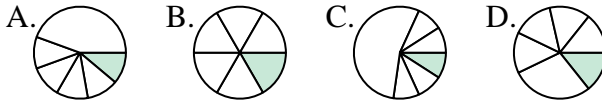
5. **A**

6) ¿Que opción representa mejor $\frac{3}{4}$?



6. **C**

7) ¿Que opción representa mejor $\frac{1}{6}$?



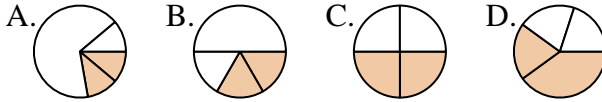
7. **B**

8) ¿Que opción representa mejor $\frac{1}{8}$?



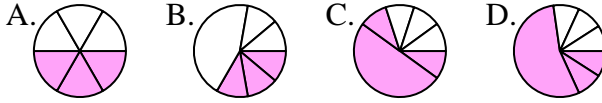
8. **A**

9) ¿Que opción representa mejor $\frac{2}{4}$?



9. **C**

10) ¿Que opción representa mejor $\frac{3}{6}$?



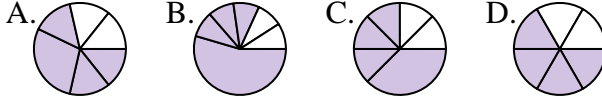
10. **A**

11) ¿Que opción representa mejor $\frac{5}{8}$?



11. **C**

12) ¿Que opción representa mejor $\frac{4}{6}$?



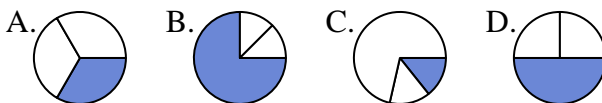
12. **D**



Determina cuál letra mejor representa a cada fracción

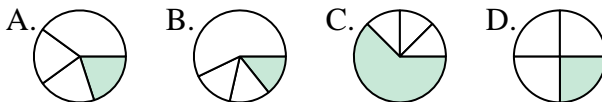
Respuestas

1) ¿Que opción representa mejor $\frac{1}{3}$?



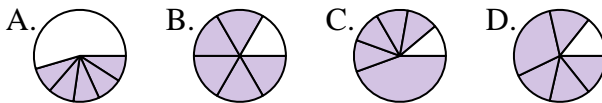
1. _____

2) ¿Que opción representa mejor $\frac{1}{4}$?



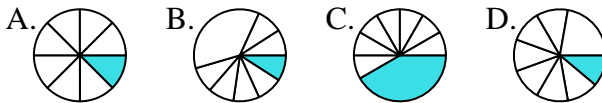
2. _____

3) ¿Que opción representa mejor $\frac{5}{6}$?



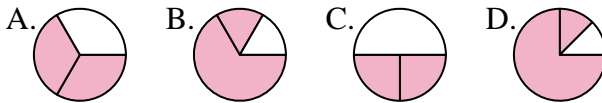
4. _____

4) ¿Que opción representa mejor $\frac{1}{8}$?



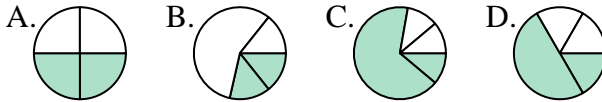
6. _____

5) ¿Que opción representa mejor $\frac{2}{3}$?



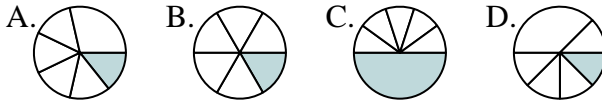
7. _____

6) ¿Que opción representa mejor $\frac{2}{4}$?



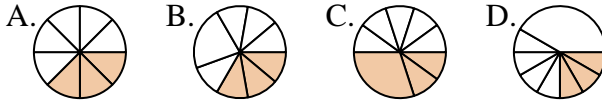
9. _____

7) ¿Que opción representa mejor $\frac{1}{6}$?



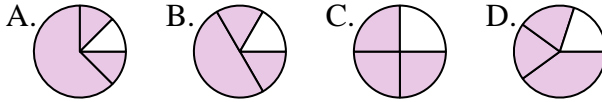
11. _____

8) ¿Que opción representa mejor $\frac{3}{8}$?

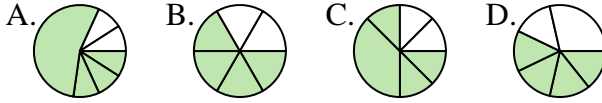


12. _____

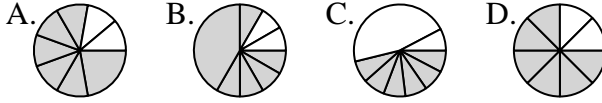
9) ¿Que opción representa mejor $\frac{3}{4}$?



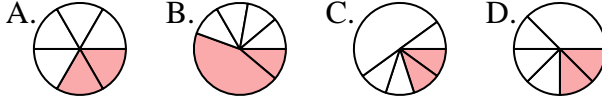
10) ¿Que opción representa mejor $\frac{4}{6}$?



11) ¿Que opción representa mejor $\frac{6}{8}$?



12) ¿Que opción representa mejor $\frac{2}{6}$?

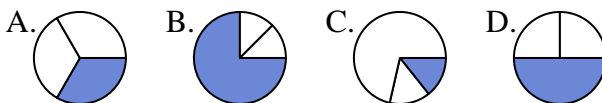




Determina cuál letra mejor representa a cada fracción

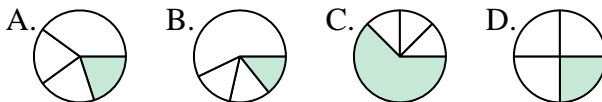
Respuestas

1) ¿Que opción representa mejor $\frac{1}{3}$?



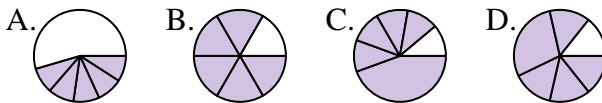
1. **A**

2) ¿Que opción representa mejor $\frac{1}{4}$?



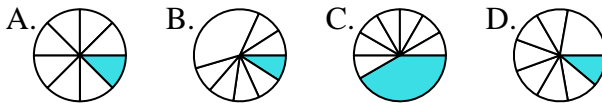
2. **D**

3) ¿Que opción representa mejor $\frac{5}{6}$?



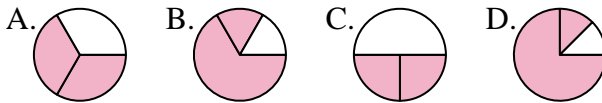
3. **B**

4) ¿Que opción representa mejor $\frac{1}{8}$?



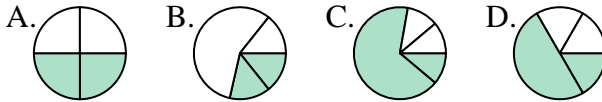
4. **A**

5) ¿Que opción representa mejor $\frac{2}{3}$?



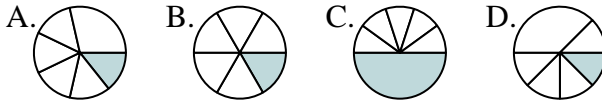
5. **A**

6) ¿Que opción representa mejor $\frac{2}{4}$?



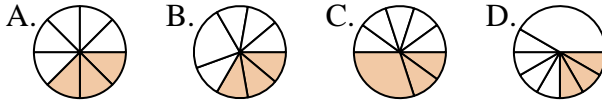
6. **A**

7) ¿Que opción representa mejor $\frac{1}{6}$?



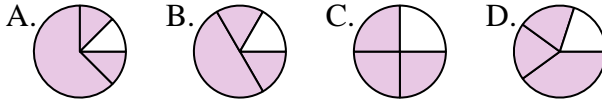
7. **B**

8) ¿Que opción representa mejor $\frac{3}{8}$?



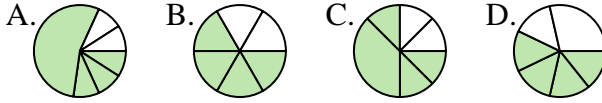
8. **A**

9) ¿Que opción representa mejor $\frac{3}{4}$?



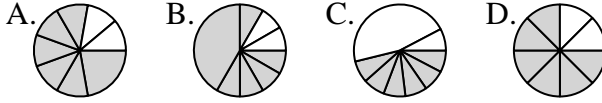
9. **C**

10) ¿Que opción representa mejor $\frac{4}{6}$?



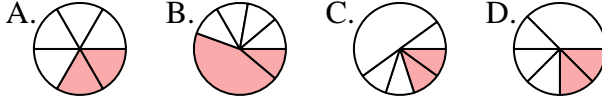
10. **B**

11) ¿Que opción representa mejor $\frac{6}{8}$?



11. **D**

12) ¿Que opción representa mejor $\frac{2}{6}$?



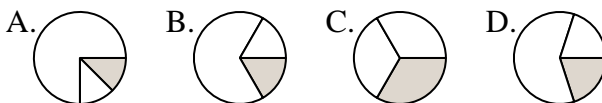
12. **A**



Determina cuál letra mejor representa a cada fracción

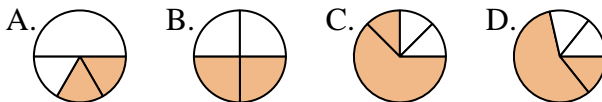
Respuestas

1) ¿Que opción representa mejor $\frac{1}{3}$?



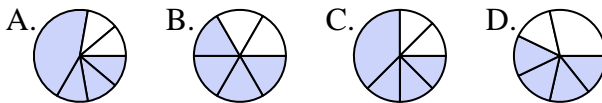
1. _____

2) ¿Que opción representa mejor $\frac{2}{4}$?



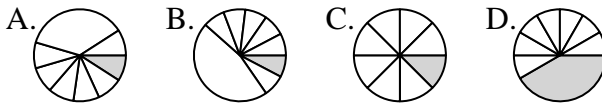
2. _____

3) ¿Que opción representa mejor $\frac{4}{6}$?



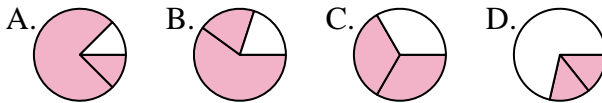
4. _____

4) ¿Que opción representa mejor $\frac{1}{8}$?



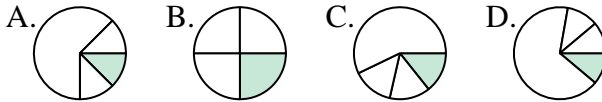
6. _____

5) ¿Que opción representa mejor $\frac{2}{3}$?



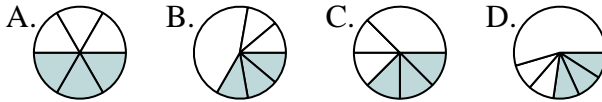
7. _____

6) ¿Que opción representa mejor $\frac{1}{4}$?



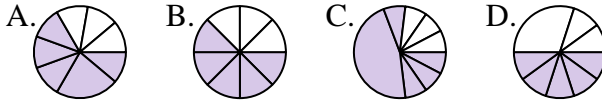
9. _____

7) ¿Que opción representa mejor $\frac{3}{6}$?



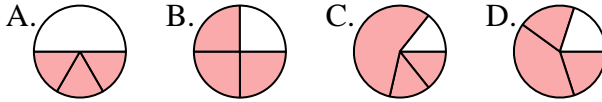
11. _____

8) ¿Que opción representa mejor $\frac{5}{8}$?

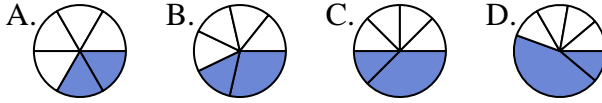


12. _____

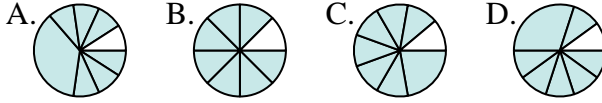
9) ¿Que opción representa mejor $\frac{3}{4}$?



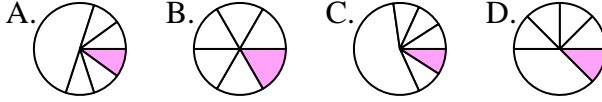
10) ¿Que opción representa mejor $\frac{2}{6}$?



11) ¿Que opción representa mejor $\frac{7}{8}$?



12) ¿Que opción representa mejor $\frac{1}{6}$?

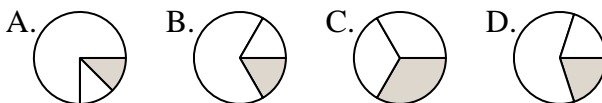




Determina cuál letra mejor representa a cada fracción

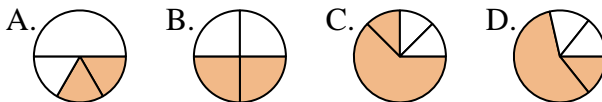
Respuestas

1) ¿Que opción representa mejor $\frac{1}{3}$?



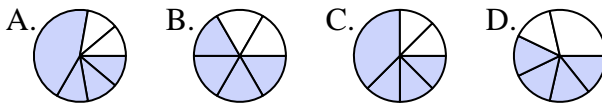
1. **C**

2) ¿Que opción representa mejor $\frac{2}{4}$?



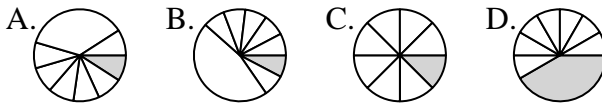
2. **B**

3) ¿Que opción representa mejor $\frac{4}{6}$?



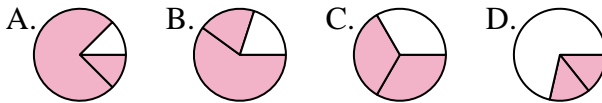
4. **C**

4) ¿Que opción representa mejor $\frac{1}{8}$?



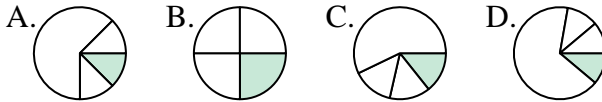
5. **C**

5) ¿Que opción representa mejor $\frac{2}{3}$?



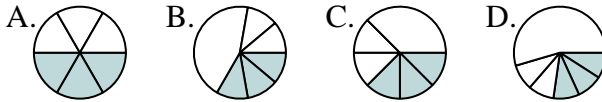
6. **B**

6) ¿Que opción representa mejor $\frac{1}{4}$?



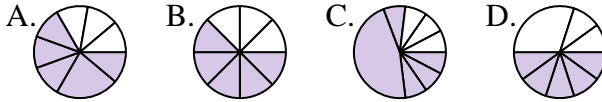
7. **A**

7) ¿Que opción representa mejor $\frac{3}{6}$?



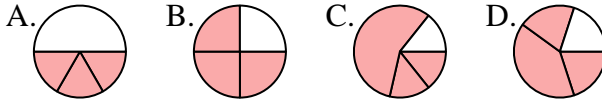
8. **B**

8) ¿Que opción representa mejor $\frac{5}{8}$?



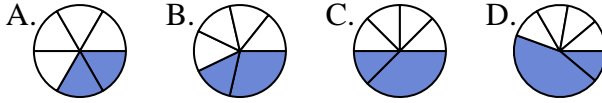
9. **B**

9) ¿Que opción representa mejor $\frac{3}{4}$?



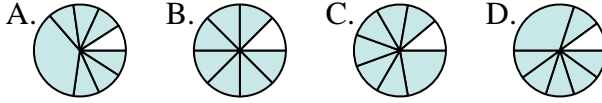
10. **A**

10) ¿Que opción representa mejor $\frac{2}{6}$?



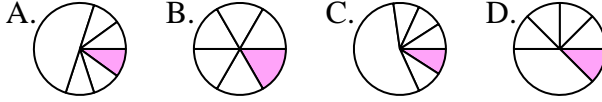
11. **B**

11) ¿Que opción representa mejor $\frac{7}{8}$?



12. **B**

12) ¿Que opción representa mejor $\frac{1}{6}$?

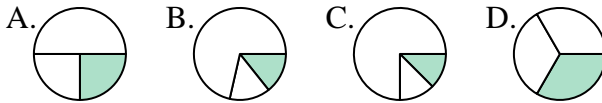




Determina cuál letra mejor representa a cada fracción

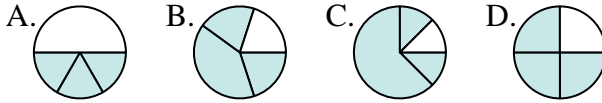
Respuestas

1) ¿Que opción representa mejor $\frac{1}{3}$?



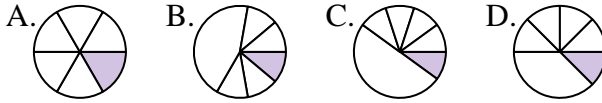
1. _____

2) ¿Que opción representa mejor $\frac{3}{4}$?



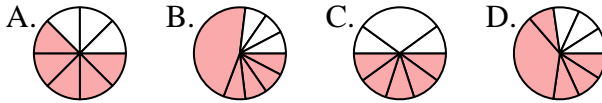
2. _____

3) ¿Que opción representa mejor $\frac{1}{6}$?



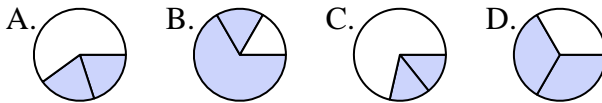
4. _____

4) ¿Que opción representa mejor $\frac{5}{8}$?



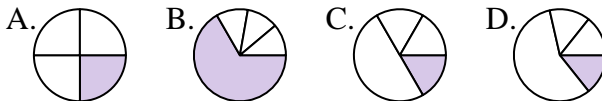
6. _____

5) ¿Que opción representa mejor $\frac{2}{3}$?



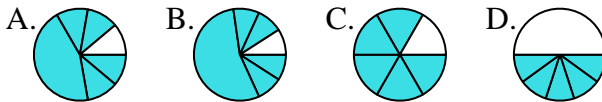
7. _____

6) ¿Que opción representa mejor $\frac{1}{4}$?



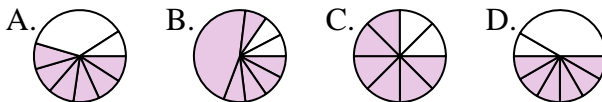
9. _____

7) ¿Que opción representa mejor $\frac{5}{6}$?



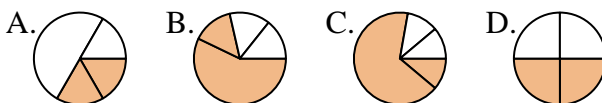
11. _____

8) ¿Que opción representa mejor $\frac{6}{8}$?

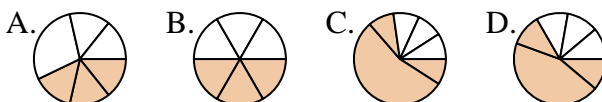


12. _____

9) ¿Que opción representa mejor $\frac{2}{4}$?



10) ¿Que opción representa mejor $\frac{3}{6}$?



11) ¿Que opción representa mejor $\frac{2}{8}$?



12) ¿Que opción representa mejor $\frac{4}{6}$?

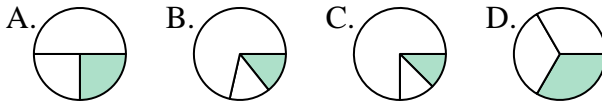




Determina cuál letra mejor representa a cada fracción

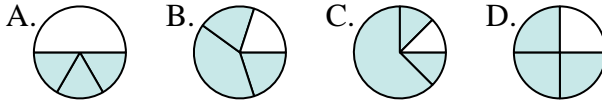
Respuestas

1) ¿Que opción representa mejor $\frac{1}{3}$?



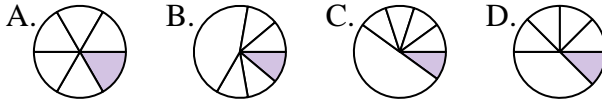
1. **D**

2) ¿Que opción representa mejor $\frac{3}{4}$?



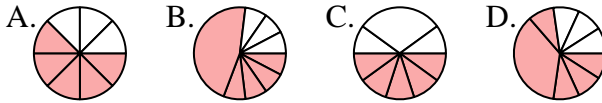
2. **D**

3) ¿Que opción representa mejor $\frac{1}{6}$?



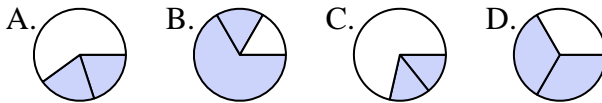
3. **A**

4) ¿Que opción representa mejor $\frac{5}{8}$?



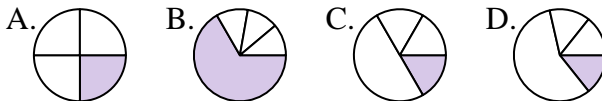
4. **A**

5) ¿Que opción representa mejor $\frac{2}{3}$?



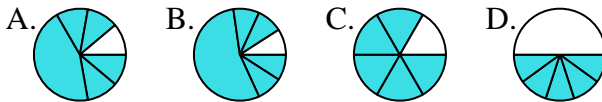
5. **D**

6) ¿Que opción representa mejor $\frac{1}{4}$?



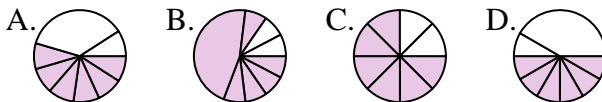
6. **A**

7) ¿Que opción representa mejor $\frac{5}{6}$?



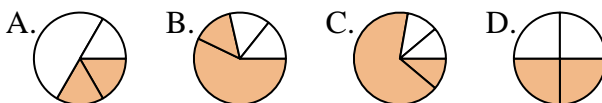
7. **C**

8) ¿Que opción representa mejor $\frac{6}{8}$?



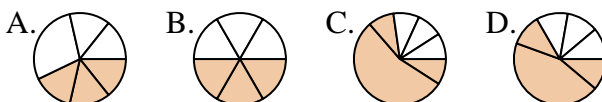
8. **C**

9) ¿Que opción representa mejor $\frac{2}{4}$?



9. **D**

10) ¿Que opción representa mejor $\frac{3}{6}$?



10. **B**

11) ¿Que opción representa mejor $\frac{2}{8}$?



11. **C**

12) ¿Que opción representa mejor $\frac{4}{6}$?



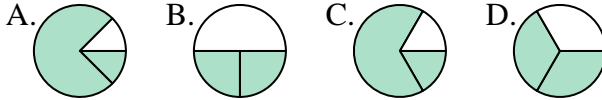
12. **C**



Determina cuál letra mejor representa a cada fracción

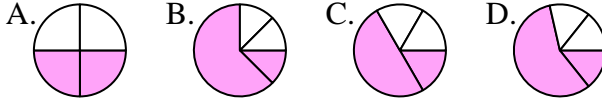
Respuestas

1) ¿Que opción representa mejor $\frac{2}{3}$?



1. _____

2) ¿Que opción representa mejor $\frac{2}{4}$?



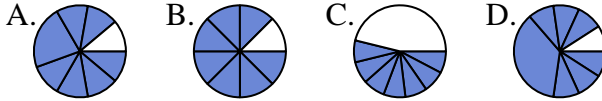
2. _____

3) ¿Que opción representa mejor $\frac{4}{6}$?



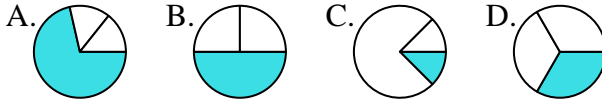
4. _____

4) ¿Que opción representa mejor $\frac{7}{8}$?



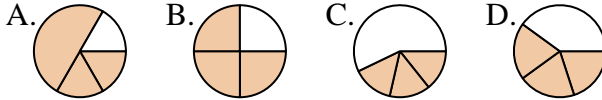
6. _____

5) ¿Que opción representa mejor $\frac{1}{3}$?



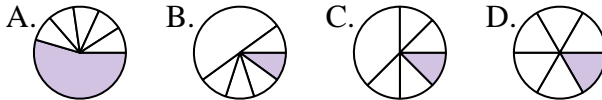
7. _____

6) ¿Que opción representa mejor $\frac{3}{4}$?



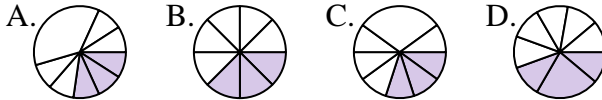
9. _____

7) ¿Que opción representa mejor $\frac{1}{6}$?



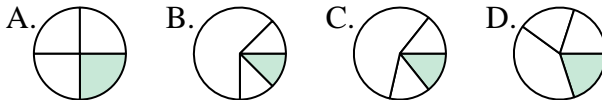
10. _____

8) ¿Que opción representa mejor $\frac{3}{8}$?



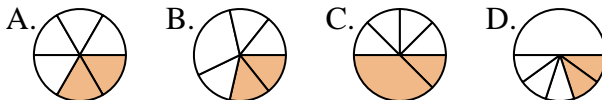
11. _____

9) ¿Que opción representa mejor $\frac{1}{4}$?

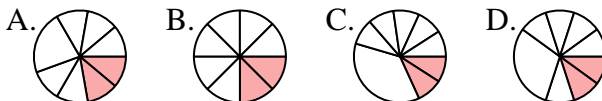


12. _____

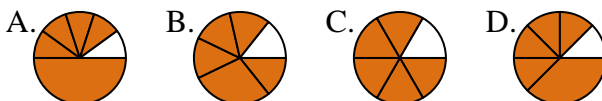
10) ¿Que opción representa mejor $\frac{2}{6}$?



11) ¿Que opción representa mejor $\frac{2}{8}$?



12) ¿Que opción representa mejor $\frac{5}{6}$?

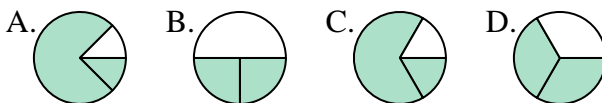




Determina cuál letra mejor representa a cada fracción

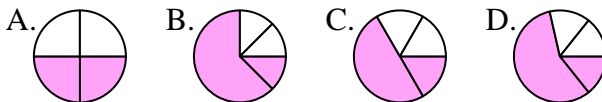
Respuestas

1) ¿Que opción representa mejor $\frac{2}{3}$?



1. **D**

2) ¿Que opción representa mejor $\frac{2}{4}$?



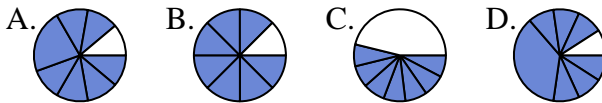
2. **A**

3) ¿Que opción representa mejor $\frac{4}{6}$?



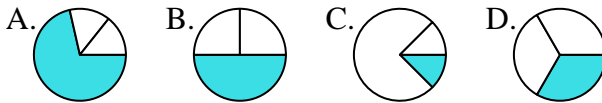
3. **D**

4) ¿Que opción representa mejor $\frac{7}{8}$?



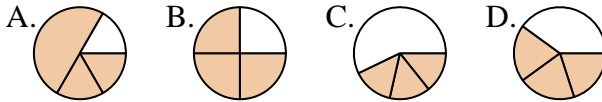
4. **B**

5) ¿Que opción representa mejor $\frac{1}{3}$?



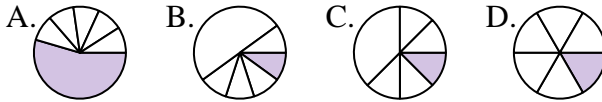
5. **D**

6) ¿Que opción representa mejor $\frac{3}{4}$?



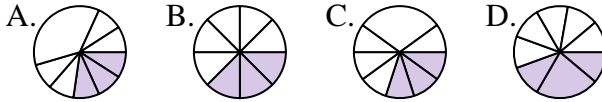
6. **B**

7) ¿Que opción representa mejor $\frac{1}{6}$?



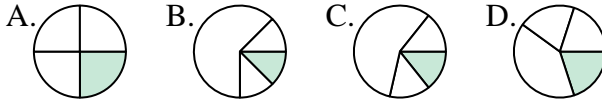
7. **D**

8) ¿Que opción representa mejor $\frac{3}{8}$?



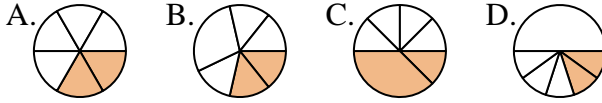
8. **B**

9) ¿Que opción representa mejor $\frac{1}{4}$?



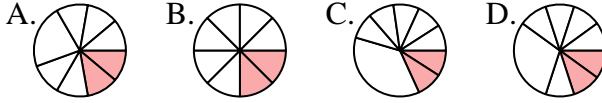
9. **A**

10) ¿Que opción representa mejor $\frac{2}{6}$?



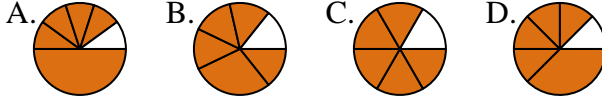
10. **A**

11) ¿Que opción representa mejor $\frac{2}{8}$?



11. **B**

12) ¿Que opción representa mejor $\frac{5}{6}$?



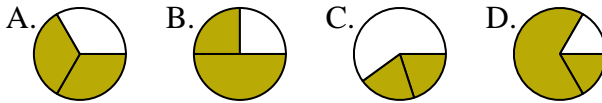
12. **C**



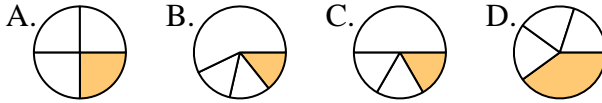
Determina cuál letra mejor representa a cada fracción

Respuestas

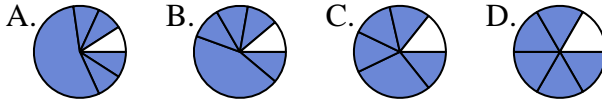
1) ¿Que opción representa mejor $\frac{2}{3}$?



2) ¿Que opción representa mejor $\frac{1}{4}$?



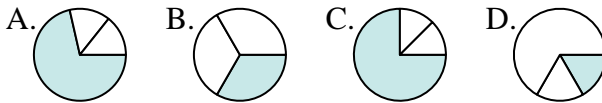
3) ¿Que opción representa mejor $\frac{5}{6}$?



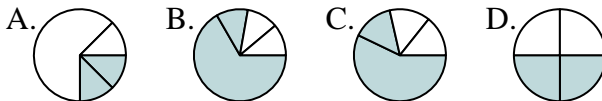
4) ¿Que opción representa mejor $\frac{3}{8}$?



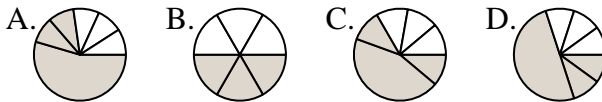
5) ¿Que opción representa mejor $\frac{1}{3}$?



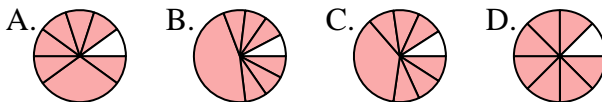
6) ¿Que opción representa mejor $\frac{2}{4}$?



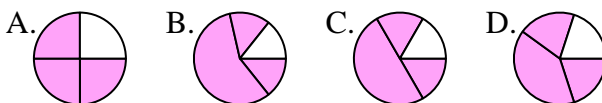
7) ¿Que opción representa mejor $\frac{3}{6}$?



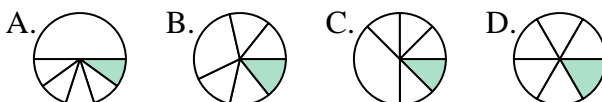
8) ¿Que opción representa mejor $\frac{7}{8}$?



9) ¿Que opción representa mejor $\frac{3}{4}$?



10) ¿Que opción representa mejor $\frac{1}{6}$?



11) ¿Que opción representa mejor $\frac{2}{8}$?



12) ¿Que opción representa mejor $\frac{2}{6}$?



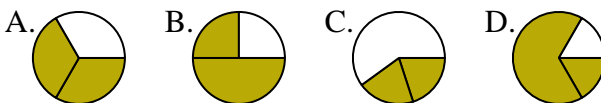
- 1. _____
- 2. _____
- 3. _____
- 4. _____
- 5. _____
- 6. _____
- 7. _____
- 8. _____
- 9. _____
- 10. _____
- 11. _____
- 12. _____



Determina cuál letra mejor representa a cada fracción

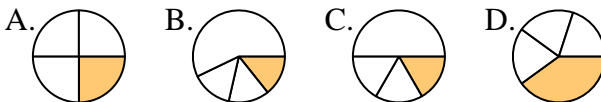
Respuestas

1) ¿Que opción representa mejor $\frac{2}{3}$?



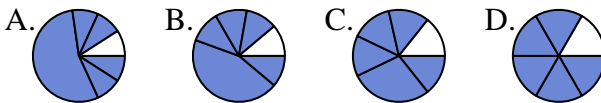
1. **A**

2) ¿Que opción representa mejor $\frac{1}{4}$?



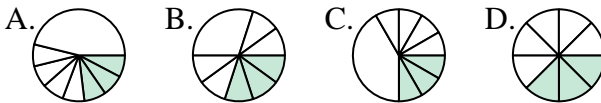
2. **A**

3) ¿Que opción representa mejor $\frac{5}{6}$?



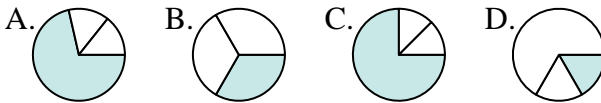
3. **D**

4) ¿Que opción representa mejor $\frac{3}{8}$?



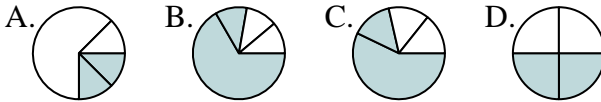
4. **D**

5) ¿Que opción representa mejor $\frac{1}{3}$?



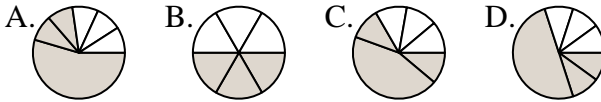
5. **B**

6) ¿Que opción representa mejor $\frac{2}{4}$?



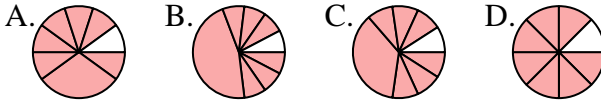
6. **D**

7) ¿Que opción representa mejor $\frac{3}{6}$?



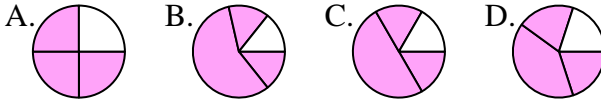
7. **B**

8) ¿Que opción representa mejor $\frac{7}{8}$?



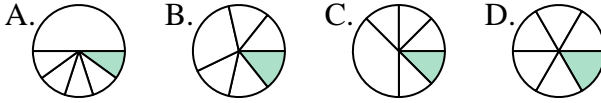
8. **D**

9) ¿Que opción representa mejor $\frac{3}{4}$?



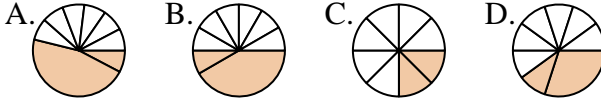
9. **A**

10) ¿Que opción representa mejor $\frac{1}{6}$?



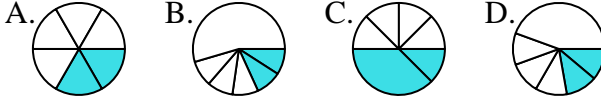
10. **D**

11) ¿Que opción representa mejor $\frac{2}{8}$?



11. **C**

12) ¿Que opción representa mejor $\frac{2}{6}$?



12. **A**