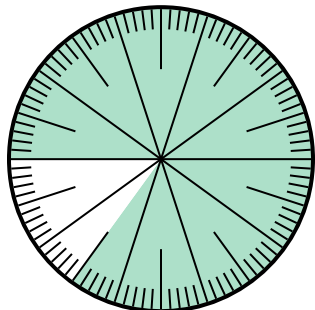




Resuelve cada problema.

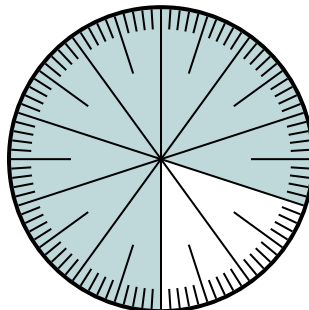
**Respuestas**

1) ¿Qué opción representa la parte sombreada de la rueda numérica?



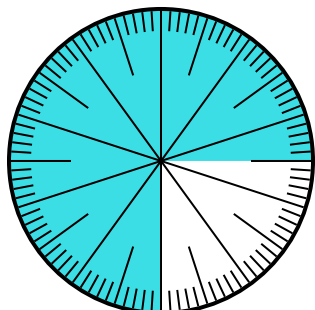
- A. 0.85                      B. 8.5  
C. 85                          D. 0.085

2) ¿Qué opción representa la parte no sombreada de la rueda numérica?



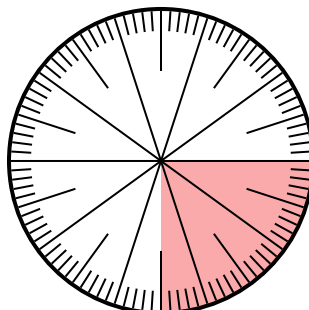
- A.  $\frac{2}{100}$                       B.  $\frac{20}{100}$   
C.  $\frac{2.00}{100}$                   D.  $\frac{80}{20}$

3) ¿Qué opción representa la parte no sombreada de la rueda numérica?



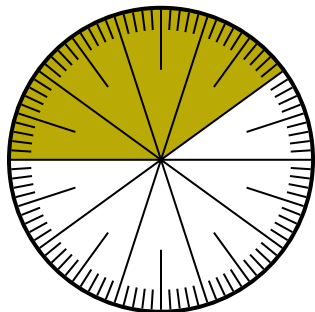
- A. 0.025                      B. 0.25  
C. 0.0075                      D. 2.50

4) ¿Qué opción representa la parte sombreada de la rueda numérica?



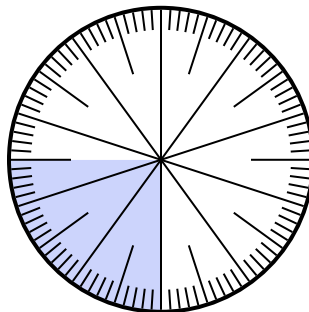
- A.  $\frac{0.25}{100}$                       B.  $\frac{25}{100}$   
C. 0.025                      D. 25

5) ¿Qué opción representa la parte sombreada de la rueda numérica?



- A.  $\frac{40}{60}$                       B.  $\frac{60}{40}$   
C.  $\frac{40}{100}$                       D.  $\frac{4}{100}$

6) ¿Qué opción representa la parte sombreada de la rueda numérica?




- A. 0.0075                      B.  $\frac{2.50}{100}$   
C. 0.025                      D. 0.25

1. \_\_\_\_\_  
2. \_\_\_\_\_  
3. \_\_\_\_\_  
4. \_\_\_\_\_  
5. \_\_\_\_\_  
6. \_\_\_\_\_



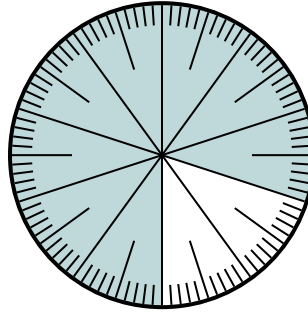
Resuelve cada problema.

1) ¿Qué opción representa la parte sombreada de la rueda numérica?



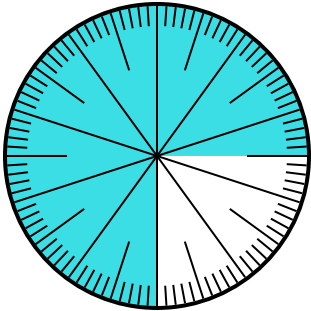
- A. 0.85                      B. 8.5  
C. 85                          D. 0.085

2) ¿Qué opción representa la parte no sombreada de la rueda numérica?



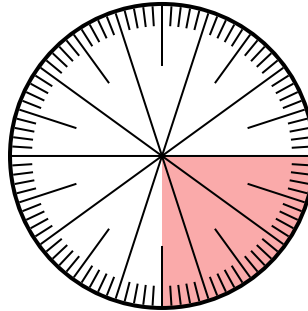
- A.  $\frac{2}{100}$                       B.  $\frac{20}{100}$   
C.  $\frac{2.00}{100}$                   D.  $\frac{80}{20}$

3) ¿Qué opción representa la parte no sombreada de la rueda numérica?



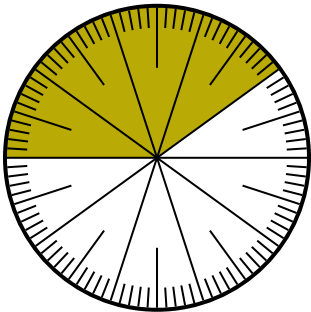
- A. 0.025                      B. 0.25  
C. 0.0075                      D. 2.50

4) ¿Qué opción representa la parte sombreada de la rueda numérica?



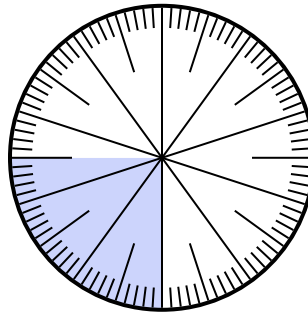
- A.  $\frac{0.25}{100}$                       B.  $\frac{25}{100}$   
C. 0.025                      D. 25

5) ¿Qué opción representa la parte sombreada de la rueda numérica?



- A.  $\frac{40}{60}$                       B.  $\frac{60}{40}$   
C.  $\frac{40}{100}$                       D.  $\frac{4}{100}$

6) ¿Qué opción representa la parte sombreada de la rueda numérica?



- A. 0.0075                      B.  $\frac{2.50}{100}$   
C. 0.025                      D. 0.25

**Respuestas**

1.     **A**      
2.     **B**      
3.     **B**      
4.     **B**      
5.     **C**      
6.     **D**