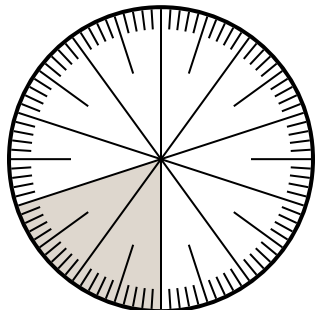




Resuelve cada problema.

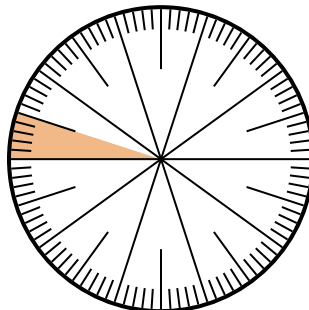
Respuestas

1) ¿Qué opción representa la parte sombreada de la rueda numérica?



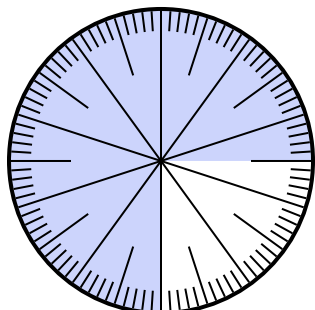
- A. $\frac{80}{20}$ B. 0.20
C. $\frac{20}{10}$ D. $\frac{0.2}{100}$

2) ¿Qué opción representa la parte sombreada de la rueda numérica?



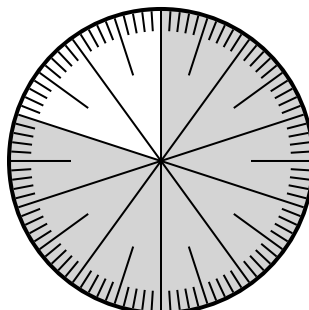
- A. $\frac{0.05}{100}$ B. 0.05
C. $\frac{5}{95}$ D. $\frac{9.5}{100}$

3) ¿Qué opción representa la parte no sombreada de la rueda numérica?



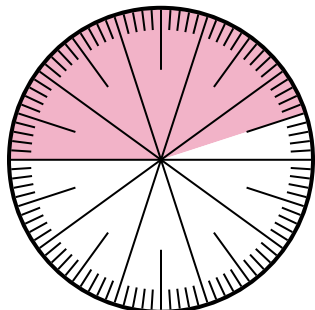
- A. 2.50 B. $\frac{25}{100}$
C. 25 D. 2.5

4) ¿Qué opción representa la parte sombreada de la rueda numérica?



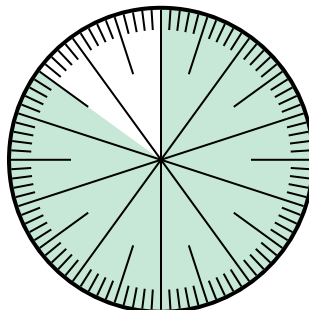
- A. $\frac{80}{20}$ B. $\frac{8.00}{100}$
C. $\frac{80}{100}$ D. 8.00

5) ¿Qué opción representa la parte sombreada de la rueda numérica?



- A. 55.0 B. 45
C. 4.5 D. 0.45

6) ¿Qué opción representa la parte no sombreada de la rueda numérica?



- A. $\frac{1.5}{100}$ B. $\frac{15}{100}$
C. 1.50 D. 1.5


1. _____
2. _____
3. _____
4. _____
5. _____
6. _____



Resuelve cada problema.

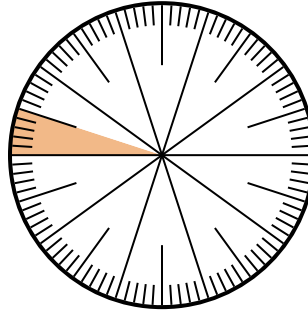
Respuestas

1) ¿Qué opción representa la parte sombreada de la rueda numérica?



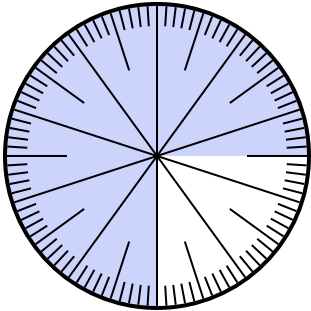
- A. $\frac{80}{20}$ B. 0.20
C. $\frac{20}{10}$ D. $\frac{0.2}{100}$

2) ¿Qué opción representa la parte sombreada de la rueda numérica?



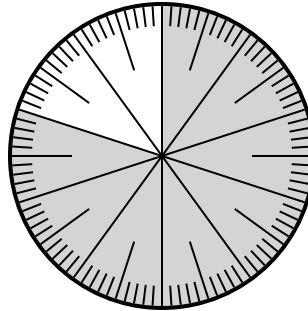
- A. $\frac{0.05}{100}$ B. 0.05
C. $\frac{5}{95}$ D. $\frac{9.5}{100}$

3) ¿Qué opción representa la parte no sombreada de la rueda numérica?



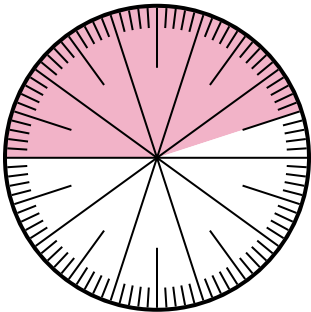
- A. 2.50 B. $\frac{25}{100}$
C. 25 D. 2.5

4) ¿Qué opción representa la parte sombreada de la rueda numérica?



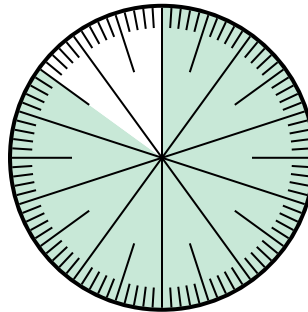
- A. $\frac{80}{20}$ B. $\frac{8.00}{100}$
C. $\frac{80}{100}$ D. 8.00

5) ¿Qué opción representa la parte sombreada de la rueda numérica?



- A. 55.0 B. 45
C. 4.5 D. 0.45

6) ¿Qué opción representa la parte no sombreada de la rueda numérica?



- A. $\frac{1.5}{100}$ B. $\frac{15}{100}$
C. 1.50 D. 1.5

1. **B**
2. **B**
3. **B**
4. **C**
5. **D**
6. **B**