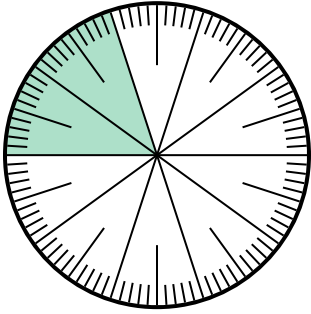




Resuelve cada problema.

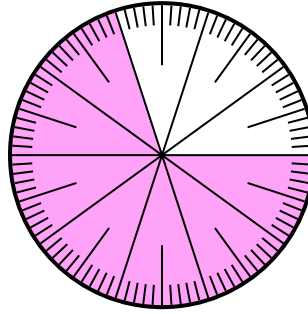
**Respuestas**

- 1) ¿Qué opción representa la parte no sombreada de la rueda numérica?



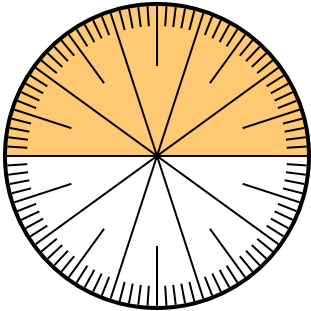
- A.  $\frac{0.8}{100}$       B. 0.8  
C. 8                  D.  $\frac{80}{20}$

- 2) ¿Qué opción representa la parte no sombreada de la rueda numérica?



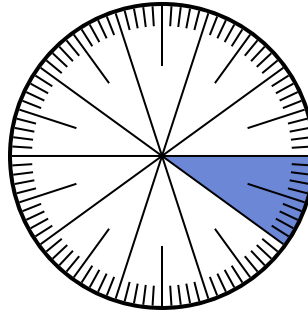
- A. 0.30                  B. 70  
C. 0.070                D.  $\frac{70}{30}$

- 3) ¿Qué opción representa la parte no sombreada de la rueda numérica?



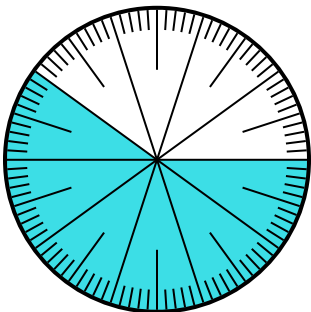
- A. 5.00                  B.  $\frac{5}{100}$   
C.  $\frac{5}{100}$                 D. 0.5

- 4) ¿Qué opción representa la parte sombreada de la rueda numérica?



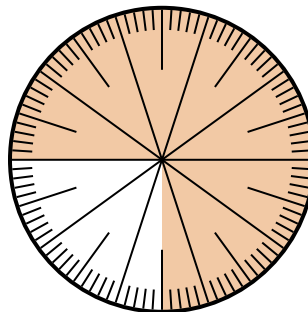
- A. 0.10                  B. 1  
C.  $\frac{1}{100}$                 D.  $\frac{0.9}{100}$

- 5) ¿Qué opción representa la parte no sombreada de la rueda numérica?



- A. 4.00                  B. 0.40  
C.  $\frac{40}{60}$                 D.  $\frac{4.00}{100}$

- 6) ¿Qué opción representa la parte sombreada de la rueda numérica?



- A.  $\frac{75}{25}$                   B. 0.075  
C.  $\frac{75}{100}$                 D. 7.50

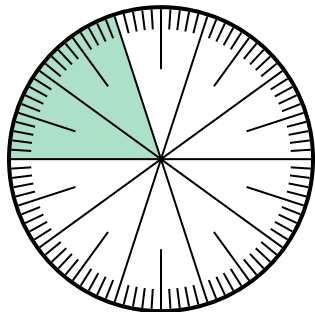
1. \_\_\_\_\_  
2. \_\_\_\_\_  
3. \_\_\_\_\_  
4. \_\_\_\_\_  
5. \_\_\_\_\_  
6. \_\_\_\_\_



Resuelve cada problema.

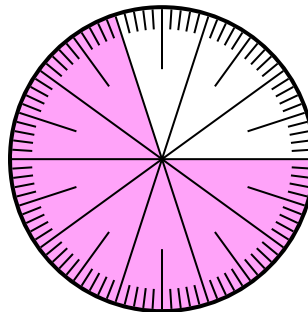
Respuestas

- 1) ¿Qué opción representa la parte no sombreada de la rueda numérica?



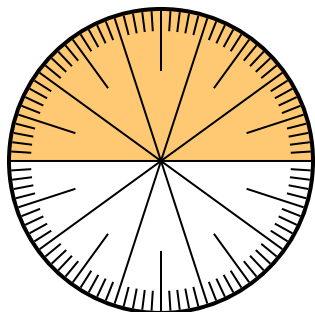
- A.  $\frac{0.8}{100}$       B. 0.8  
C. 8                  D.  $\frac{80}{20}$

- 2) ¿Qué opción representa la parte no sombreada de la rueda numérica?



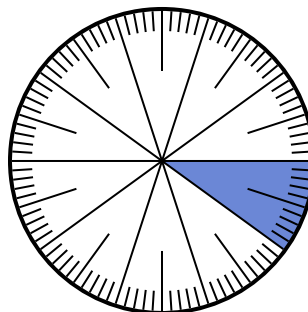
- A. 0.30                  B. 70  
C. 0.070                D.  $\frac{70}{30}$

- 3) ¿Qué opción representa la parte no sombreada de la rueda numérica?



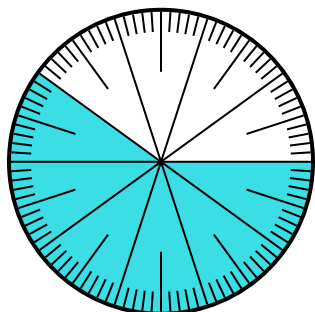
- A. 5.00                  B.  $\frac{5}{100}$   
C.  $\frac{5}{100}$                 D. 0.5

- 4) ¿Qué opción representa la parte sombreada de la rueda numérica?



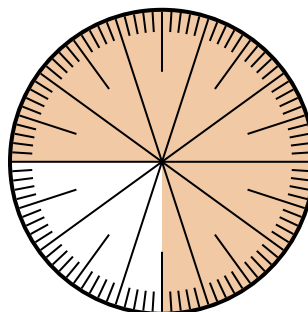
- A. 0.10                  B. 1  
C.  $\frac{1}{100}$                 D.  $\frac{0.9}{100}$

- 5) ¿Qué opción representa la parte no sombreada de la rueda numérica?



- A. 4.00                  B. 0.40  
C.  $\frac{40}{60}$                 D.  $\frac{4.00}{100}$

- 6) ¿Qué opción representa la parte sombreada de la rueda numérica?



- A.  $\frac{75}{25}$                   B. 0.075  
C.  $\frac{75}{100}$                 D. 7.50

1.     **B**      
2.     **A**      
3.     **D**      
4.     **A**      
5.     **B**      
6.     **C**