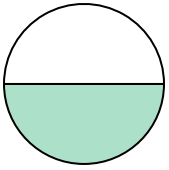




Determina cuál letra mejor describe a la porción sombreada.


Respuestas

1)



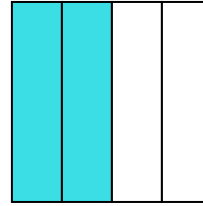
- A. una mitad
- B. dos mitades
- C. cuatro cuartos

2)



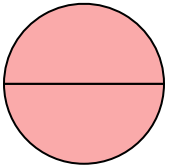
- A. dos mitades
- B. una mitad
- C. un cuarto

3)



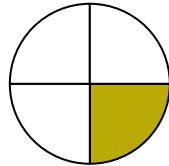
- A. tres cuartos
- B. un cuarto
- C. dos cuartos

4)



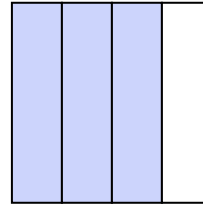
- A. dos mitades
- B. tres cuartos
- C. un cuarto

5)



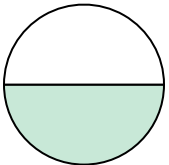
- A. tres cuartos
- B. un cuarto
- C. dos cuartos

6)



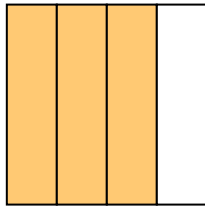
- A. tres cuartos
- B. tres cuartos
- C. una mitad

7)



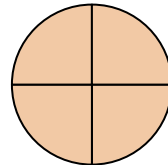
- A. dos cuartos
- B. dos mitades
- C. una mitad

8)



- A. tres cuartos
- B. un cuarto
- C. dos mitades

9)



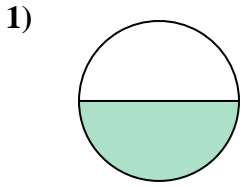
- A. dos mitades
- B. tres cuartos
- C. tres cuartos

- 1. _____
- 2. _____
- 3. _____
- 4. _____
- 5. _____
- 6. _____
- 7. _____
- 8. _____
- 9. _____

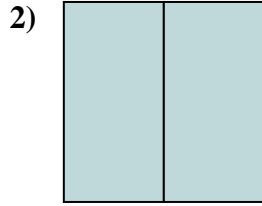


Determina cuál letra mejor describe a la porción sombreada.

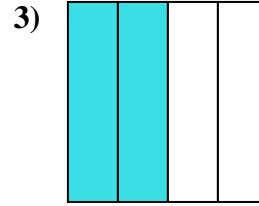
Respuestas



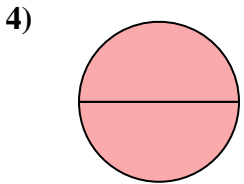
- A. una mitad
- B. dos mitades
- C. cuatro cuartos



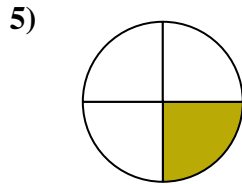
- A. dos mitades
- B. una mitad
- C. un cuarto



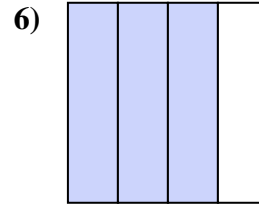
- A. tres cuartos
- B. un cuarto
- C. dos cuartos



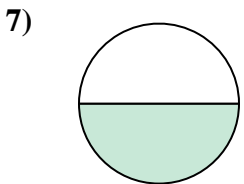
- A. dos mitades
- B. tres cuartos
- C. un cuarto



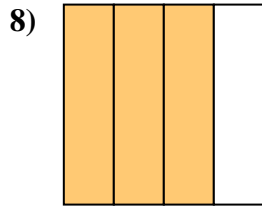
- A. tres cuartos
- B. un cuarto
- C. dos cuartos



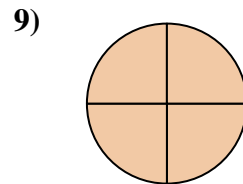
- A. tres cuartos
- B. tres cuartos
- C. una mitad



- A. dos cuartos
- B. dos mitades
- C. una mitad



- A. tres cuartos
- B. un cuarto
- C. dos mitades



- A. dos mitades
- B. tres cuartos
- C. tres cuartos

- 1. **A**
- 2. **A**
- 3. **C**
- 4. **A**
- 5. **B**
- 6. **A**
- 7. **C**
- 8. **A**
- 9. **C**