

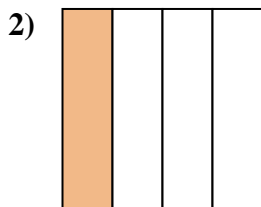


Determina cuál letra mejor describe a la porción sombreada.

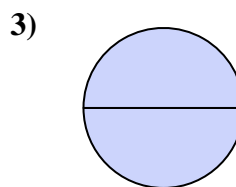
Respuestas



- A. un cuarto
- B. tres cuartos
- C. una mitad



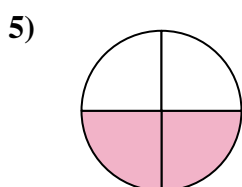
- A. una mitad
- B. un cuarto
- C. dos mitades



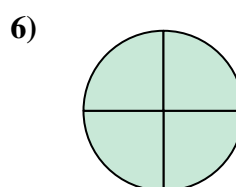
- A. una mitad
- B. un cuarto
- C. dos mitades



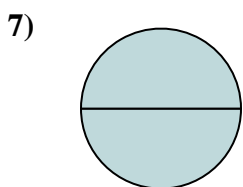
- A. dos mitades
- B. tres cuartos
- C. una mitad



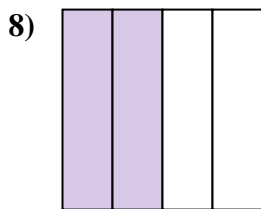
- A. dos cuartos
- B. tres cuartos
- C. dos mitades



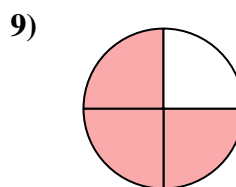
- A. dos cuartos
- B. tres cuartos
- C. una mitad



- A. un cuarto
- B. dos mitades
- C. tres cuartos



- A. cuatro cuartos
- B. dos cuartos
- C. dos mitades



- A. dos mitades
- B. tres cuartos
- C. dos cuartos

1. _____

2. _____

3. _____

4. _____

5. _____

6. _____

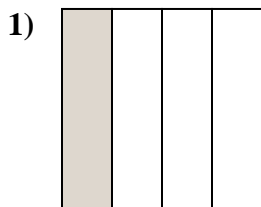
7. _____

8. _____

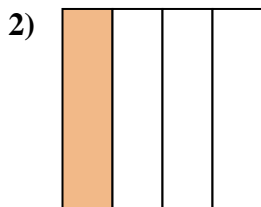
9. _____



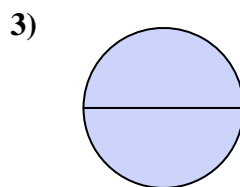
Determina cuál letra mejor describe a la porción sombreada.



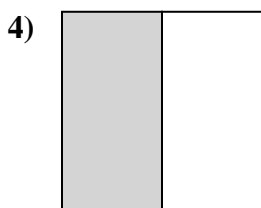
- A. un cuarto
- B. tres cuartos
- C. una mitad



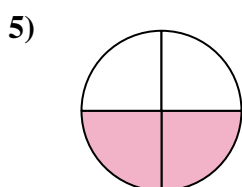
- A. una mitad
- B. un cuarto
- C. dos mitades



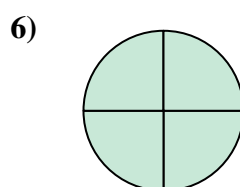
- A. una mitad
- B. un cuarto
- C. dos mitades



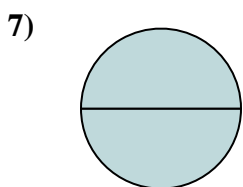
- A. dos mitades
- B. tres cuartos
- C. una mitad



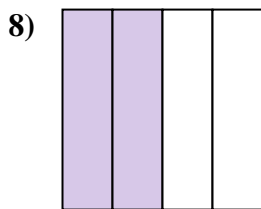
- A. dos cuartos
- B. tres cuartos
- C. dos mitades



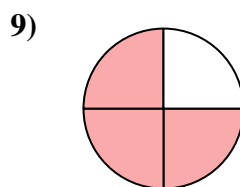
- A. dos cuartos
- B. tres cuartos
- C. una mitad



- A. un cuarto
- B. dos mitades
- C. tres cuartos



- A. cuatro cuartos
- B. dos cuartos
- C. dos mitades



- A. dos mitades
- B. tres cuartos
- C. dos cuartos

Respuestas

1. **A**

2. **B**

3. **C**

4. **C**

5. **A**

6. **B**

7. **B**

8. **B**

9. **B**