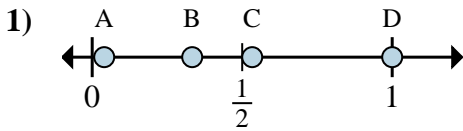




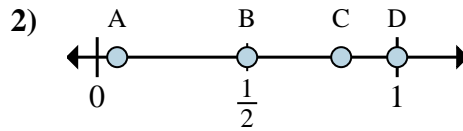
**Determina cuál letra mejor muestra la ubicación de la fracción.**

**Respuestas**



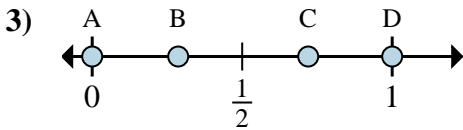
a. ¿Qué letra representa mejor  $\frac{1}{3}$

b. ¿Qué letra representa mejor  $\frac{3}{3}$



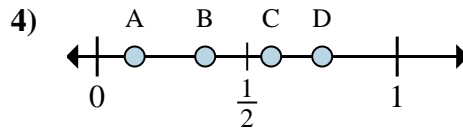
a. ¿Qué letra representa mejor  $\frac{1}{2}$

b. ¿Qué letra representa mejor  $\frac{2}{2}$



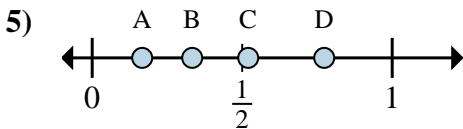
a. ¿Qué letra representa mejor  $\frac{0}{6}$

b. ¿Qué letra representa mejor  $\frac{6}{6}$



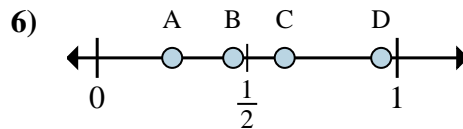
a. ¿Qué letra representa mejor  $\frac{1}{8}$

b. ¿Qué letra representa mejor  $\frac{6}{8}$



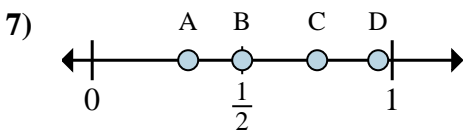
a. ¿Qué letra representa mejor  $\frac{2}{6}$

b. ¿Qué letra representa mejor  $\frac{1}{6}$



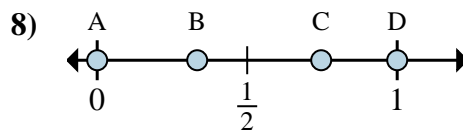
a. ¿Qué letra representa mejor  $\frac{5}{8}$

b. ¿Qué letra representa mejor  $\frac{2}{8}$



a. ¿Qué letra representa mejor  $\frac{3}{4}$

b. ¿Qué letra representa mejor  $\frac{2}{4}$



a. ¿Qué letra representa mejor  $\frac{0}{6}$

b. ¿Qué letra representa mejor  $\frac{6}{6}$

1. \_\_\_\_\_

2. \_\_\_\_\_

3. \_\_\_\_\_

4. \_\_\_\_\_

5. \_\_\_\_\_

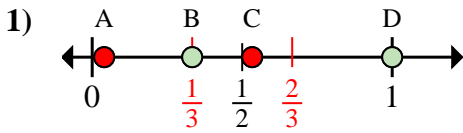
6. \_\_\_\_\_

7. \_\_\_\_\_

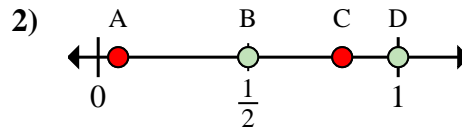
8. \_\_\_\_\_



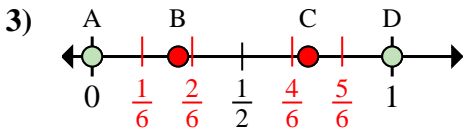
Determina cuál letra mejor muestra la ubicación de la fracción.

**Respuestas**

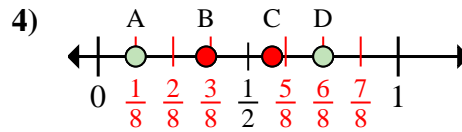
- a. ¿Qué letra representa mejor  $\frac{1}{3}$   
 b. ¿Qué letra representa mejor  $\frac{3}{3}$



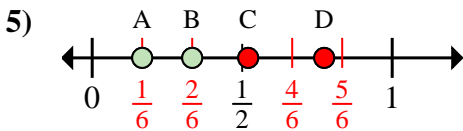
- a. ¿Qué letra representa mejor  $\frac{1}{2}$   
 b. ¿Qué letra representa mejor  $\frac{2}{2}$



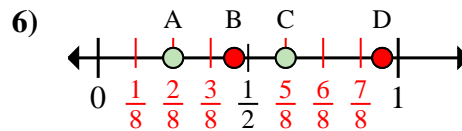
- a. ¿Qué letra representa mejor  $\frac{0}{6}$   
 b. ¿Qué letra representa mejor  $\frac{6}{6}$



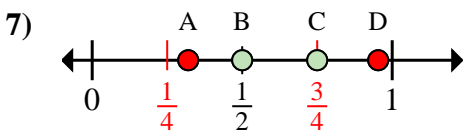
- a. ¿Qué letra representa mejor  $\frac{1}{8}$   
 b. ¿Qué letra representa mejor  $\frac{6}{8}$



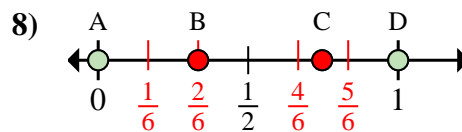
- a. ¿Qué letra representa mejor  $\frac{2}{6}$   
 b. ¿Qué letra representa mejor  $\frac{1}{6}$



- a. ¿Qué letra representa mejor  $\frac{5}{8}$   
 b. ¿Qué letra representa mejor  $\frac{2}{8}$



- a. ¿Qué letra representa mejor  $\frac{3}{4}$   
 b. ¿Qué letra representa mejor  $\frac{2}{4}$



- a. ¿Qué letra representa mejor  $\frac{0}{6}$   
 b. ¿Qué letra representa mejor  $\frac{6}{6}$

1. B D2. B D3. A D4. A D5. B A6. C A7. C B8. A D