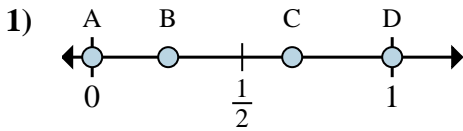
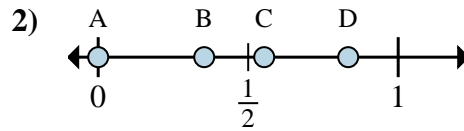
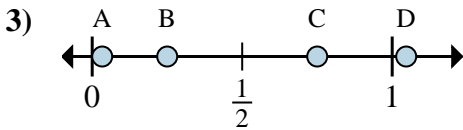
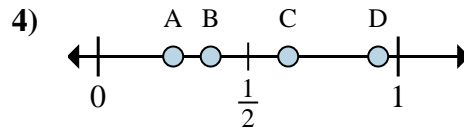
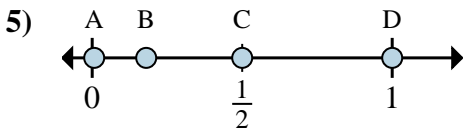
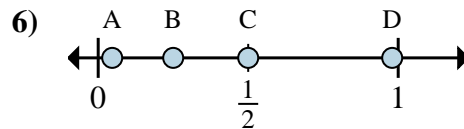
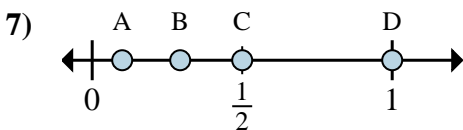
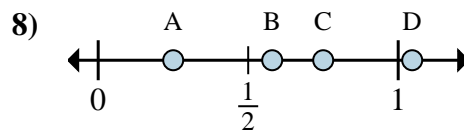


**Determina cuál letra mejor muestra la ubicación de la fracción.****Respuestas**a. ¿Qué letra representa mejor $\frac{0}{3}$ b. ¿Qué letra representa mejor $\frac{2}{3}$ a. ¿Qué letra representa mejor $\frac{0}{6}$ b. ¿Qué letra representa mejor $\frac{5}{6}$ a. ¿Qué letra representa mejor $\frac{3}{4}$ b. ¿Qué letra representa mejor $\frac{1}{4}$ a. ¿Qué letra representa mejor $\frac{2}{8}$ b. ¿Qué letra representa mejor $\frac{3}{8}$ a. ¿Qué letra representa mejor $\frac{2}{4}$ b. ¿Qué letra representa mejor $\frac{4}{4}$ a. ¿Qué letra representa mejor $\frac{1}{4}$ b. ¿Qué letra representa mejor $\frac{2}{4}$ a. ¿Qué letra representa mejor $\frac{1}{2}$ b. ¿Qué letra representa mejor $\frac{2}{2}$ a. ¿Qué letra representa mejor $\frac{1}{4}$ b. ¿Qué letra representa mejor $\frac{3}{4}$

1. _____

2. _____

3. _____

4. _____

5. _____

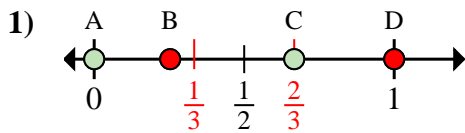
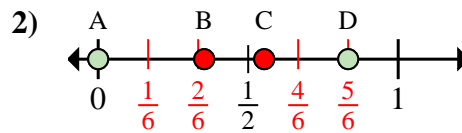
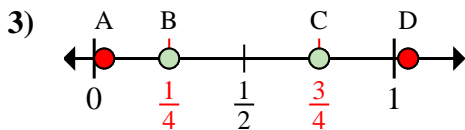
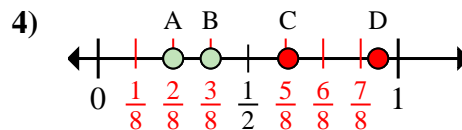
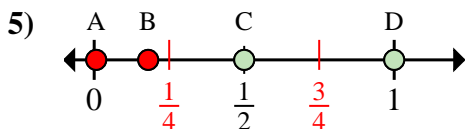
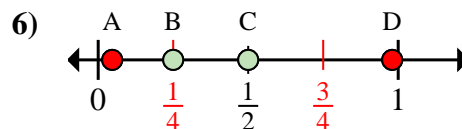
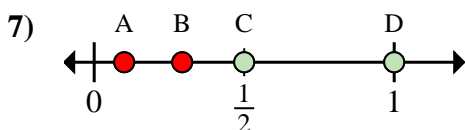
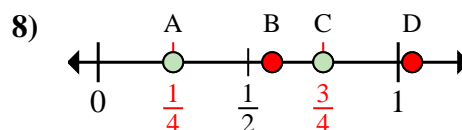
6. _____

7. _____

8. _____



Determina cuál letra mejor muestra la ubicación de la fracción.

Respuestasa. ¿Qué letra representa mejor $\frac{0}{3}$ b. ¿Qué letra representa mejor $\frac{2}{3}$ a. ¿Qué letra representa mejor $\frac{0}{6}$ b. ¿Qué letra representa mejor $\frac{5}{6}$ a. ¿Qué letra representa mejor $\frac{3}{4}$ b. ¿Qué letra representa mejor $\frac{1}{4}$ a. ¿Qué letra representa mejor $\frac{2}{8}$ b. ¿Qué letra representa mejor $\frac{3}{8}$ a. ¿Qué letra representa mejor $\frac{2}{4}$ b. ¿Qué letra representa mejor $\frac{4}{4}$ a. ¿Qué letra representa mejor $\frac{1}{4}$ b. ¿Qué letra representa mejor $\frac{2}{4}$ a. ¿Qué letra representa mejor $\frac{1}{2}$ b. ¿Qué letra representa mejor $\frac{2}{2}$ a. ¿Qué letra representa mejor $\frac{1}{4}$ b. ¿Qué letra representa mejor $\frac{3}{4}$ 1. A C2. A D3. C B4. A B5. C D6. B C7. C D8. A C