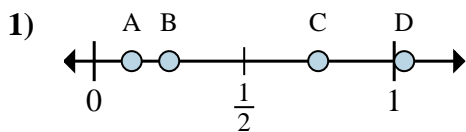




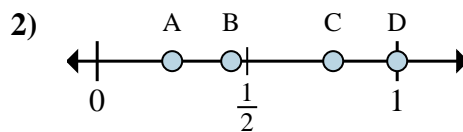
**Determina cuál letra mejor muestra la ubicación de la fracción.**

**Respuestas**



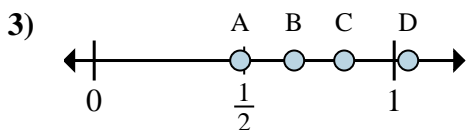
a. ¿Qué letra representa mejor  $\frac{1}{8}$

b. ¿Qué letra representa mejor  $\frac{2}{8}$



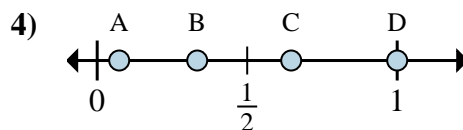
a. ¿Qué letra representa mejor  $\frac{4}{4}$

b. ¿Qué letra representa mejor  $\frac{1}{4}$



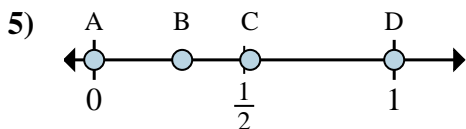
a. ¿Qué letra representa mejor  $\frac{5}{6}$

b. ¿Qué letra representa mejor  $\frac{4}{6}$



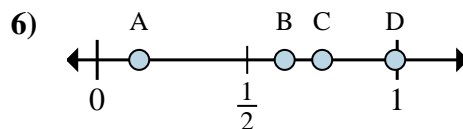
a. ¿Qué letra representa mejor  $\frac{3}{3}$

b. ¿Qué letra representa mejor  $\frac{1}{3}$



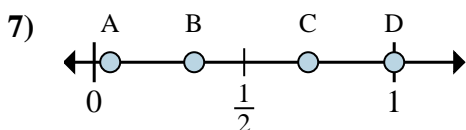
a. ¿Qué letra representa mejor  $\frac{0}{2}$

b. ¿Qué letra representa mejor  $\frac{2}{2}$



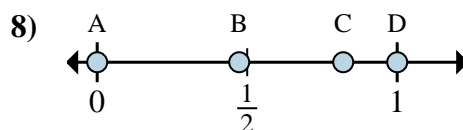
a. ¿Qué letra representa mejor  $\frac{6}{8}$

b. ¿Qué letra representa mejor  $\frac{5}{8}$



a. ¿Qué letra representa mejor  $\frac{1}{3}$

b. ¿Qué letra representa mejor  $\frac{3}{3}$



a. ¿Qué letra representa mejor  $\frac{0}{2}$

b. ¿Qué letra representa mejor  $\frac{2}{2}$

1. \_\_\_\_\_

2. \_\_\_\_\_

3. \_\_\_\_\_

4. \_\_\_\_\_

5. \_\_\_\_\_

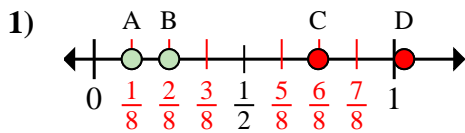
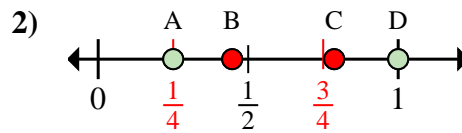
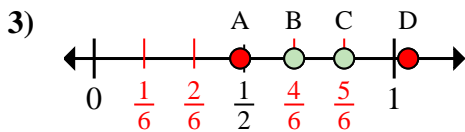
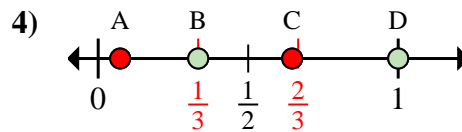
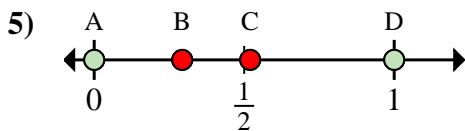
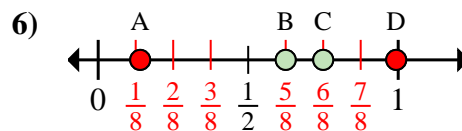
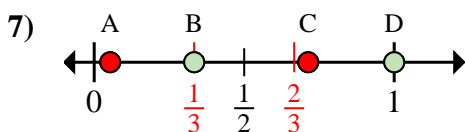
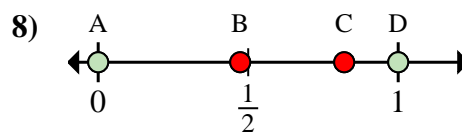
6. \_\_\_\_\_

7. \_\_\_\_\_

8. \_\_\_\_\_



Determina cuál letra mejor muestra la ubicación de la fracción.

**Respuestas**a. ¿Qué letra representa mejor  $\frac{1}{8}$ b. ¿Qué letra representa mejor  $\frac{2}{8}$ a. ¿Qué letra representa mejor  $\frac{4}{4}$ b. ¿Qué letra representa mejor  $\frac{1}{4}$ a. ¿Qué letra representa mejor  $\frac{5}{6}$ b. ¿Qué letra representa mejor  $\frac{4}{6}$ a. ¿Qué letra representa mejor  $\frac{3}{3}$ b. ¿Qué letra representa mejor  $\frac{1}{3}$ a. ¿Qué letra representa mejor  $\frac{0}{2}$ b. ¿Qué letra representa mejor  $\frac{2}{2}$ a. ¿Qué letra representa mejor  $\frac{6}{8}$ b. ¿Qué letra representa mejor  $\frac{5}{8}$ a. ¿Qué letra representa mejor  $\frac{1}{3}$ b. ¿Qué letra representa mejor  $\frac{3}{3}$ a. ¿Qué letra representa mejor  $\frac{0}{2}$ b. ¿Qué letra representa mejor  $\frac{2}{2}$ 1. A B2. D A3. C B4. D B5. A D6. C B7. B D8. A D